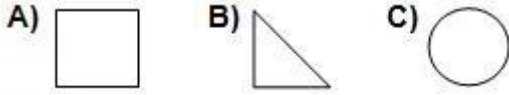


AÇI VE ÇEŞİTLERİ TESTİ

1. Aşağıdakilerden hangisinin açısı yoktur?

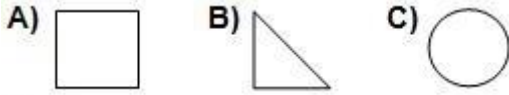


2. Aşağıdaki saatlerin gösterdiği açılar sırası ile hangi seçenekte doğru olarak verilmiştir.



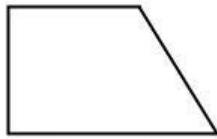
- A) Geniş açı - Dik açı - Dar açı
B) Dar açı - Geniş açı - Doğru açı
C) Geniş açı - Dar açı - Doğru açı

3. "V" harfinde bulunan açının benzeri aşağıdaki şekillerden hangisinde vardır?



4. Şekilde kaç tane dik açı vardır?

- A) 2
B) 3
C) 4



5. Aşağıdaki şekilde hangi açı çeşidi yoktur?

- A) Dar açı
B) Geniş açı
C) Dik açı



6. Bir açının ölçüsü dik açıdan küçük ise1..... açıdır.

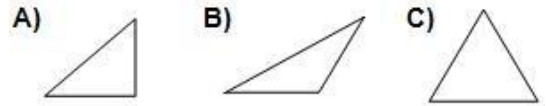
Bir açı bir doğrudan oluşuyorsa2..... açıdır.

Bir açının ölçüsü dik açıdan büyük ise3..... açıdır.

Yukarıdaki ifadelerde 1 , 2 ve 3 yerine hangi seçeneklerde yazılmalıdır?

	1	2	3
A)	dar	doğru	geniş
B)	geniş	dar	doğru
C)	dar	geniş	doğru

7. Aşağıdaki üçgenlerin hangisinde dik açı vardır?



- 8.



Yukarıda verilen doğrunun oluşturduğu açı aşağıdakilerden hangisidir?

- A) geniş açı
B) doğru açı
C) dar açı

9. Açının kenarları aşağıdakilerden hangisine örnektir?

- A) doğru
B) doğru parçası
C) ışın

10. Şekilde kaç tane açı vardır?

- A) 4
B) 5
C) 6

