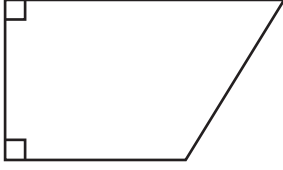


Adı Soyadı :

Açıları Sayma

Örnek:



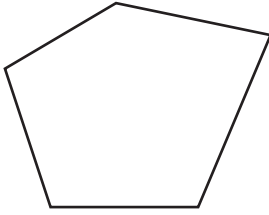
Dar Açı Sayısı: 1

Geniş Açı Sayısı: 1

Dik Açı Sayısı: 2

Aşağıda verilen şekillerin açı türlerini sayarak belirtilen yere yazınız.

1)

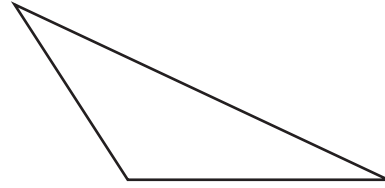


Dar Açı Sayısı: _____

Geniş Açı Sayısı: _____

Dik Açı Sayısı: _____

2)

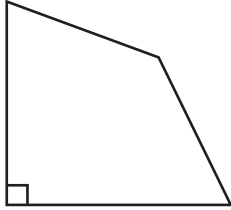


Dar Açı Sayısı: _____

Geniş Açı Sayısı: _____

Dik Açı Sayısı: _____

3)

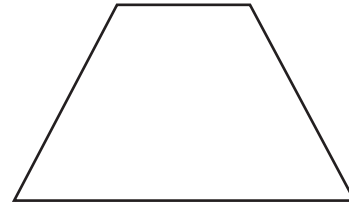


Dar Açı Sayısı: _____

Geniş Açı Sayısı: _____

Dik Açı Sayısı: _____

4)

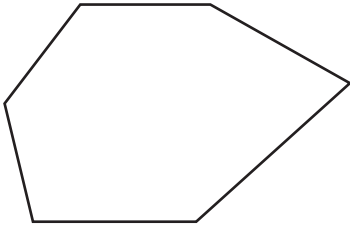


Dar Açı Sayısı: _____

Geniş Açı Sayısı: _____

Dik Açı Sayısı: _____

5)

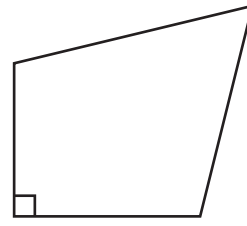


Dar Açı Sayısı: _____

Geniş Açı Sayısı: _____

Dik Açı Sayısı: _____

6)



Dar Açı Sayısı: _____

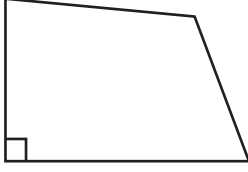
Geniş Açı Sayısı: _____

Dik Açı Sayısı: _____

Adı Soyadı :

Açıları Sayma

Örnek:



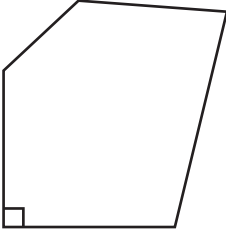
Dar Açı Sayısı: 2

Geniş Açı Sayısı: 1

Dik Açı Sayısı: 1

Aşağıda verilen şekillerin açı türlerini sayarak belirtilen yere yazınız.

1)

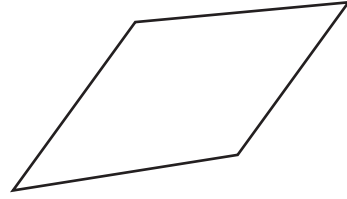


Dar Açı Sayısı: _____

Geniş Açı Sayısı: _____

Dik Açı Sayısı: _____

2)

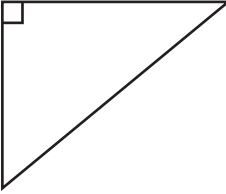


Dar Açı Sayısı: _____

Geniş Açı Sayısı: _____

Dik Açı Sayısı: _____

3)

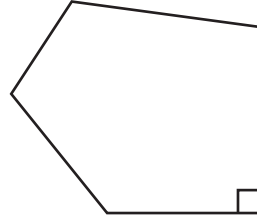


Dar Açı Sayısı: _____

Geniş Açı Sayısı: _____

Dik Açı Sayısı: _____

4)



Dar Açı Sayısı: _____

Geniş Açı Sayısı: _____

Dik Açı Sayısı: _____

5)




Dar Açı Sayısı: _____

Geniş Açı Sayısı: _____

Dik Açı Sayısı: _____

6)



Dar Açı Sayısı: _____

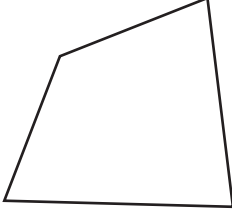
Geniş Açı Sayısı: _____

Dik Açı Sayısı: _____

Adı Soyadı :

Açıları Sayma

Örnek:



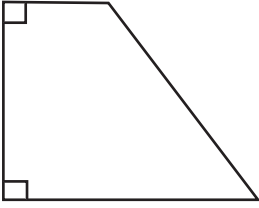
Dar Açı Sayısı: 3

Geniş Açı Sayısı: 1

Dik Açı Sayısı: 0

Aşağıda verilen şekillerin açı türlerini sayarak belirtilen yere yazınız.

1)

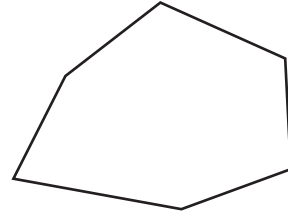


Dar Açı Sayısı: _____

Geniş Açı Sayısı: _____

Dik Açı Sayısı: _____

2)

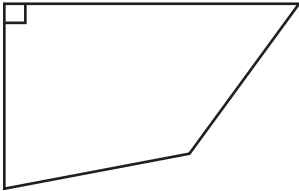


Dar Açı Sayısı: _____

Geniş Açı Sayısı: _____

Dik Açı Sayısı: _____

3)

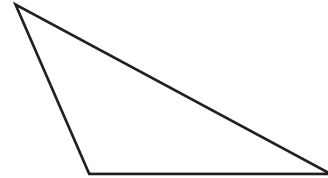


Dar Açı Sayısı: _____

Geniş Açı Sayısı: _____

Dik Açı Sayısı: _____

4)

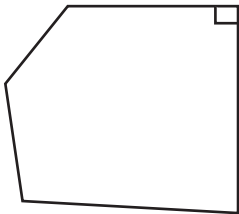


Dar Açı Sayısı: _____

Geniş Açı Sayısı: _____

Dik Açı Sayısı: _____

5)

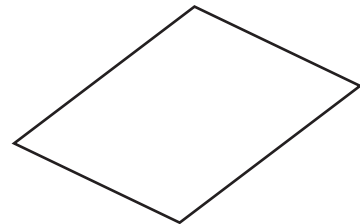


Dar Açı Sayısı: _____

Geniş Açı Sayısı: _____

Dik Açı Sayısı: _____

6)



Dar Açı Sayısı: _____

Geniş Açı Sayısı: _____

Dik Açı Sayısı: _____