

<p style="text-align: center;"><b>PİRİREİS İLKOKULU</b> <b>3/F SINIFI MATEMATİK KAZANIM DEĞERLENDİRME SINAVI</b></p>	
<b>ADI SOYADI:</b>	<b>NUMARASI:</b>

**NUMARASI:**

5. 826 sayısının onlar basamağındaki rakamı 5 artırırsak yeni oluşan sayı kaç olur? 6 puan

6. Aşağıda okunuşları verilen sayıları rakamlarla yazınız.  $4 \times 1 = 4$  puan

833 : .....  
397: .....  
155: .....  
649: .....  
571: .....  
802: .....


- $$\begin{array}{r} 265 \\ +104 \\ \hline \end{array}$$

- | Tek | Çift |
|-----|------|
|     |      |
|     |      |
|     |      |

- 501-150-185-410 .....  
572-725-527-275 .....  
458-448-469-452 .....  
260-620-206-602 .....  
393-936-693-963 .....


9. Aşağıdaki doğal sayının basamak değerlerini yazınız .  $3 \times 1 = 3$  puan

2 2 9

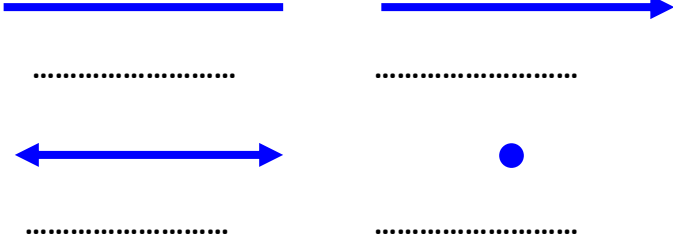


10. Aşağıdaki doğal sayının basamak adlarını yazınız .  $3 \times 1 = 3$  puan

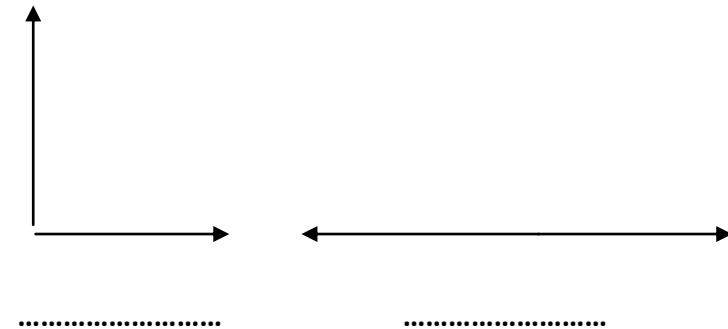
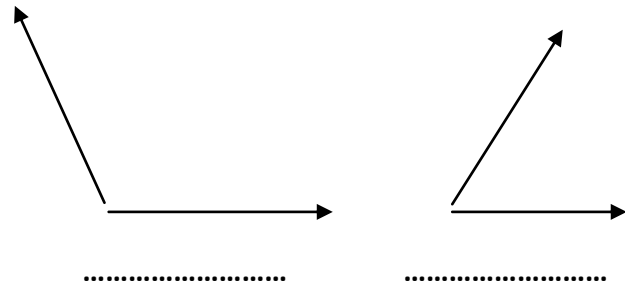
6 0 7



11. Aşağıda verilen şekillerin isimlerini altlarına yazınız.  $4 \times 2 = 8$  puan



12. Aşağıdaki açıların isimlerini noktalı yerlere yazınız.  $4 \times 2 = 8$  puan



13. Aşağıdaki ritmik saymalarda boş bırakılan yerleri doldurunuz.  $4 \times 2 = 8$  puan

6 – 12 – 18 – 24 – 30 – 36 – ..... – 48 – 54

7 – 14 – ..... – 21 – 28 – 35 – 42 – 49 – 56

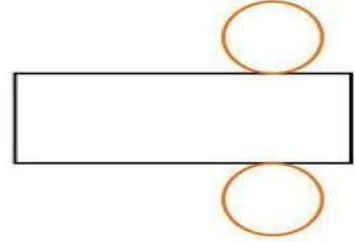
8 – 16 – 24 – 32 – 40 – 48 – ..... – 64 – 72

9 – 18 – 27 – 36 – 45 – 54 – ..... – 72 – 81

14. Okulumuzun duvarındaki Atatürk Resmi için aşağıdakilerden hangisi doğrudur? 5 Puan

A) Düzlem B) Eğri şekil C) Düzlem parçası

15.



Yukarıdaki şekil hangi geometrik cismin açılmış halidir? 5 Puan

A) Küp  
B) Silindir  
C) Koni

**Başarılar dilerim...**  
**Erkan ERDOĞAN**  
**3/F Sınıf Öğretmeni**