

Adı Soyadı :  
Sınıfı/No :

### 3. SINIF FEN BİLİMLERİ CANLILAR DÜNYASINA YOLCULUK

A. Doğru olan cümlelerin başına "D" yanlış olan cümlelerin başına "Y" harfini yazınız. (20 Puan)

- ( ) Varlıkları, canlı ve cansız varlıklar olmak üzere ikiye ayırabiliriz.
- ( ) Cansız varlıklarda canlı varlıklar gibi beslenirler ve büyürler.
- ( ) Bitkiler kendi besinlerini üreten canlılardır.
- ( ) Hava, su, toprak cansız varlıklara örnek verilebilir.
- ( ) Mahallemizde bulunan oyun parkı doğal çevredir.
- ( ) Doğal çevreyi korumak için atıklar dereye ve akarsulara atılmalıdır.
- ( ) Bilinçli tüketici kaynakları tasarruflu kullanır.
- ( ) Doğaya en çok zarar verenler insanlardır.
- ( ) Sağlıklı yaşamak için hazır yiyecekler(hamburger, tost) yemeliyiz.
- ( ) Kağıt, pil, cam, plastik gibi maddeleri geri dönüşüme göndermeliyiz.

B. Aşağıdaki kelimeleri uygun olan cümlelere yazınız. (20 Puan)

beslenme	üreme	boşaltım	yaprakları	solungaçları
büyürler	samanı	korunması	doğal çevreye	avlanma


- Sağlıklı bir yaşamın sürdürülebilmesi için doğal çevrenin..... gerekir.
- Sakla ....., gelir zamanı.
- ..... yolu ile canlılar kendi neslini devam ettirir.
- Bitkiler ..... ile solunum yapar.
- Bilinçsiz ..... hayvanların neslini tüketir.
- ..... canlıların temel ihtiyaçlarından biridir.
- Canlılar dünyaya geldikten sonra zamanla ..... ve gelişirler.
- İnsanların ..... organı böbreklerdir.
- Orman, göl, deniz ve dağlar ..... örnektir.
- Balıklar, suyun içinde ..... ile solunum yaparlar.

C. Aşağıda verilen kelimeleri uygun cümleler ile eşleştiriniz. (10 Puan)

- Bakteri ☐ Nefes alıp verme olayı.
- Mikroskop ☐ Kendi besinlerini kendileri üretir.
- Bitki ☐ Gözümüzle göremediğimiz canlıları görmemizi sağlar.
- Boşaltım ☐ Sütün yoğurda ve peynire dönüşmesini sağlar.
- Solunum ☐ Canlıların zararlı atıkları dışarı atma olayı.

D. Aşağıdaki çoktan seçmeli soruları cevaplayınız.(50 Puan)

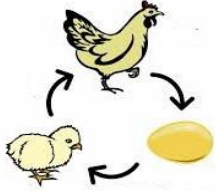
1.



Yukarıdakilerden kaç tanesi canlı varlıktır?

- A) 1      B) 2      C) 3

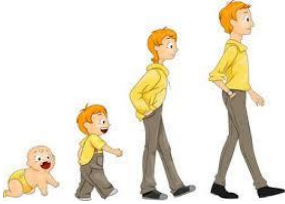
2.



Yukarıdaki görsele göre canlıların hangi özelliğinden söz edilebilir?

- A) Beslenme  
B) Üreme  
C) Hareket etme

3.



Yukarıdaki görsele göre canlıların hangi özelliğinden söz edebiliriz?

- A) Büyüme  
B) Beslenme  
C) Solunum yapma

4.

Aşağıdakilerden hangisi temel ihtiyaçlarımızdan biri **değildir**?

- A) Beslenme  
B) Barınma  
C) Bilgisayar

5.

Aşağıda verilen açıklamalardan hangisi **yanlıştır**?

- A) Canlılar her ortamda yaşayabilir.  
B) Çevremizde bir çok canlı varlık vardır.  
C) Çevremizde bir çok cansız varlık vardır.

6. Aşağıdaki görsellerden hangisi sağlıklı bir çevreye aittir?

A)



B)



C)



7.

- 1.Bitkiler cansız varlıklardır.  
2.Eşyalar cansız varlıklardır.  
3.Hayvanlar canlı varlıklardır.

Yukarıdaki bilgilerden hangileri doğrudur?

- A) 1 - 2      B) 2 - 3      C) 1 - 3

8.

Aşağıdaki varlıklardan hangisi uyarıcılara tepki **vermez**?

A)



B)



C)



9.

Bilinçli tüketici olduğunu söyleyen biri aşağıdakilerden hangisini **yapmaz**?

- A) Dişini fırçalarken çeşmeyi açık bırakmaz.  
B) Hava kararmadan lambaları açmaz.  
C) Şehir içi ulaşımda toplu taşıma araçlarını kullanmaz.

10.

Aşağıdakilerden hangisi hastalıklardan korunmak için yapılabilecekler arasında yer **almaz**?

- A) Terliyen su içmeliyiz.  
B) Havasız ortamlarda durmamalıyız.  
C) Açıkta satılan yiyeceklerden yememeliyiz.