

MADDE

Maddelerin **sert ya da yumuşak** oluşunu dokunarak anlayabiliriz. Pamuk, kazak, kedinin tüyleri yumuşaktır. Demir, taş, kalem, kömür serttir. Yumuşak maddeler şekil alır, çizilebilir, kesilebilir.

Kuvvet uygulayınca şekli değişen, kuvvet kalkınca tekrar eski haline maddeler **esnek** maddelerdir. Balon, sünger, silgi, paket lastiği esnektir. Esnek maddeler kolayca bükülebilir ve uzayıp kısalabilir.

Kuvvet uygulayınca şekli bozulan ve tekrar eski haline dönmeyen maddeler **kırılğan** maddelerdir. Cam bardak ve porselen tabak kırılğan maddelerdir. Her maddenin kırılğanlığı farklı olabilir. Bazıları kolay bazıları zor kırılabilir.

Aşağıdaki cümlelerden doğru olanlara D, yanlış olanlara Y yazınız.

- (...) Maddeleri sadece renklerine göre ayırabiliriz.
- (...) Esnek maddelere kuvvet uygulanınca kırılır.
- (...) Demir, taş, tahta sert maddelerdir.
- (...) Sert maddeler kolaylıkla şekil alır.
- (...) Lastik top, pamuk ve silgi kırılğan maddedir.
- (...) Her maddenin kırılğanlığı farklıdır.

Varlık	Özellikleri
Balon
Şeker
Ayna
Soğan
Altın

ATATÜRK ANLATIYOR

Askeri Rüştîye sınavına girip oraya kabul edildim. Kesin kaydımın yapılması için, annemin imzasını atıp onaylaması gerekiyordu. Annem ise "Oğlumu bu okula göndermem!" deyip imza atmaya bir türlü yanaşmıyordu. Annemin direnmesi üzerine, "Anne, hani her zaman söylüyorsun; doğduğumda babam bana ne armağan etmişti?" diye sordum. "Kılıç..."

"O kılıcı babamın elinden alıp sen nereye koymuştun?"

"Kundağının başucuna."

Çok duygulandım. Gözlerim yaşardı. Ağlamaklı bir sesle, "Anne, demek babam benim asker olmamı istiyordu. İçimde öyle bir duygu var; ben asker doğdum, asker olarak öleceğimi!" dedim.

Ana yüreği ne kadar dayanır; onun da gözleri yaşardı. Askeri Rüştîye'ye gitmeme izin verdiğini o halinden anlamıştım. Eğilip elini öptüm, "Hayır duanı benden esirgeme, güzel annem..." dedim, sevinerek yanından ayrıldım.

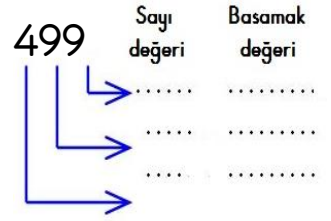
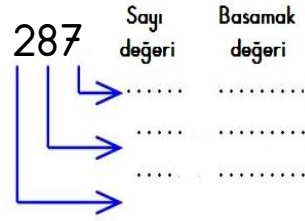
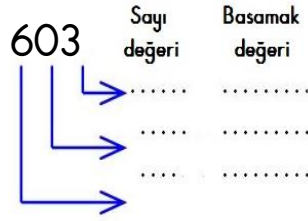
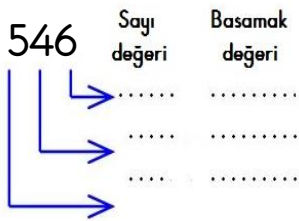
Adnan Binyazar/ Atatürk Anlatıyor



- 1- Mustafa Kemal hangi sınavı kazanmış?.....
- 2- Mustafa bu okula neden kayıt yaptıramıyor?.....
- 3- Mustafa doğduğunda babası ona ne armağan ediyor?.....
- 4- Annesi bu armağanı nereye koyuyor?.....
- 5-Mustafa'nın içinde nasıl bir duygu varmış?.....
- 6- Son olarak Mustafa annesinden ne istemiş?.....


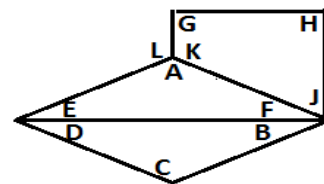



71 + 99	75 + 49	85 + 67	82 + 69
25 + 95	94 + 27	23 + 87	48 + 77
86 + 65	81 + 69	97 + 68	39 + 89
26 + 95	83 + 49	86 + 34	64 + 69
78 + 75	38 + 93	19 + 97	18 + 98



7 onluk, 8 yüzlük, 5 birlikten oluşan sayı	875	Sekiz yüz yetmiş beş
5 onluk, 4 birlik, 1 yüzlükten oluşan sayı		
4 birlik, 2 onluk, 6 yüzlükten oluşan sayı		
9 yüzlük, 4 onluk, 6 birlikten oluşan sayı		
3 onluk, 1 birlik, 2 yüzlükten oluşan sayı		
5 yüzlük, 0 onluk, 1 birlikten oluşan sayı		
7 onluk, 7 birlik, 9 onluktan oluşan sayı		

Üç açısı olan şekilleri kırmızı,
Açısı olmayan şekilleri yeşil,
Bütün kenarları eşit olan şekilleri sarı
Uzun ve kısa kenarları olan şekilleri mavi



A açısı açıdır. B açısı açıdır.
C açısı açıdır. D açısı açıdır.
E açısı açıdır. F açısı açıdır.
G açısı açıdır. H açısı açıdır.
J açısı açıdır. K açısı açıdır.
L açısı açıdır.