

01-TÜRKÇE TESTİ

TUĞÇE OKULDA

Gökyüzü pırıl pırıldı. Yıldızlar parlayan bir lamba gibiydi. Ay bütün yıldızlara annelik ediyordu. Dünya'ya sevgiyle bakıyordu. Tuğçe bu güzelliklere hayranlıkla bakmasına rağmen o bir an önce sabah olmasını ve Güneş'in doğmasını istiyordu. Çünkü çok sevdiği okuluna gidecekti.

NOT: İlk üç soruyu parçaya göre cevaplayınız.

1) Aşağıdakilerden hangisi parlayan lambaya benzetilmiştir?

A)Ay B)Yıldız C)Güneş

2-Yıldızlara annelik yapan hangisidir?

A)Dünya B)Güneş C)Ay

3)Metinde kaç tane gök cisminin adı geçmektedir?

A)Üç B)Dört C)Beş

4) "Kitap" sözcüğünün sonuna aşağıdaki eklerden hangisini getirirsek "Kitap konulanyer" anlamına gelen bir sözcük oluşur?

A) -luk B) -cı C) -lık

5) Aşağıdakilerden hangisi birleşik sözcüktür?

A) Başbakan
B) Marangoz
C)Buzluk

6) Aşağıdaki cümlelerin hangisinde neden - sonuç ilişkisi yoktur?

A) Rüzgar esince salgın hastalıklar artar.
B) Trafik kurallarına uyulmazsa kazalar olur.
C) Amcam hediye almayı çok sever.

7) Hangi cümlede çoğul kelime kullanılmamıştır?

A) Kardeşim bana her zaman güler.
B) Bahçedeki kuşlar cik cik ötüyor.
C) Annem sofrayı siler, ablam gömlekleri ütüler.

8) "Yüz " sözcüğü hangi cümlede farklı anlamda kullanılmıştır?

A) Bugün havuzda yüzelim mi?
B) Babam çok güzel yüzüyor.
C) Dedem kurbanın derisini yüzdü.

9) Aşağıdaki cümlelerin hangisinde "neden" ve "ne" sorularından her ikisinin de yanıtı vardır?

A) Yarın okula gidemeyeceğim.
B) Kalemim olmadığından yazı yazamadı .
C) Zıplamayan bir top aldım.

10) "annem, ahmet'e ve bana seslendi. " cümlesinde kaç tane kelime büyük yazılmalıdır?

A)2 B)3 C)4

SORULARIN DEVAMI ARKA SAYFADA, LÜTFEN SAYFAYI ÇEVİRİNİZ.

11) Yaşlı kadın soğuk kış gecelerinde yapayalnız evinde oğlunu özliyordu.

Bu cümlede hangi sorunun cevabı vardır?

A) Niçin? B) Kim? C) Nasıl?

12) Aşağıdaki cümlelerin hangisinde zıt anlamlı sözcükler kullanmıştır?

**A) Genç kadın çocuklara şeker dağıttı.
B) Alıcı tezgâha yaklaşınca satıcı ayağa kalktı
C) Alt kattan taşınanların yerine kim gelecek?**

13) Aşağıdaki cümlelerin hangisinde büyük harflerin kullanımıyla ilgili yanlışlık yapılmıştır?

**A) Arkadaşlarımın Annesi bana pasta verdi.
B) Onlar, İzmir'e taşınacaklar.
C) "Suna'nın Serçeleri" adlı kitabı okuyorum.**

14) Aşağıdaki bilgilerden hangisi yanlıştır ?

**A) Şehir adlarının ilk harfleri büyük yazılır
B) Dağ, göl adlarının ilk harfleri büyük yazılır
C) Meyve adlarının ilk harfleri büyük yazılır**

15) Aşağıdaki cümlelerin hangisinde karşılaştırma yapılmamıştır?

**A) Sen, benden hızlı koşuyorsun.
B) Çayı kahveden fazla severim.
C) Onu uzun zamandan beri görmedim.**

16) Aşağıdaki cümlelerin hangisinde ön ad (sıfat) yoktur?

**A) Yeşil biberlerin hepsi acı değil.
B) Şahin'in resmi çok güzeldi.
C) Böyle güzel okul sevilmez mi?**

**17) "eski kitap – yeşil örtü – beş kalem – kırmızı çanta – uzun masa – sarı silgi"
Yukarıdaki söz gruplarından kaç tanesinde varlığın rengini bildiren sözcük kullanılmıştır?**

A) 3 B) 4 C) 5

18) Hangi sözcükte büyük ünlü uyumu vardır?

**A) adalet
B) kestane
C) kiremit**

19) Aşağıdaki cümlelerin hangisinde soyut anlamlı sözcük yoktur?


**A) Arkadaşına duyduğu özlem bitmiyor.
B) Ali, geleceğe dair büyük umutlar besliyor.
C) Mahalledeki çocuklar parka gittiler.**

20) "sınıf" kelimesi hangi cümlede topluluk ismi olarak kullanılmıştır?

**A)Bütün sınıf, bu duruma üzüldü.
B)Bugün sınıf boyanacak.
C)Bayram için sınıfı süsledik.**

NOT:TÜRKÇE TESTİ BİTTİ, MATEMATİK TESTİNE GEÇİNİZ!

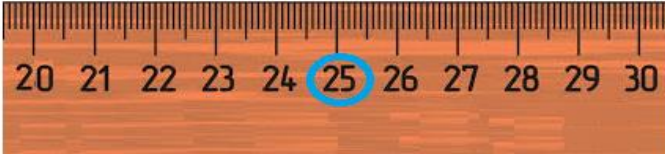
02-MATEMATİK TESTİ



Yukarıdaki sayılardan hangileri 80'e daha yakındır?

- A) 75 76 77
B) 72 73 74
C) 71 72 73

2) Cetvel üzerinde renkli yazılan sayı, hangi onluğa daha uzaktır?



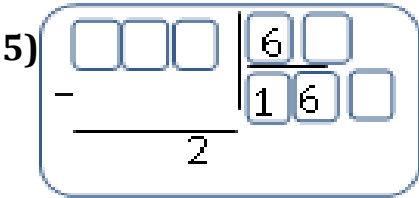
- A) 40 B) 30 C) 20

3) Hülya 96 sayfalık kitabın 24 sayfasını okudu. Kalan sayfaları 4 günde bitirebilmesi için günde yaklaşık kaç sayfa okumalıdır?

- A) 20 B) 18 C) 15

4) Sınıfımızdaki 28 öğrencinin yarısının 4 fazlası erkek öğrencidir. Sınıfımızdaki kız öğrenci sayısı kaçtır?

- A) 18 B) 12 C) 14



Yukarıdaki bölme işleminde bölünen kaçtır?

- A) 88 B) 96 C) 98

6) 80 litrelik kolonya, her biri 3 litre olan şişelere boşaltılıyor. Kaç şişe gerekir ve kaç litre artar?

- A) 26 şişe kullanılır, 2 litre artar.
B) 27 şişe kullanılır, 3 litre artar.
C) 30 şişe kullanılır, 2 litre artar.

7) Bir bölme işleminde bölen sayı 9, bölüm 7'dir. Kalan sayı en çok kaç olabilir?

- A) 6
B) 7
C) 8

8) Hamdi'nin 194 bilyesi vardı. Ablası bir miktar bilye daha verince 250 bilyesi oldu. Hamdi'ye ablası kaç bilye vermiştir?

- A) 76 B) 66 C) 56

9) Köydeki bahçemizde 68 elma ağacı, elma ağacından 15 eksik armut ağacı, armut ağacından 14 eksik erik ağacı vardır.

Bahçedeki ağaçların toplamı kaçtır?

- A) 160 B) 163 C) 180

10) Aşağıdaki işlemlerden hangisi yanlıştır?

- A) $625 - 126 = 499$
B) $907 - 408 = 490$
C) $340 - 175 = 165$

NOT: SORULARIN DEVAMI ARKA SAYFADA, LÜTFEN SAYFAYI ÇEVİRİNİZ.

11) “11 – 24 – 37 – 50 – ☼ – 76- 89”
Yukarıda örüntüde ☼ yerine hangi
sayı gelmelidir?

- A) 58
- B) 60
- C) 63

12) Aşağıdaki Romen Rakamlarından
hangisi tek sayıdır?

- A) VIII
- B) XV
- C) XX

13) Aşağıdaki sayılardan hangisinin
Romen rakamıyla gösterilmesinde
yanlışlık yapılmıştır?

- A) sekiz : IIX
- B) on iki : XII
- C) dört : IV

14) 40 kg çilekten 8 kg çilek reçeli
çıkarsa 36 kg çilek reçeli için kaç kg
çilek gereklidir?

- A) 320 kg
- B) 180 kg
- C) 190 kg

15) Aşağıdaki seçeneklerden
hangisinde çift doğal sayılar bir arada
verilmiştir?

- A) 265–341–457
- B) 900–426–235
- C) 990–732—556

16) 65M sayısı üç basamaklı çift doğal
sayıdır. Buna göre M yerine aşağıdaki
rakamlardan hangisi yazılamaz?

- A) 1
- B) 0
- C) 8

17) “225 X 3 > B “

Yukarıdaki işlemde B yerine yazılabilecek en
büyük sayı kaçtır?

- A) 674
- B) 675
- C) 676

18) Aşağıdakilerden hangileri doğrudur?

- I. Doğru parçası iki ucundan sınırlıdır.
- II. Doğru iki ucundan da sınırsızdır.
- III. Işın bir ucundan sınırlı bir ucundan sınırsızdır.

- A) I ve II
- B) II ve III
- C) I, II ve III

19) Üç basamaklı en küçük çift sayının
dört katının, yarısının 49 eksiği hangi
sayıdır?

- A) 200
- B) 151
- C) 161

20) Yarısı 69 olan cevizlerin 4 katının 79
fazlası kaçtır?

- A) 621
- B) 631
- C) 552

**NOT:MATEMATİK TESTİ BİTTİ, HAYAT
BİLGİSİ TESTİNE GEÇİNİZ!**

03-HAYAT BİLGİSİ TESTİ

1) Aşağıdakilerden hangisi yanlıştır?

- A) Büyüdükçe boyum uzar, kütle artar.
B) Büyüdükçe daha çok uyuruz.
C) Büyüdükçe görev ve sorumluluklarım artar.

2) Aşağıdakilerden hangisinin icadından sonra uzun ve zor yolculuklar kolaylaşmıştır?

- A) telefon
B) tekerlek
C) bilgisayar

3) Aşağıdakilerden hangisi fiziksel bir olay değildir?

- A) saç rengi
B) kilo – boy
C) yapmaktan hoşlandığımız şeyler

4) I- Derslerde başarılı olmamızı sağlar.

II- Daha düzenli çalışmamızı sağlar.

III- Çalışmamız gereken konuyu bilmemizi sağlar.

Yukarıdaki ifadelerden hangileri planlı çalışmamızın sonucudur?

- A) yalnız I
B) yalnız II
C) I, II ve III

5) I. Reklamlara bakarak alışveriş yaparız.

II. İhtiyacımızı göz önünde tutarak alışveriş yaparız.

III. Kaliteye ve fiyata bakarak alışveriş yaparız.

Yukarıdaki ifadelerden hangileri doğrudur?

- A) I ve III B) II ve III C) I ve II

6) I-Anne, baba ve çocuktan oluşan aile, küçük ailedir.

II-Ailelerden toplumlar oluşur.

III- Bütün aileler aynı özelliğe sahiptir.

Yukarıdakilerden kaç aile için söylenebilir?

- A) 3 B) 2 C) 1

7) Tasarruf yapmamızın nedeni aşağıdakilerden hangisi değildir?

- A) Kaynaklarımızı tüketmemek.
B) Arkadaşlarımızı mutlu etmek
C) Ülke ekonomisine katkıda bulunmak

8) Aşağıdaki ifadelerden hangisi yanlıştır?

- A) Planlı yaşamak başarıyı artırır.
B) Oyun ve ders için ayırdığımız zaman dengeli olmalıdır.
C) Zamanımızı planlamanın başarıya etkisi yoktur.

9) Aşağıdakilerden hangisi başkasının haklarına saygılı olmayan bir kişiye örnek olamaz?

- A) Öğretmenden söz isteyerek konuşmak.
B) Konuşan kişinin sözünü kesmek
C) Yanlış davranışımız sonucu özür dilemek.

10) I. Güneş

II. Kutup Yıldızı

III. Pusula

Gece bulutsuz havada yukarıdakilerden hangilerinden yararlanarak yönümüzü buluruz?

- A) I ve II B) II ve III C) I ve III

NOT: SORULARIN DEVAMI ARKA SAYFADA, LÜTFEN SAYFAYI ÇEVİRİNİZ.

11) Güneş'in doğduğu yöne sol kolumuzu uzatırsak önümüz hangi yönü gösterir?

- A) doğu
- B) güney
- C) kuzey

12) Orhan, piknik yaparken öğlen vakti ormanda kaybolmuştur. Orhan yönünü aşağıdakilerden hangisine bakarak bulabilir?

- A) Ağaç ve kaya yosunlarına
- B) Kutup Yıldızı'na
- C) Kuşların yuvalarına

13) Aşağıdakilerden hangisi aile içinde bize düşen görevlerden değildir?

- A) okula gitmek
- B) bankaya para yatırmak
- C) ev işlerinde yardımcı olmak

14) “ Evde hayvan beslemek,.....duygularını geliştirir.” cümlesindeki noktalı yere aşağıdakilerden hangisi yazılmalıdır?

- A) kıskançlık
- B) Kardeşlik
- C) sevgi

15) İnsanlar duygularını ifade ederken aşağıdaki iletişim türlerinden en çok hangisini kullanırlar?

- A) Sözsüz iletişim
- B) Sözlü iletişim
- C) Yazılı iletişim

16) “Ceylin çok özlediği dayısına mektup yazıyor.”

Ceylin hangi iletişim yoluyla dayısıyla iletişim kurmuştur?

- A) Sözlü İletişim
- B) Yazılı İletişim
- C) Sözsüz İletişim

17) Ailede kararlar alınırken yapılması gereken en uygun davranış aşağıdakilerden hangisidir?

- A) Aile reisinin fikri önemsenmelidir.
- B) Anne ve babanın fikirleri önemsenmelidir.
- C) Aile bireylerinin fikirleri önemsenmelidir.

18) Aşağıdakilerden hangisi beden dilini kullanmaya örnek gösterilebilir?

- A) Babanın çiviye çakarken elini kaldırması.
- B) Çocuğun hastalıktan dolayı ateşi çıkması.
- C) Öğretmenin kızdığında kaşlarını çatması.

19) Aşağıdakilerden hangisi Atatürk'ün kazandırdığı hak ve hürriyetlerdendir?

- A) Yaşama Hürriyeti
- B) Beslenme Hakkı
- C) Seçme Seçilme Hakkı

20) “Miraç evde yüksek sesle müzik dinlemektedir. Komşular bu durumdan rahatsız olmaktadır.”

Miraç bu durum karşısında ne yapmalıdır?

- A) Komşulardan özür dileyip müzik dinlemeye devam etmelidir.
- B) Müziğin sesini kısmalıdır.
- C) Komşularını umursamamalıdır.

NOT: HAYAT BİLGİSİ TESTİ BİTTİ, FEN BİLİMLERİ TESTİNE GEÇİNİZ!

04-FEN BİLİMLERİ TESTİ

1) Aşağıda verilenlerden hangisinde kuvvet etkisiyle kalıcı şekil değişikliği gerçekleşmez?

- A) Yay
- B) Cam
- C) Teneke kutu

2) Aşağıda verilen bilgilerden hangisi yanlıştır?

- A) Market arabasını sürmek için yaptığımız kuvvet çekmedir.
- B) Salıncığın hareketi, sallanmadır.
- C) Bisiklet tekerinin yaptığı hareket dönmedir.

3) Aşağıda verilenlerden hangisinde kuvvet etkisiyle kalıcı şekil değişikliği gerçekleşir?

- A) Lastiğin gerilmesi
- B) Süngerin sıkılması
- C) Masanın kırılması

4) Aşağıdaki öğrencilerin verdiği bilgilerden hangisi yanlıştır?

- A)Azra: Katı maddelerin belirli bir şekilleri yoktur?
- B)Hasan: Sıvı maddeler akışkandır.
- C)Ezgi: Gazlar konuldukları kabı doldurur.

5) Aşağıdaki maddelerden hangisi diğerlerinden farklı haldedir?

- A) Zeytinyağı
- B) Limonata
- C) Un

6) Aşağıdakilerden hangisine çekme kuvveti uygulanmıştır?

- A)Yüzüğü parmandan çıkarmak.
- B)Topu kaleye atmak.
- C)Tabakları rafa koymak

7) ****doğar – büyür – solunum yapar- beslenir****


Verilen özellikler aşağıdaki varlıklardan hangisine ait olamaz ?



8) Bitkiler solunum yaparken nelerini kullanır ?

- A) yapraklarını
- B) solungaçlarını
- C) akciğerlerini

9) Hangisi ses kaynağı değildir ?



10) Aşağıdaki ulaşım araçlarından hangisinin çıkardığı sesin şiddeti diğerlerinden daha yüksektir?

- A) Motosiklet
- B) Kamyon
- C) Uçak

NOT: SORULARIN DEVAMI ARKA SAYFADA, LÜTFEN SAYFAYI ÇEVİRİNİZ.

11) Çok iyi duyamayan birine hangi aracı kullanmasını önerirsiniz?

- A) Mikrofon
- B) İşitme cihazı
- C) Megafon

12) Aşağıdaki davranışlardan hangisi sağlıklı beslenen bir insan davranışıdır?

- A) Her gün etli yemekler yemek
- B) Her yiyeceğin doğalını tercih etmek
- C) Hamburger, patates kızartması ve asitli içecekler tüketmek

13) I. Porselen fincan kırılabilir ve opaktır.
II. Demir bilye berktir.
III. Pencere camı saydam ve yumuşaktır.
Yukarıdaki bilgilerden hangileri doğrudur?

- A) I ve II
- B) I ve III
- C) II ve III

14) * Tuz * Su
* Toz Şeker * benzin
* Tahta * Buz

Yukarıda verilen maddelerden kaç akıcı özelliktedir?

- A) 5 B) 4 C) 3

15) Hande: Saydam maddeler ışığı geçiremez.

Kadir: Opak maddeler ışığı geçirir.

Sevinç: Parlak maddeler ışığı yansıtır.

Yukarıdaki öğrencilerden hangisinin verdiği bilgi doğrudur?

- A)Hande B)Kadir C)Sevinç

16) Aşağıdakilerden hangisi maddeyi niteleyen özelliklerden değildir?

- A)Renk ve Koku
- B)Erime ve donma
- C)Sağlamlık ve kırılabilirlik

17) Aşağıdakilerden hangisi duyu organımız değildir?



18) Aşağıdaki ifadelerden hangisi yanlıştır?

- A) Taş katı bir maddedir.
- B) Sıvılar bulundukları kabın şeklini alırlar.
- C) Sıvılar, soğuk bir ortama geçtiklerinde gaz halini alır.

19) Aşağıdakilerden hangisi maddelerin hal değiştirmesine örnek değildir?

- A) Kömürün kül haline gelmesi.
- B) Buzun su haline gelmesi.
- C) Mumun erimesi.

20) "Odada dökülen bir kolonyanın kokusunu odanın her yerinden hissedebiliriz." Bu durum nasıl açıklanabilir?

- A) Katıların belli bir şekli vardır.
- B) Sıvıların belli bir şekli yoktur.
- C) Gazlar bulundukları ortama yayılır.

SINAVINIZ BİTTİ, CEVAPLARINIZI KONTROL EDİNİZ. BAŞARILAR DİLERİM.