


3/ SINIFI

1.DÖNEM

3. DENEME SINAVI



Açıklamalar:

1. Deneme sınavında Hayat Bilgisi 20 soru, Türkçe 20 soru, Fen Bilimleri 20 soru Matematik 20 soru olmak üzere 80 soru vardır.
2. Sınav süresi 100 dakikadır.
3. Sınavda 3 yanlış cevap, 1 doğruyu götürmektedir.
4. Her sorunun bir doğru cevabı bulunmaktadır. Cevap kağıdında sadece bir şıkkı işaretleyiniz.

HAYAT BİLGİSİ

1. "Ülkemizi de tıpkı evimiz ve okulumuz gibi olarak kabul etmeliyiz." **Cümlesi aşağıdakilerden hangisiyle tamamlanabilir?**

A) yuva
B) bina
C) yapı

2. Aşağıdakilerden hangisi ana yönlerden değildir?

A) Doğu
B) Güney
C) Kuzeybatı



3. Bir insanın fiziksel özelliklerinden hangisi zaman içerisinde değişmez?

A) Cinsiyet
B) Boy
C) Kilo



4. Kış mevsimi hangi ayla başlar?

A) Kasım
B) Aralık
C) Ocak



5. **Güven duyulan bir kişi olmak için,**

★ :Verdiğimiz sözü tutmalıyız.
▲ :Yalan söylememeliyiz.
♥ :Sadece kendi çıkarlarımızı düşünmeliyiz.

ifadelerinden hangileri doğrudur?

A) ★ ve ▲ B) ▲ ve ♥

C) ★ , ▲ ve ♥

6. **Kuduz aşısını** aşağıdaki bilim adamlarından hangisi bulmuştur?

A) Edison
B) Pasteur
C) Graham Bell




7. Aşağıdakilerden hangisine bakarak yönümüzü bulamayız?

A) Kutup Yıldızı

B) Ay



C) Güneş



8. Seçme ve seçilme hakkını bizlere sağlayan kimdir?

A) Öğretmenimiz
B) Atatürk
C) Okul Müdürü



- 9.



Haritaların üst kısmı hangi yönü gösterir?

A) Doğu
B) Batı
C) Kuzey

- 10.



Bayrağımıza neden saygı göstermeliyiz?

A) Rengi kırmızı olduğu için
B) Güzel görüldüğü için
C) Bağımsızlığımızın sembolü olduğu için.

11. Tutumlu bir insan aşağıdakilerden hangisini yapmaz?

- A) Gördüğü her şeyi alır.
- B) Savurganlık yapmaz.
- C) Kumbarasında para biriktirir.






12. Elimizdeki kaynakları ölçülü ve gerektiği gibi kullanmaya ne denir?

- A) Cimri
- B) Pinti
- C) Tutumlu

13. Duygu ve düşüncelerimizi birbirimize aktarmaya ne denir?

- A) Dayanışma
- B) İletişim
- C) Dostluk

14. Aşağıdakilerden hangisi canlıların temel ihtiyaçlarından değildir?

- A)  Beslenme
- B)  Barınma
- C)  Oyun

15.



Topluma yön vermiş, etkili olmuş kişiler vardır. Bu tür kişilere ne ad verilir?

- A) Lider
- B) Birey
- C) Üye

16.



"Öğrenciler arasındaki farklılıklar kadar benzerliklerin de olduğunu kabul etmeliyiz."İfadesinde noktalı yere aşağıdakilerden hangisi yazılmalıdır?

- A) doğal
- B) tuhaf
- C) gereksiz

17. Atatürk'ün cumhuriyet yönetimini seçmesinin nedenlerinden biri aşağıdakilerden hangisidir?

- A) Askerliğe önem verilmesi
- B) En iyi yönetim biçimi olması
- C) Kılık kıyafet özgürlüğü sağlaması

18.

1. Cumhuriyetin ilanı
2. Atatürk'ün Samsun'a çıkması
3. Atatürk'ün ölümü

Yukarıdaki olayları oluş sırasına göre sıralarsak hangi seçenekteki sıralama doğru olur.

- A) 1 - 2 - 3
- B) 2 - 3 - 1
- C) 2 - 1 - 3

19.



Pusulayla ilgili verilen aşağıdaki bilgilerden hangisi doğrudur?

- A) Koyu renkli ucu kuzeyi gösterir.
- B) Koyu renkli ucu doğuyu gösterir.
- C) Koyu renkli ucu batıyı gösterir.

20. Aşağıdakilerden hangisi sağlık görevlilerinden değildir?

- A) Eczacı
- B) Hemşire
- C) Postacı

FEN BİLİMLERİ

1. Aşağıdaki ışık kaynaklarından hangisi doğal ışık kaynağıdır?

A)



B)



C)



2. Aşağıdaki ses kaynaklarından hangisi yapay ses kaynağıdır?

A)



B)

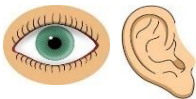


C)



3. Çevremizdeki ışık ve ses kaynaklarını algılamamızı sağlayan organlarımız hangileridir?

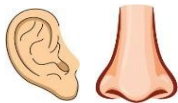
A)



B)



C)



4. 1. Işık 2. Kulak 3. Göz
Yukarıdakilerden hangisi veya hangileri görme olayının gerçekleşmesi için gereklidir?

A)

1 - 2

B)

2 - 3

C)

1 - 3

5. 1. Kütlesi(ağırlık) yoktur.
2. Hacmi(yer kaplama) yoktur.
3. Enerjidir.
Yukarıdaki ifadelerden hangileri ışık ve ses için söylenebilir?

A)

1 - 2

B)

2 - 3

C)


1 - 2 - 3

6. "Işık kaynağı olmadığı halde ışık kaynağı gibi ışık yayan cisimlere **aydınlatılmış ışık kaynağı** denir."
Yukarıda ki ifadelere göre aşağıdakilerden hangisi aydınlatılmış ışık kaynağı **değildir**?

A)



B)



C)



7. Aşağıdakilerden hangisi doğru bir ifadedir?

A)

Ses kaynağından uzaklaştıkça ses şiddeti azalır.

B)

Ses kaynağından uzaklaştıkça ses şiddeti artar.

C)

Ses kaynağına yaklaştıkça ses şiddeti azalır.

8. Aşağıdaki aletlerden hangisi sesin şiddetini **arttırmaz**?

A)



B)



C)



9. Aşağıdakilerden hangisi ışık kaynağı **değildir**?

A)



ayna

B)



ateşböceği

C)



mum

10. Aşağıdakilerden hangisi yanlıştır?

A)

Ses titreşim sonucu oluşur.

B)

Kulağımız bütün sesleri işitmez.




C)

Ses boşlukta daha hızlı yayılır.

11. Aşağıdakilerden hangisi gürültünün insan sağlığı üzerindeki etkilerinden biri değildir?

- A) Anlamayı güçleştirir.
- B) Görme duyumuzu engeller.
- C) İşitme kaybına neden olur.

12. Hangi duyu organımız görevini yapabilmek için ışığa ihtiyaç duyar?

- A) 
- B) 
- C) 




13. Maddenin üç halini hangi öğrenci doğru olarak söylemiştir?

- A)  Toprak - Su- Ateş

- B)  Hava - Toprak - Su

- C)  Katı - Sıvı - Gaz

14. Aşağıda verilen hareket türlerinden hangisi diğerlerinden farklıdır?

- A) 
- B) 
- C) 




15.



Elif elindeki çiçeğin özelliklerini öğrenmek için hangi duyu organını kullanmaz?

- A) Göz
- B) Kulak
- C) Burun

16. Aşağıdaki görsellerin hangisinde itme hareketi vardır?

- A) 
- B) 
- C) 

17. Aşağıdaki maddelerden hangisi renksiz, kokusuz ve tatsızdır?

- A) Limonata
- B) Su
- C) Ayran




18. Aşağıdakilerden maddelerden hangisi farklı bir haldedir?

- A) Su Buharı
- B) Yağmur Damlası
- C) Zeytinyağı

19. Bir maddenin sıvıdan gaza dönüşümü olayı aşağıdakilerden hangisidir?

- A) donma
- B) erime
- C) buharlaşma

20. Vücut dengemizi sağlayan duyu organımız aşağıdakilerden hangisidir?

- A) 
- B) 
- C) 

TÜRKÇE

ÇOBAN İLE KURT

Kurt bir türlü sürüye yaklaşip da karnını doyuramaz olmuş. Nasıl edip, ne yapayım da sürüye yaklaşıyım diye düşünürken, aklına çoban olmak gelmiş. Hemen kendisine bir kepenek bulmuş, eline uzun bir değnek almış. Gerçek çobandan hiç farkı yokmuş.

"Kılığım gibi sesimi de benzetmeliyim." demiş. Fakat çoban gibi seslenmeyi becerememiş. Seslenince sesi gümbür gümbür gümbürdemiş, kurdun sesini duyan çoban ve köpekler uyanmışlar. Üzerindeki kepenegin ağırlığından hızlı kaçamayan kurdu yakalayıp, ağaca bağlamışlar. Kurdun haline gelen giden hayvanlar gülmüşler.

Sahtekârlar ne kadar kurnaz olurlarsa olsunlar, bir gün elbet yakayı ele verirler.

(1,2,3,4 ve 5. soruları metne göre yanıtlayınız)

1. Kurt nereye yaklaşamamış?
A) Koyuna
B) İneğe
C) Sürüye
2. Kurt kime benzemek istemiş?
A) Çoban Köpeğine
B) Çobana
C) Kuzuya
3. Çoban ve köpekler kurdu ne yapmışlar?
A) Ağaca bağlamışlar
B) Kovalamışlar
C) Yakalayıp dövmüşler
4. Kurt üzerine ne giymişti?
A) Kepenek
B) Koyun Postu
C) Elbise
5. Okuduğumuz metinden nasıl bir ders çıkarmalıyız?
A) Amaçlarımıza ulaşmak için kurnazlık yapmalıyız.
B) Amaçlarımıza ulaşmak için sahtekarlık yapmalıyız.
C) Sahtekarlık ve kurnazlık yapanlar bir gün mutlaka yakalanırlar.
6. "Acele gel, beni bekletme." cümlesindeki altı çizili kelimenin yerine aşağıdakilerden hangisi gelirse anlam bozulmaz.
A) Yavaş
B) Çabuk
C) İstersen
7. "Yaz" kelimesi aşağıdaki cümlelerden hangisinde farklı anlamda kullanılmıştır?
A) Yaz geldi şehir boşaldı.
B) Yazdığını okumalısın.
C) Okumayı yazmayı herkes bilmeli.
8. "Eğri oturalım, doğru konuşalım." cümlesindeki altı çizili kelimeler arasındaki ilişki aşağıdakilerden hangisidir?
A) Eş Anlam
B) Zıt Anlam
C) Eş Sesli
9. Aşağıdakilerden hangisi özel isim değildir?
A) Ankara
B) Şehir
C) Türkçe
10. Aşağıdakilerden hangisi çoğuldur?
A) Fular B) Yular C) Sular

11. Aşağıdakilerden hangisinin sonuna soru işareti getirilmelidir?

- A) Gece mi çalışıyorsun, gündüz mü
- B) Yitirdim gecemi, gündüzümü
- C) Ne yaptığımı ben biliyor muyum sanki

12. Aşağıdakilerden hangisi cümledir?

- A) Her cümle bir duyguyu anlatır
- B) Seyyar satıcının sesi
- C) Evin önünden geçen arabaları sayıp

13. "İhtiyar teknesiyle denize açıldı." cümlesinde anlam karışıklığını gidermek için virgül hangi kelimedenden sonra konulmalıdır?

- A) denize
- B) teknesiyle
- C) ihtiyar

14. Aşağıdaki kelimelerden hangisi sözlük sıralamasında diğerlerinden sonra yer alır?

- A) memur
- B) meşgul
- C) meşe

15. "Uçak hava taşıtıdır; ama gemi deniz taşıtıdır." cümlesi için aşağıdakilerden hangisi söylenebilir?

- A) Sebep-sonuç cümlesidir.
- B) Karşılaştırma ifadesidir.
- C) Farklı düşünmeye yönlendiren bir ifadedir.

16. Aşağıdakilerden hangisi doğru yazılmıştır?

- A) kanpanya
- B) satlık
- C) şoför

17. "Annem()babam()kardeşim birlikte Kırıkkale'ye gittiler()" cümlesinde parantez içlerine sırasıyla hangi noktalama işaretleri yazılmalıdır?

- A) (,) (.) (.)
- B) (,) (,) (.)
- C) (,) (,) (?)

18. Aşağıdaki tarihlerden hangisinin yazımı doğru değildir?

- A) 7 ocak 2017
- B) 7 Ocak 2017
- C) 07.01.2017

19. "Çocuk yavaşca balkona çıktı." cümlesinde aşağıdaki sorulardan hangisinin cevabı yoktur?

- A) ne zaman
- B) nasıl
- C) kim


20. "Hafta sonu sinemaya gelemeyeceğim ailemle pikniğe gideceğim." cümlesinde noktalı yere gelmesi gereken kelime hangisidir?

- A) fakat
- B) ama
- C) çünkü

MATEMATİK

1. 5, 2, 7 rakamları ile oluşturulabilecek üç basamaklı en büyük çift sayı ile oluşturulabilecek üç basamaklı en küçük tek sayının toplamı kaçtır?
A) 1.027 B) 1.252 C) 1.009
2. Ali'nin 15 TL'si vardır. Kadir'in Ali'den 5 TL fazla, Arda'nında Kadirden 5 TL fazla parası var. Üçünün toplam kaç TL parası vardır?
A) 60 TL B) 25 TL C) 40 TL
3. 5 birlik+4 yüzlükten oluşan sayı hangisidir?
A) 54 B) 450 C) 405
4. 1 2 4
+ 2 5 8
.....
Yandaki toplama işleminin sonucu ile tahmini arasındaki fark kaçtır?
A) 0 B) 2 C) 1
5. Çocuk, anne ve babanın yaşları toplamı 72'dir. Anne 30 yaşında ve babanın yaşı anneden 4 yaş fazla ise, çocuk kaç yaşındadır?
A) 8 B) 9 C) 10
6. 1 düzine kalemin 3 katı ile 1 deste kalemin 2 katının 4 fazlasının çarpımı kaçtır?
A) 720 B) 864 C) 840

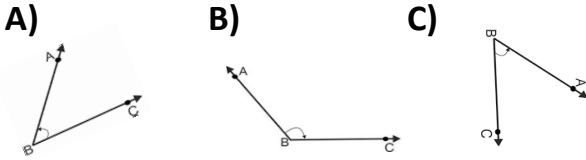
KELEK

4. Yukarıdaki kelimede en fazla hangi doğru çeşiti bulunmaktadır?
A) Yatay doğru
B) Dikey doğru
C) Eğik doğru
5. 
Yukarıdaki örüntü kuralına benzer kural aşağıdakilerden hangisinde vardır?
A) A B B A B B A
B) 1 2 2 1 1 2 2
C) ? ? ! ? ? ! ? ?
9. 3 1 8
2 7 6
+ 1 ▲ 6
● 8 ■
Yandaki işlemde verilmeyen rakamlar aşağıdakilerden hangisinde doğru olarak verilmiştir?
A) ▲ 8 ● 7 ■ 0
B) ▲ 3 ● 5 ■ 8
C) ▲ 5 ● 0 ■ 2
10. XII + VII = ?
Yukarıdaki işlemin sonucu kaçtır?
A) IXX B) XIX C) XXI

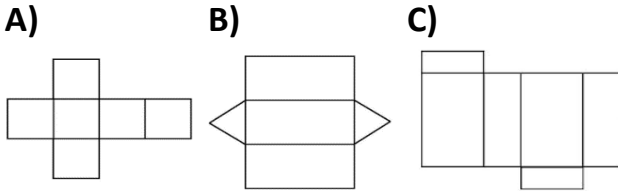
11. 7 - 14 - A - 28 - 35 - B - 49 - 56
Yukarıda verilmeyen A ve B sayısının çarpımının sonucu kaçtır?
A) 840 B) 882 C) 924

12.
$$\begin{array}{r} 7 \triangle 1 \\ - \blacksquare 4 8 \\ \hline 3 7 3 \end{array}$$
 Yandaki çıkarma işleminde verilmeyen rakamlar hangi seçenekte doğru olarak verilmiştir?
A) $\triangle 2$ $\blacksquare 3$ B) $\triangle 3$ $\blacksquare 3$ C) $\triangle 3$ $\blacksquare 2$

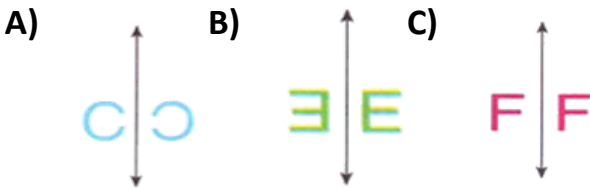
13. Hangi seçenekteki açı diğerlerinden farklıdır?







14. Aşağıdaki açılımların hangisi dikdörtgenler prizmasına aittir?



15. Aşağıdakilerden hangisi simetri değildir?



16. 739 sayısının birle ve yüzler basamağındaki rakamlar yer değiştirilirse, sayının değerinde nasıl bir değişiklik olur?
A) 198 artar
B) 213 artar
C) 198 azalır

17.   \longrightarrow 1.Kat
 \longrightarrow 2.Kat
 \longrightarrow 3.Kat
..... \longrightarrow 4.Kat
..... \longrightarrow 5.Kat

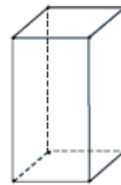
5.Katta bulunan çiçekler ile 3.Katta bulunan çiçeklerin farkı kaçtır?

- A) 2 B) 4 C) 6

18. Aşağıdaki çarpma işlemlerinden hangisi doğrudur?

A) $\begin{array}{r} 25 \\ \times 34 \\ \hline 120 \end{array}$	B) $\begin{array}{r} 51 \\ \times 13 \\ \hline 153 \end{array}$	C) $\begin{array}{r} 40 \\ \times 23 \\ \hline 20 \end{array}$
$\begin{array}{r} + 75 \\ 870 \end{array}$	$\begin{array}{r} + 51 \\ 663 \end{array}$	$\begin{array}{r} + 81 \\ 830 \end{array}$

19. Kare prizma



Yandaki şekli düzleme açtığında kaç tane kare, kaç tane dikdörtgen elde edersin?

- A) 6 tane dikdörtgen
B) 4 kare 2 dikdörtgen
C) 2 kare 4 dikdörtgen

20. 401 307 809 599
Yukarıdaki sayıların küçükten büyüğe sıralanışı nasıldır?

- A) 809>599>401>307
B) 307<599>401<809
C) 307<401<599<809