

S1. Aşağıda verilen bölme işlemleri yapalım.

$\begin{array}{r} 7 \ 8 \overline{) 4} \\ \end{array}$	$\begin{array}{r} 6 \ 5 \overline{) 3} \\ \end{array}$	$\begin{array}{r} 2 \ 7 \overline{) 5} \\ \end{array}$
$\begin{array}{r} 4 \ 9 \overline{) 2} \\ \end{array}$	$\begin{array}{r} 4 \ 4 \overline{) 7} \\ \end{array}$	$\begin{array}{r} 6 \ 2 \ 8 \overline{) 5} \\ \end{array}$

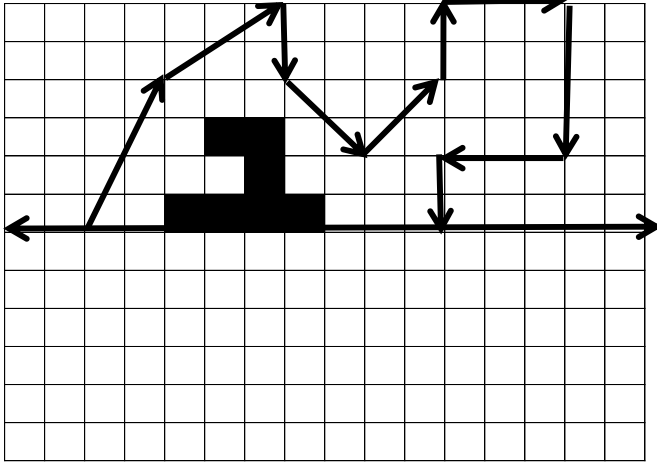
S2. Aşağıda verilen çarpma işlemlerini yapalım.

$\begin{array}{r} 4 \ 6 \\ \times 2 \\ \hline \end{array}$	$\begin{array}{r} 1 \ 8 \ 5 \\ \times 6 \\ \hline \end{array}$	$\begin{array}{r} 7 \ 8 \\ \times 5 \ 2 \\ \hline + \\ \hline \end{array}$
--	--	---


S3. Aşağıda boş bırakılan yerlere uygun sayıları yaz.

$\begin{array}{r} \square \ 6 \\ + 2 \ \square \\ \hline 7 \ 4 \end{array}$	$\begin{array}{r} 2 \ \square \\ + \square \ 4 \\ \hline 8 \ 1 \end{array}$	$\begin{array}{r} \square \ \square \\ + 3 \ 9 \\ \hline 6 \ 4 \end{array}$
---	---	---


S4. Aşağıdaki şeklin simetriğini çizelim.



S5. Aşağıdaki gösterilen saatleri rakamla yazalım.



(Öğleden sonra)



(Öğleden Önce)

S6. Verilen sayılardan tek olanların toplamı kaçtır?

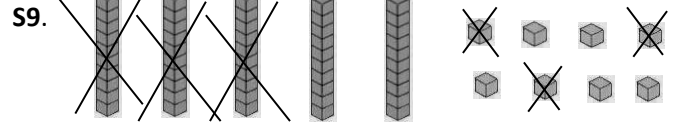
58	12	20	84	5	64
46	6	32	10	18	
29		4	90		
94	2	17	36		

S7. Aşağıda verilen işlemleri yapalım.

Saat	Dakika	Saat	Dakika
1 2	: 1 0	1 1	: 4 5
- 0 5	: 3 5	+ 0 7	: 1 5

S8. Aşağıdaki boşluklara uygun sayılar yazalım.

- a) 14 bütün çeyrektir.
 b) 9 bütünyarımdır.
 c) 74 yarım.....bütündür.
 ç) 64 çeyrek.....bütündür.
 d) 18 yarım + 20 çeyrek.....bütündür.



Yukarıda onluk bloklarla verilen işlemin sonucu kaçtır?

S10. Yarım kilosu 2 TL olan patatesten 7 kg alan Mert satıcıya 50 TL veriyor. Buna göre Mert, kaç TL para üstü almalıdır?

S11. $\heartsuit - 19 = 27$

$\heartsuit + \heartsuit = \star$

ise; \star sayısının 4 katı kaçtır?

S12. Bölen sayının 7 olduğu bir bölme işleminde kalan yerine yazılabilecek tüm sayıların toplamı kaçtır?

S13. Dedem kümesteki 7 ördeği kuluçkaya yatırıyor. Her bir ördeğin onar yavrusu olduğuna göre, kümeste toplam kaç ördek olur?

NEPTÜN VE JÜPİTER

Neptün'ün 13 uydusu vardır. Gezegen gazlardan oluşmuştur. Atmosferdeki metan gazı nedeniyle mavi görünmektedir. Güneş sisteminin en hızlı rüzgarları Neptün'de eser. Burada rüzgarın hızı saate 2000 kilometreyi bulabilir.

Jüpiter'in ise 63 uydusu vardır. Güneş sistemindeki en büyük gezegendir. Yüzeyindeki kırmızı bölgede 300 yıldır sürmekte olan bir hortum vardır.

SORULAR

S1. Güneş sisteminin en büyük gezegeni hangisidir?

S2. Neptün, neden mavi görünmektedir?

S3. Jüpiter'in üzerinde esmekte olan hortum nerede bulunmaktadır?

S4. Güneş sistemindeki en hızlı rüzgarlar hangi gezegende esmektedir?

S5. Verilen sözcüklerin **karşıt anlamlarını** karşısında verilen sözcükler arasından bulup, boyayayım.

a) karmaşa düzenli dağınık soyut

b) masum polis suçlu hasta

c) av aslan orman avcı

ç) yazmak yırtmak silmek boyamak

d) yazılı sözlü sınıf karne

e) berk cisim yumuşak başarı

f) sahte para bayat gerçek

S6. " Evimize yakın bir yerde oynarsak iyi olur. "

cümlesinde hangi sözcük alfabetik sıraya göre en sonda yer alır?

S7. Aşağıda verilen sözcüklerden hangilerinde ince ve kalın ünlüler birlikte yer alır?

yolculuk	kuvvetli	anlamdaş	deneme
kanepe	haydut	köfteler	bisiklet
siyah	imtihan	gariban	gözyaşı

TÜRKÇE TEST

S1. Verilen kelimelerden hangisi sözlükte diğerlerinden sonra yazılır?

a) makine b) makas c) maket

S2. Aşağıdaki sözcüklerden hangisinin tek başına anlamı vardır?

a) ama b) fakat c) kar

S3. Aşağıdaki cümlelerin hangisinde "hasta" kelimesi farklı bir anlamda kullanılmıştır?

a) Bu çocuk tam bir futbol hastası.
b) Hastayı sedyeyle taşıdılar.
c) Dedem, hasta olduğu için gelemedi.

S4. Bir cümle veya sözcüğün kaç heceden oluştuğunu bulmak için aşağıdakilerden hangisini **yapmayız**?

a) Sesli harfleri sayarız.
b) Sessiz harfleri sayarız.
c) Cümle veya sözcüğü hecelerine ayırırız.

S5. Aşağıdaki cümlelerin hangisinde bir harften oluşan hece **yoktur**?

a) Ayla ve Oya pikniğe gitti.
b) Piknikte yağmura yakalandık.
c) Ardından herkes otobüse bindi.

S6. "Ağaçlardan **yapraklar** dökülüyor." cümlesindeki altı çizili sözcüğün türü hangisidir?

a) Tekil isim b) Özel isim c) Cins isim

S7. Hangi cümle anlamlı ve kurallı **değildir**?

a) Ötüyor kuşlar dallarda.
b) Babam, bana bisiklet alacak.
c) Salona sırayla girdik.

S8. Aşağıdaki eşleştirmelerden hangisi farklıdır?

a) kıymetli-değerli b) artı-eksi c) ulus-millet

S9. Verilen sözcüklere, uygun **hâl eklerini** yazalım.

	kilit	içecek	Mersin
Yalın Hâli			
-e Hâli			
-i Hâli			
-de Hâli			
-den Hâli			