

S1. Aşağıda verilen bölme işlemleri yapalım.

$$\begin{array}{r} 7 \ 9 \overline{) 4} \\ \end{array}$$

$$\begin{array}{r} 6 \ 3 \overline{) 3} \\ \end{array}$$

$$\begin{array}{r} 3 \ 5 \overline{) 2} \\ \end{array}$$

$$\begin{array}{r} 9 \ 2 \overline{) 5} \\ \end{array}$$

$$\begin{array}{r} 6 \ 4 \overline{) 4} \\ \end{array}$$

$$\begin{array}{r} 7 \ 0 \ 2 \overline{) 3} \\ \end{array}$$

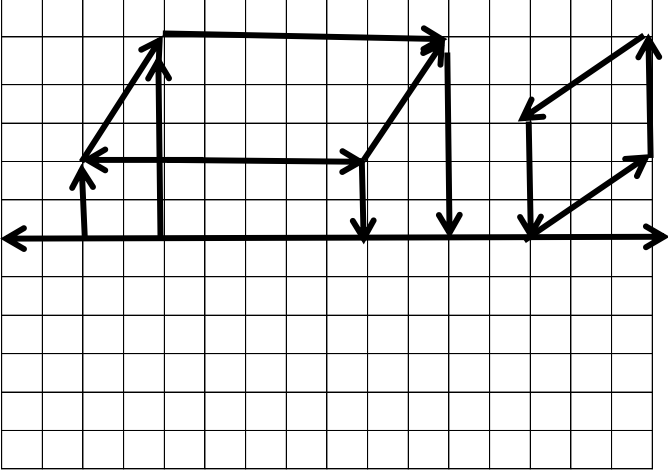
S2. Aşağıda verilen çarpma işlemlerini yapalım.

$$\begin{array}{r} 2 \ 1 \\ \times \quad 9 \\ \hline \end{array}$$

$$\begin{array}{r} 6 \ 3 \ 8 \\ \times \quad 3 \\ \hline \end{array}$$


$$\begin{array}{r} 7 \ 6 \\ \times \quad 2 \ 4 \\ \hline \end{array}$$

S3. Aşağıdaki şeklin simetriğini çizelim.



S4. Bir kutudaki şekerlerin 12 'si sarı, 9 'u yeşil, 21'i turuncu, 15' i kırmızı, 6 'sı pembedir . Buna göre, verilen bilgileri şekil grafiği ile gösterelim.

Şeker sayısı



Her şekil **3 (dört) şeker**i göstermektedir.


S5. Aşağıda boş bırakılan yerlere uygun sayıları yaz.

$$\begin{array}{r} 8 \ \square \\ - \quad \square \ 7 \\ \hline 2 \ 1 \end{array}$$

$$\begin{array}{r} 7 \ 4 \\ - \quad \square \ \square \\ \hline 5 \ 0 \end{array}$$

$$\begin{array}{r} \square \ \square \\ - \quad 6 \ 8 \\ \hline 1 \ 7 \end{array}$$

S6. Aşağıda verilen geometrik şeklin, özelliklerini yazalım.



Şeklin adı :.....

yüzey sayısı:.....

ayrıt (kenar) sayısı :.....

köşe sayısı :

S7. Aşağıda verilen bölme işlemini çıkarma işlemi şeklinde yazalım.

$$\begin{array}{r} 4 \ 5 \overline{) 9} \\ \end{array}$$

S8. 9 katı ile 7 katının farkı 94 olan sayı kaçtır?

S9. Mehmet, 56 sayfalık kitabın çeyreğini okumuş. Buna göre, Mehmet'in okumadığı kaç sayfa kitabı kalmıştır?

S10. Bir okulda toplam 60 öğrenci vardır. Bu öğrencilerin 37' si kız olduğuna göre, okuldaki erkek öğrenci sayısı kaçtır?

S11. Hızı saatte 8 km olan bir at, hiç durmadan 4 saat koştuğunda, ne kadar yol gitmiş olur?

S12. " 45 - 49 - 59 - 63 - A " örüntüsünde "A" sayısının rakamlarının basamak değeri farkı kaçtır?

S13. (26 + 7) - 15 =? İşemin sonucu kaçtır?

Cingöz,Yalçın Bey'in köpeğidir.Onunla çarşıya, pazara, dostlarının evine, her yere gider. Yalçın Bey, kendi kendine hiçbir yere gidemez. Çünkü o, görme engellidir.

Cingöz, Yalçın Bey'in gözü gibidir. Zeki ve duygulu bir köpektir.Sahibine yardım etmek için özel bir eğitim görmüştür.

Cingöz, çok akıllı bir köpektir. Trafik kurallarını öğrenmiştir. Yayaalara, kırmızı ışığın yandığını görünce hemen durur, bekler. Eğer yollar buz tutmuşsa üstünden geçmez. Kenarından dolanır. Cingöz, yolda sahibini bırakıp öteki köpeklerle oyuna dalmaz. O, görevinin ne olduğunu iyi kavramıştır.

SORULAR

S1. Yalçın Bey, neden kendi kendine bir yere gidemiyor?

S2. Cingöz, niçin özel bir eğitim almıştır?

S3. Yalçın Bey, Cingöz ile nerelere gidiyormuş?

S4. Cingöz, Yalçın Bey'in hangi duyu organı gibiymiş?

S5. Verilen sözcüklerin **karşıt anlamlarını** karşısında verilen sözcükler arasından bulup, boyayayım.

a) çukur viraj tümsek oyuk

b) artış kayboluş yatış azalış

c) tok aç yemek aşçı

ç) tanıdık akraba bilinen yabancı

d) taban duvar tavan sınıf

e) cimri cömert birikim kıskanç

f) usta dükkan acemi iş

S6. Verilen eylemlerin önüne ismin yerine kullanılan sözcüklerden uygun olanı yazalım. (Ben-Sen-O-Biz-Siz-Onlar)

a).....geliriz. d) saydım.

b)bayılıyor. e)okudunuz.

c) başlattın. f) topladılar.

ç)anladılar. g)bulmuş.

TÜRKÇE TEST

S1. "Bir zamanlar çok iyi ve adaletli bir kralın oğlu kaybolmuş. Kral, oğlunu aramadık yer bırakmamış. Ama....."

Yukarıdaki anlatım, hangi seçenekle devam ettirilmelidir?

- a) aramak istememiş.
- b) bulamayınca çok sevinmiş.
- c) bir sonuç alamamış.

S2.Aşağıdaki cümlelerin hangisinde yazım yanlışı yapılmıştır?

- a) Okuldan gelirken selimi gördüm.
- b) Kemal'den hiç haber yok mu?
- c) Bugün, Mert'in doğum günüymüş.

S3."Ali ile ihtiyar adam () çok iyi dost olmuşlar () " cümlesinde boş bırakılan yerlere sırasıyla hangi noktalama işaretleri konulmalıdır?

- a) (!) (,) b) (,) (?) c) (,) (.)

S4. Aşağıdaki sözcüklerden hangisi tek bir varlığı belirtmektedir?

- a) dağlar b) bulut c) yıldızlar

S5. Aşağıdaki cümlelerin hangisinde satır sonuna sığmayan sözcük **yanlış yazılmıştır**?

- a) Ağaç, yaş iken eğilir.
- b) Ak akçe, kara gün içindir.
- c) Sakla samanı, gelir zamanı.

S6. Verilen isimlerden hangisi soyuttur?

- a) sevimli b) köpek c) akvaryum

S7. Verilen sözcükleri alfabetik sıraya koyalım.

- a) tencere - tava - tabak - tas - tel

- b) dere - tabiat - dağ - ova - deniz

S8. Verilen isimlere uygun ekleri getirerek türemiş sözcük yapalım. (-ci, -li, -lik, siz, -gi)

- a) saç : ç) süs :
- b) posta : d) yazı :
- c) düzen : e) iş :