

S1. Aşağıda verilen bölme işlemleri yapalım.

$$\begin{array}{r} 4 \overline{) 65} \\ \underline{} \\ \end{array}$$

$$\begin{array}{r} 7 \overline{) 42} \\ \underline{} \\ \end{array}$$

$$\begin{array}{r} 8 \overline{) 23} \\ \underline{} \\ \end{array}$$

$$\begin{array}{r} 5 \overline{) 84} \\ \underline{} \\ \end{array}$$

$$\begin{array}{r} 2 \overline{) 52} \\ \underline{} \\ \end{array}$$

$$\begin{array}{r} 3 \overline{) 294} \\ \underline{} \\ \end{array}$$

S2. Aşağıda verilen çarpma işlemlerini yapalım.

$$\begin{array}{r} 60 \\ \times 8 \\ \hline \end{array}$$

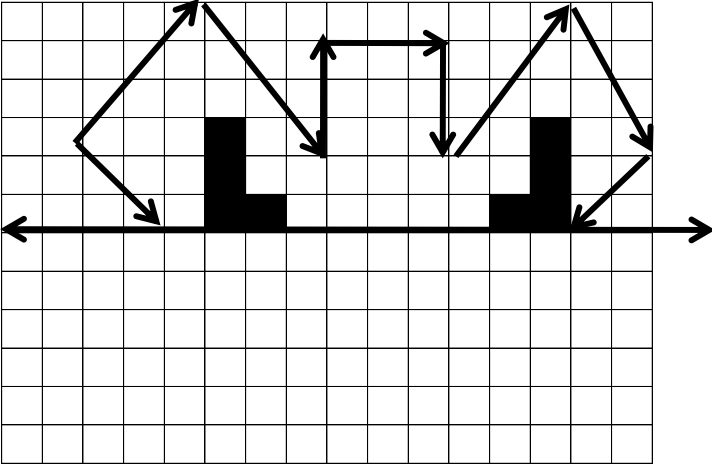
$$\begin{array}{r} 427 \\ \times 3 \\ \hline \end{array}$$

$$\begin{array}{r} 91 \\ \times 54 \\ \hline \end{array}$$


S3. Aşağıda boş bırakılan yerlere uygun cevapları yaz.

- a) 5 ayhaftadır.
 b) 8 mevsim.....aydır.
 c) 4 yılhaftadır.
 ç) 8 gün.....saattir.


S4. Aşağıdaki şeklin simetriğini çizelim.



S5. Aşağıdaki gösterilen saatleri rakamla yazalım.



.....
 (Öğleden sonra)

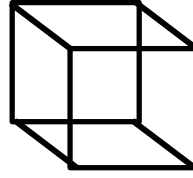


.....
 (Öğleden Önce)

S6. Verilen ölçülere uygun sayılar yazalım.

- a) 7 m :cm ç) 3894 g :.....kg.....g
 b) 6 L :mL d) 154 cm :m.....cm
 c) 5 kg :g e) 2183 mL :L.....mL

S7. Verilen geometrik şeklin, özelliklerini yazalım.



Şeklin adı :.....
 yüzey sayısı:.....
 ayrıt (kenar) sayısı :.....
 köşe sayısı :

S8. Çarpma işleminde verilmeyen sayıları bulalım.
 (Çarpmada verilmeyen çarpan, bölme ile bulunur.)

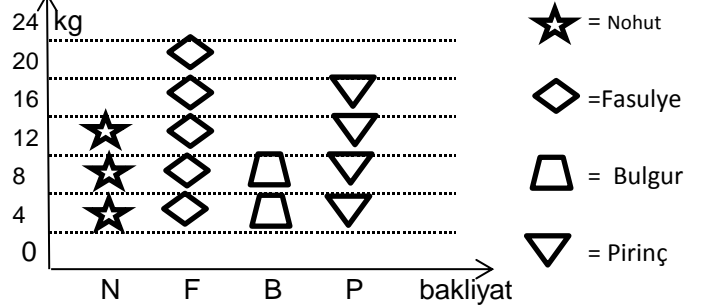
$$\begin{array}{r} 6 \\ \times 24 \\ \hline \end{array}$$

$$\begin{array}{r} \\ \times 5 \\ \hline 80 \end{array}$$

$$3 \times \square = 21$$

S9. Bir manavda, her birinde 8 kilogram elma bulunan 4 kasa meyve satılmıştır. Bu manav kaç kilogram elma satmış olur?

S10.



Her şekil 4 kilogramı göstermektedir.

Tabloda bir marketin 1 günde sattığı bakliyat miktarı gösterilmektedir. Buna göre;

a) Tabloda, toplam kaç kg bakliyat satılmıştır ?

b) Satılan fasulyeler, bulgurlardan ne kadar fazladır?

S11. $\square 3$ sayısının, sayı değeri toplamı 9 olduğuna göre, bu sayının 48 eksiği kaç olur?

TÜRKÇE TEST

S1. Hangi cümlede yazım yanlışı yoktur?

- a) babam yeni bir araba aldı.
- b) Bu akşam, eliflere gideceğiz.
- c) Bahçeye yeni meyve fidanları dikildi.

S2. Hangi cümlelerin sonuna konulan noktalama işareti doğrudur?

- a) Yaşasın, okullar açılıyor.
- b) Eve gidince film izleyelim mi.
- c) Dolapta hiç su kalmamış.

S3. Cümlelerin hangisinde korku anlamı vardır?

- a) Evyah, köpek geliyor!
- b) Çocuklar, sağa sola doğru koşuşturdu.
- c) Anne, kardeşim ağlıyor.

S4. "Elimdeki bardağı yere düşürünce bardak kırıldı. Bu nedenle....." cümlesi aşağıdakilerden hangisiyle tamamlanabilir?

- a) çok korktum.
- b) uykum kaçtı.
- c) çok sevindim.

S5. " Doktor hanım geldi ()

() Söyle bakalım,nedir şikayetin () Dedi () "

Cümlede yay ayrıçla gösterilen yerlere sırasıyla hangi noktalama işaretleri yazılmalıdır?

- a) (,) (") (") (!)
- b) (:) (-) (?) (.)
- c) (!) (-) (,) (.)

S6. " bu - birini - Haktan - yavruların - istiyordu - büyütmek - alıp "

Yukarıda karışık olarak verilen sözcüklerden anlamlı ve kurallı bir cümle oluşturulduğunda cümle- nin ilk ve son sözcüğü hangi seçenekte verilenler olur?

- a) Haktan - istiyordu
- b) yavrularını - büyütmek
- c) birini - alıp

S9. Verilen cümlelerde eylemlerin altını çizelim.

- a) Parkta oynamak güzel ama çok yoruludum.
- b) Harun, yaşadıklarından çok etkilendi.
- c) Gözlüğü yere bıraktığını unuttu bir anda.
- ç) Annesinin kahvaltıya çağıran sesini duydu.
- d) Kumbaramda biriken paraları saydım akşam.

.....
Bir zamanlar çok zengin bir ülke varmış. Bu ülkenin kralı, kocaman ve süslü bir havuz yaptırmış. Bu havuzu sütle doldurup komşu ülkelere göstermek istiyormuş.

Tellallar, davullarla sokaklarda dolaşmışlar. Ülkede- kilere haber vermişler :

-Bu havuza herkes bir kova süt dökcek. Böylece sütle dolu kocaman bir havuzumuz olacak. Başka ülke- ler, ülkemizin zenginliğini görecek.

SORULAR

S1. Kral, ülkeye ne yaptırmayı planlıyor?

S2. Parçada bahsedilen ülkenin özelliği nedir?

S3. Kralın, bu işi yaptırmaktaki amacı neymiş?

S4. Metne göre, kralın isteklerini halka kimler duyuru- yor?

S5. Verilen sözcüklerin, eş anlamlarını karşılarındaki sözcükler arasında bulup boyayalım.

a) zengin	varlıklı	yoksul	cimri
-----------	----------	--------	-------

b) dam	ev	çatı	konuk
--------	----	------	-------

c) ilave	çok	ek	yok
----------	-----	----	-----

ç) talim	egzersiz	tabip	yabancı
----------	----------	-------	---------

d) şuur	şikayet	kural	akıl
---------	---------	-------	------

e) özentî	istek	özel	taklit
-----------	-------	------	--------

f) rehber	kılavuz	telefon	kitap
-----------	---------	---------	-------

S6. " Vedat, yeni bir ayakkabı almak için para biriktire- cekmiş. "

cümlesine göre, aşağıdaki soruları cevaplayalım:

- a) Ne? :
- b) Kim ? :
- c) Niçin? :

S7. " Bir fincan kahvenin, kırk yıl hatırı vardır. "

atasözüne göre;

- a) Cümle kaç sestten oluşur? :
- b) Cümle kaç heceden oluşur? :
- c) Cümle kaç sözcükten oluşur? :