

ÖDEV KAĞIDI ( 100 )

S1. Aşağıda verilen bölme işlemleri yapalım.

$\begin{array}{r} 5 \overline{) 14} \\ \underline{\phantom{00}} \end{array}$	$\begin{array}{r} 7 \overline{) 23} \\ \underline{\phantom{00}} \end{array}$	$\begin{array}{r} 8 \overline{) 45} \\ \underline{\phantom{00}} \end{array}$
$\begin{array}{r} 6 \overline{) 92} \\ \underline{\phantom{00}} \end{array}$	$\begin{array}{r} 2 \overline{) 86} \\ \underline{\phantom{00}} \end{array}$	$\begin{array}{r} 2 \overline{) 914} \\ \underline{\phantom{000}} \end{array}$

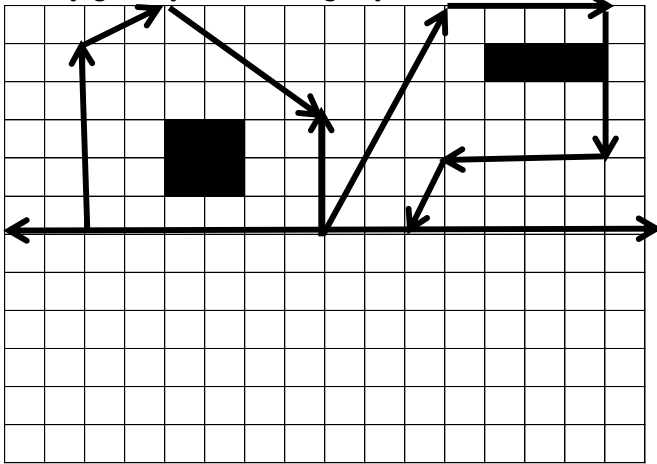
S2. Aşağıda verilen çarpma işlemlerini yapalım.

$\begin{array}{r} 34 \\ \times 9 \\ \hline \end{array}$	$\begin{array}{r} 287 \\ \times 3 \\ \hline \end{array}$	$\begin{array}{r} 69 \\ \times 48 \\ \hline \end{array}$
---	--	--

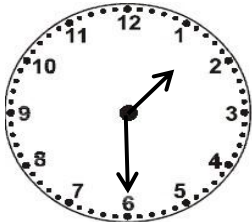
S3. Aşağıda boş bırakılan yerlere uygun sayıları yaz.

$\begin{array}{r} \square 5 \\ + 4 \square \\ \hline 73 \end{array}$	$\begin{array}{r} 2 \square \\ + \square 6 \\ \hline 79 \end{array}$	$\begin{array}{r} 48 \\ + \square \square \\ \hline 83 \end{array}$
--	--	---

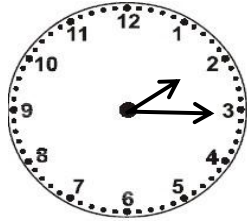
S4. Aşağıdaki şeklin simetriğini çizelim.



S5. Aşağıdaki gösterilen saatleri rakamla yazalım.



( Öğleden sonra )



( Öğleden Önce )

S6. Verilen sayılardan cift olanların toplamı kaçtır?

7	19	38	27	9	13
43	81	35	83	29	5
51	3				
75	24	99	81		

S7. Aşağıda verilen işlemleri yapalım.

$\begin{array}{r} \text{Saat} \quad \text{Dakika} \\ 14 : 20 \\ - 08 : 45 \\ \hline \end{array}$	$\begin{array}{r} \text{Saat} \quad \text{Dakika} \\ 06 : 15 \\ + 04 : 40 \\ \hline \end{array}$
--	--

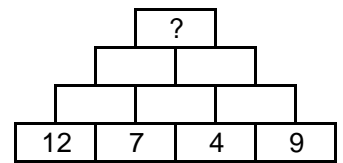
S8. Aşağıdaki boşluklara uygun sayılar yazalım.

- a) 11 bütün ..... çeyrektir.  
 b) 4 bütün .....yarımdır.  
 c) 18 yarım.....bütündür.  
 ç) 48 çeyrek.....bütündür.  
 d) 10 yarım + 12 çeyrek.....bütündür.

S9.  $52 - \square = 35$  işleminde verilmeyen sayının 3 katı kaçtır?

S10. Her biri 3 santimetre olan 5 silgi uç uca ekleniyor. Hepsinin toplam uzunluğu kaç santimetre olur?

S11. Piramidin tabanındaki sayıları toplayarak en tepesine ulaş.



S12. Her gün 14 yolcu taşıyan bir servis aracı, **mayıs ayı** boyunca toplam kaç yolcu taşımış olur?

S13. Annem 37 yaşındadır. Babam ise, annemden 5 yaş büyüktür. Buna göre, 6 yıl sonra ikisinin yaşları toplamı kaç olur?

.....

Yolun kıyısında,ağacın altında biri oturuyordu.Uzunca boylu,zayıf,yüzü kırışıklıklarla dolu, yaşlı bir adamdı bu. Her gün karşılaştığımız yaşlı adamlardan biriydi. Ama bunlardan tek farkı,işıl ışıl yanan,derin bakışlı gözleriydi.Kız,yaşlı adamın yanına gelince durdu.Bu adam garip bir etki bırakmıştı üzerinde.İçti acıma duygusuyla doluydu.Birden bu yaşlı adamı sevindirmek, onun son günlerini süsleyecek bir şey yapma isteğine kapıldı. Oradan bir çiçek kopardı ve yaşlı adama uzattı. Üzgün, ama sevgi dolu bir sesle:

-Size bundan başka bir hediye veremiyorum, dedi. Başka hiçbir şeyim yok...

### SORULAR

S1. Parçaya göre, yaşlı adamın özellikleri nelerdir?

S2. Kız, yaşlı adama hangi hediyeyi verdi?

S3. Yaşlı adamın, diğer yaşlılardan farkı nedir?

S4. Kız, yaşlı adamla karşılaşınca ne hissetmiş?

S5. Verilen sözcüklerin **karşıt anlamlarını** karşısında verilen sözcükler arasından bulup, boyayayım.

a) minik      çocuk      büyük      ufak

b) faydalı      zararlı      yararlı      besin

c) yaşlı      genç      ihtiyar      insan

ç) kara      siyah      ak      renk

d) hür      özgür      esir      barış

e) bazen      ara sıra      benzer      her zaman

f) parça      bütün      tane      kırık

S6. " Size bundan başka bir hediye veremiyorum. "

cümlesinde hangi sözcük alfabetik sıraya göre en sonda yer alır?

S7. Aşağıda verilen sözcüklerden hangilerinde ince ve kalın ünlüler birlikte yer alır?

çatallar	takvim	paket	domates
yazıcı	görevliler	ihtiyaçlar	meyveli
insanlık	kafes	bisiklet	kutlama

### TÜRKÇE TEST

S1. Verilen kelime çiftlerinden hangisi bir yönüyle diğerlerinden farklıdır?

a) ak-beyaz      b) kapalı-açık      c) ev-konut

S2. Aşağıdaki cümlelerin hangisinde belirtilen eylem **henüz gerçekleşmemiştir**?

a) Babam, bahçedeki çiçekleri suladı.  
b) Ninem, bize masal anlatacak.  
c) Annem, biraz önce pazara gitmiş.

S3. Altı çizili sözcüklerden hangisi yapılan işi belirtir?

a) Cem, **üzüntüsünden** ağlamaya başladı.  
b) Pencereden **dışarıya** bakıyordu.  
c) Küçük kedi ağaca **tırmanıyordu**.

S4. "Uzunca boylu, zayıf, yüzü kırışıklıklarla dolu, yaşlı bir **adamdı** bu." cümlesinde altı çizili sözcüklerin zıt anlamları sırasıyla hangi seçenekte verilmiştir?

a) tombul-boş-kadındı  
b) şişman-fazla-insandı  
c) ince - boş - çocuktu

S5. Hangi cümlede bir yazım yanlış yapılmıştır?

a) Pazarda ıspanag çok ucuzdu.  
b) Bu gece acayip soğuk geçti.  
c) Evde yalnız başına yaşıyormuş.

S6. "Kır çiçekleri her zaman güzel kokar." cümlesinde, hangi sorunun cevabı **yoktur**?

a) Ne?      b) Nasıl?      c) Nerede?

S7. Aşağıdaki varlıklardan hangisi somuttur?

a) üzüntü      b) kiraz      c) akıl

S8. 1-yaşıyordu      3-bir      5-yemyeşil  
2-karga      4-ormanda

Yukarıdaki kelimelerle anlamlı ve kuralı bir cümle oluşturulursa sıralama nasıl olur?

a) 4-5-3-2-1      b) 2-5-3-4-1      c) 5-3-2-1-4

S9. Verilen sözcüklere, uygun **hâl eklerini** yazalım.

	tören	ayak	Cenk
Yalın Hâli			
-e Hâli			
-i Hâli			
-de Hâli			
-den Hâli			