

S1. Aşağıda verilen bölme işlemleri yapalım.

$\begin{array}{r} 75 \overline{) 3} \\ \end{array}$	$\begin{array}{r} 64 \overline{) 5} \\ \end{array}$	$\begin{array}{r} 92 \overline{) 2} \\ \end{array}$
$\begin{array}{r} 53 \overline{) 4} \\ \end{array}$	$\begin{array}{r} 78 \overline{) 6} \\ \end{array}$	$\begin{array}{r} 674 \overline{) 5} \\ \end{array}$

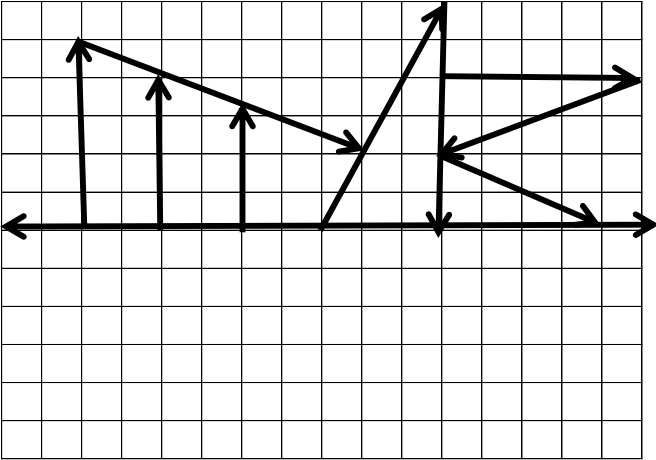
S2. Aşağıda verilen çarpma işlemlerini yapalım.

$\begin{array}{r} 62 \\ \times 8 \\ \hline \end{array}$	$\begin{array}{r} 75 \\ \times 5 \\ \hline \end{array}$	$\begin{array}{r} 84 \\ \times 37 \\ \hline \end{array}$
---------------------------------------------------------	---------------------------------------------------------	----------------------------------------------------------

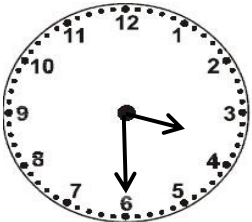
S3. Aşağıda boş bırakılan yerlere uygun sayıları yaz.

$\begin{array}{r} \square 6 \\ + 2 \square \\ \hline 41 \end{array}$	$\begin{array}{r} 6 \square \\ + \square 8 \\ \hline 95 \end{array}$	$\begin{array}{r} \square \square \\ + 37 \\ \hline 62 \end{array}$
----------------------------------------------------------------------	----------------------------------------------------------------------	---------------------------------------------------------------------

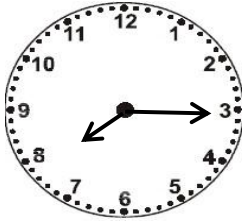
S4. Aşağıdaki şeklin simetriğini çizelim.



S5. Aşağıdaki gösterilen saatleri rakamla yazalım.



.....
(Öğleden sonra)



.....
(Öğleden Önce)

S6. Verilen sayılardan **tek** olanların **farkı** kaçtır?

$\begin{array}{r} 72 \quad 8 \\ \hline 14 \end{array}$	$\begin{array}{r} 6 \quad 27 \\ \hline 81 \end{array}$	$\begin{array}{r} 60 \quad 2 \\ \hline 46 \end{array}$
--------------------------------------------------------	--------------------------------------------------------	--------------------------------------------------------

S7. Aşağıda verilen işlemleri yapalım.

$\begin{array}{r} \text{Saat} \quad \text{Dakika} \\ 21 : 15 \\ - 05 : 40 \\ \hline \end{array}$	$\begin{array}{r} \text{Saat} \quad \text{Dakika} \\ 08 : 30 \\ + 03 : 15 \\ \hline \end{array}$
--------------------------------------------------------------------------------------------------	--------------------------------------------------------------------------------------------------

S8. Aşağıdaki boşluklara uygun sayılar yazalım.

- a) 4 bütün çeyrektir.
b) 16 bütünyarımdır.
c) 74 yarım.....bütündür.
ç) 28 çeyrek.....bütündür.
d) 6 yarım + 20 çeyrek.....bütündür.

S9. 4 m kumaşın, 146 cm'sini kullanan bir terzinin geriye ne kadar kumaşı kalır?

S10. " 29 " sayısından bir önce ve bir sonra gelen **tek sayıların** toplamı kaçtır?

S11. 

Yukarıda, cetvelde ok ile belirtilen sayının en yakın olduğu onluk, **sayının kendisi ile çarpılırsa** sonuç kaç olur?

S12. " 38 + 44 " işleminin sonucu, 7 onluktan kaç fazladır?

S13. Üç toplananlı bir toplama işleminde 1.toplanan 46 'nın yarısı, 2.toplanan 19 ' un 2 katı ve toplam 81 olduğuna göre, 3.toplanan kaçtır?

ÇİFTÇİ VE OĞULLARI

Yaşlı bir çiftçi hastalanmış.Çocuklarını yanına çağır-
mış:

-Evlatlarım, ben bu hastalıktan belki kurtulamam.
Tarlaların bir yerinde altın gömülüdür. Onları arayın,bu-
lun, demiş. Çiftçi bir süre sonra ölmüş. Çocuklar, tarla-
nın her yerini kazmışlar. Fakat altın bulamamışlar. Bu-
nun üzerine :

-Bu kadar uğraşmamız boşa gitmesin, demişler ve
tarlayı güzelce ekmişler.

O yıl tarladan bol ürün almışlar. Bu ürünü satmışlar.
Çok para kazanmışlar.Bunun üzerine çiftçinin çocukları:

-Babamızın ne söylemek istediğini şimdi daha iyi
anladık. Çalışan mutlaka kazanır, demişler.

SORULAR

S1. Yaşlı çiftçi, çocuklarına ne söylemiş?

S2. Yaşlı çiftçi, çocuklarını ne zaman yanına çağırmış?

S3. Çocuklar, altını bulamayınca ne yapmışlar?

S4. Çiftçinin çocukları nasıl para kazanmış?

S5. Verilen sözcüklerin **karşıt anlamlarını** karşısında
verilen sözcükler arasından bulup, boyayayım.

a) birinci sonuncu sporcu ilk

b) öz benzer cins üvey

c) küt sivri sert sağlam

ç) aktif anormal pasif negatif

d) sevap cennet günah melek

e) sıvı sulu berk katı

f) çalışma başarı tatil mesai

S6. " O yıl tarladan bol ürün almışlar. "

cümlesinde hangi sözcük alfabetik sıraya göre en
sonda yer alır?

S7. Aşağıda verilen sözcüklerden hangilerinde ince ve
kalın ünlüler birlikte yer alır?

benzinlik	formüller	hassas	örüntü
egzersiz	yastık	Çanakkale	otomatik
sertifika	otel	papağan	bilinçli

TÜRKÇE TEST

S1. "Bayat ekmekleri mutlaka değerlendirmeliyiz."
cümlesindeki hangi sözcük bir varlığın özelliğini
belirtmektedir?

a) değerlendirmeliyiz b) mutlaka c) bayat

S2. 1-Güzel okulumuza yeniden kavuştuk.

2-Okullar açıldı.

3-Yeni ders yılımız başladı.

4-Yaz bitti.

5-Hepimiz çok sevinçliyiz.

Yukarıdaki cümleler anlamlı bir bütün oluşturacak
şekilde dizilirse sıralama nasıl olur?

a) 4-3-1-5-2 b) 4-2-3-1-5 c) 5-1-2-3-4

S3. "..... kitapları çok severim. " cümlesinde boş
bırakılan yere aşağıdakilerden hangisi yazılırsa, ki-
tapların özelliği anlatılmış olur?

a) fakat b) sadece c) resimli

S4. "Ayakkabısı - esir - pabuç- öykü - vapur - hikaye-
gemi "

Yukarıdaki sözcükler eş anlamlıları ile birlikte ve-
rilmiştir. Buna göre, hangi sözcüğün eş anlamlısı

yoktur?

a) esir b) pabuç c) vapur

S5."Bin" sözcüğü hangi cümlede farklı anlamda kul-
lanılmıştır?

a) Ayşe de uçağa binmiş.

b) Talip, bine kadar sayabiliyormuş.

c) Ata bindiği gibi, oradan hızla uzaklaştı.

S6. Aşağıdaki cümlelerin hangisinde neden-sonuç
ilişkisi vardır?

a) Annem, işten gelince bu konuyu konuşacağız.

b) Babam da tatile bizimle gelebilir.

c) Sinemaya gidileceğini duyunca, Mert çok sevindi.

S7. Verilen sözcüklere, uygun **hâl eklerini** yazalım.

	yemek	market	Salih
Yalın Hâli			
-e Hâli			
-i Hâli			
-de Hâli			
-den Hâli			