

S1. Aşağıda verilen bölme işlemleri yapalım.

$$\begin{array}{r} 6 \ 7 \overline{) 3} \\ \hline \end{array} \quad \begin{array}{r} 8 \ 3 \overline{) 5} \\ \hline \end{array} \quad \begin{array}{r} 7 \ 1 \overline{) 4} \\ \hline \end{array}$$

$$\begin{array}{r} 5 \ 2 \overline{) 3} \\ \hline \end{array} \quad \begin{array}{r} 3 \ 5 \overline{) 2} \\ \hline \end{array} \quad \begin{array}{r} 1 \ 3 \ 8 \overline{) 5} \\ \hline \end{array}$$

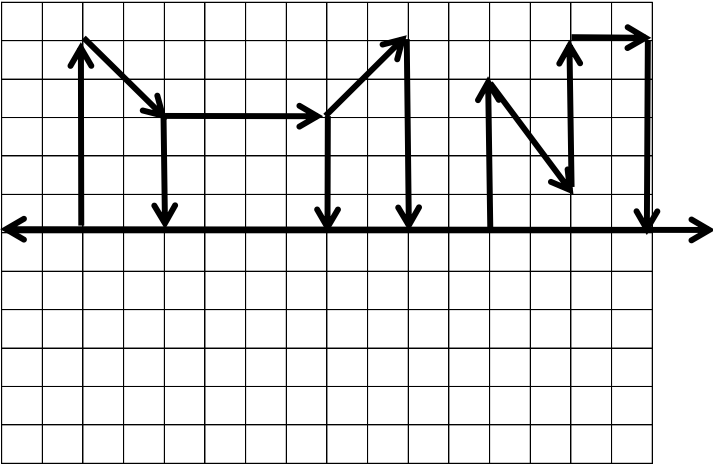
S2. Aşağıda verilen çarpma işlemlerini yapalım.

$$\begin{array}{r} 8 \ 1 \\ \times \quad 7 \\ \hline \end{array} \quad \begin{array}{r} 5 \ 4 \\ \times \quad 6 \\ \hline \end{array} \quad \begin{array}{r} 5 \ 3 \\ 7 \ 2 \\ \times 7 \ 2 \\ \hline + 5 \ 3 \\ \hline \end{array}$$


S3. Aşağıda boş bırakılan yerlere uygun cevapları yaz.

- a) 11 ayhaftadır.
b) 3 mevsim.....aydır.
c) 2 yılhaftadır.
ç) 3 gün.....saattir.


S4. Aşağıdaki şeklin simetriğini çizelim.



S5. Aşağıdaki gösterilen saatleri rakamla yazalım.



.....
(Öğleden sonra)

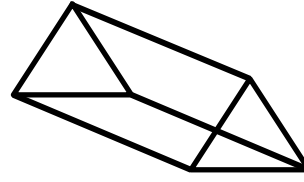


.....
(Öğleden Önce)

S6. Verilen ölçülere uygun sayılar yazalım.

- a) 3 m :cm ç) 5726 g :kg.....g
b) 4 L :mL d) 225 cm :m.....cm
e) 9 kg :g e) 1540 mL :L.....mL

S7. Verilen geometrik şeklin, özelliklerini yazalım.



Şeklin adı :
yüzey sayısı :
ayrıt (kenar) sayısı :
köşe sayısı :

S8. Çarpma işleminde verilmeyen sayıları bulalım.
(Çarpmada verilmeyen çarpan, bölme ile bulunur.)

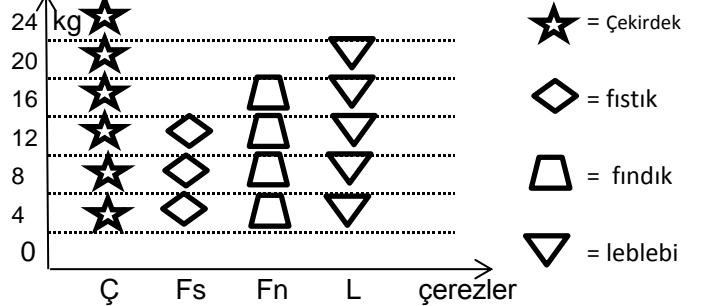
$$\begin{array}{r} 3 \\ \times 5 \\ \hline 1 \ 5 \end{array}$$

$$\begin{array}{r} 4 \\ \times 4 \\ \hline 8 \ 4 \end{array}$$

$$6 \times \square = 18$$

S9. Recep Amca, çiftliğindeki atların 2 düzinesini satınca geriye 18 tane atı kaldı. Buna göre, Recep Amca'nın satmadan önce kaç atı vardı?

S10.



Her şekil 4 kilogramı göstermektedir.

Tabloda bir kuruyemişçinin 1 günde sattığı çerez miktarı gösterilmektedir. Buna göre;

a) Tabloda, toplam kaç kg çerez satılmıştır ?

b) Kaç kg fıstık daha satılırsa, leblebi ile aynı miktara ulaşır?

S11. $\diamond + 19 = 51$



$\star - \diamond = 46$

ise; \star yerine yazılacak sayının, yarısı kaçtır?

.....
Güneş' in bu kadar güzel doğduğunu bilmiyordum. Önce, karşı tepelerin arkasından, küçük bir ateş parçası gibi göründü. Sonra, yavaş yavaş yükselmeye başladı. Gözle görülür bir hızla yükseliyordu. Az sonra parlak, turuncu renkli bir balon gibi göründü. Bir portakal gibi bütünüyle çıktı ortaya. Dünya'yı aydınlattı. Güneş, yükseldikçe gökyüzündeki pembelik de yavaş yavaş açık maviye dönüştü.

SORULAR

S1. Metinde anlatılan olay nedir?

S2. Gökyüzündeki pembelik açık maviye nasıl dönüştü?

S3. Yazar, Güneş'in bütünüyle ortaya çıktığı anda onu neye benzetiyor?

S4. Yazar, Güneş'in doğuşunu ilk olarak nerede görüyor?

S5. Verilen sözcüklerin, **eş anlamlarını** karşılarındaki sözcükler arasında bulup boyayalım.

a) beygir	it	at	yat
b) tekne	kayık	uçak	araba
c) cihan	Güneş	Dünya	Ay
ç) roket	tank	füze	savaş
d) meydan	alan	orman	bahçe
e) söz	ses	yazı	laf
f) duygu	sakin	his	akıl

S6. " Bulut, Güneş'in önünden kaçarcasına uzaklaştı." cümlesine göre, aşağıdaki soruları cevaplayalım:

a) Ne? :

b) Nereden ? :

c) Nasıl? :

S7. " Emek olmadan, yemek olmaz. "

atasözüne göre;

a) Cümle kaç sestene oluşur? :

b) Cümle kaç heceden oluşur? :

c) Cümle kaç sözcükten oluşur? :

TÜRKÇE TEST

S1. " At " sözcüğü hangi cümlede farklı bir anlamda kullanılmıştır?

a) Çöpleri çöp kutusuna at.

b) Yarışmayı kazanan ata şeker verdiler.

c) Elindeki taşı yere at.

S2. Öyle çabuk geldi ki,

Özlenen yaz tatili.

Çiçek, kuş, ağaç, deniz,

Bizi bekliyor şimdi.

Yukarıdaki dördlüğe göre, çabuk gelen nedir?

a) Yeni ders yılı

b) Bahar mevsimi

c) Yaz tatili

S3. Aşağıdakilerden hangisi diğerlerinden **farklıdır**?

a) çiçek

b) menekşe

c) lale

S4. "Uzun yolculuktan sonra oraya vardılar."

Cümlesinde hangi sözcük varlığın özelliğini belirtmektedir?

a) uzun

b) oraya

c) yolculuktan

S5. Zıt anlamlı sözcükler hangi cümlede bir arada kullanılmıştır?

a) Hakan, sahnedeki arkadaşlarını alkışladı.

b) Gösteriler başlamadan piste küçük bir at çıkmıştı.

c) Büyük küçük herkes sirkten söz ediyordu.

S6. Anlamca ilişkili sözcük eşleştirmelerinden hangisi **yanlıştır**?

a) orman-ev

b) kamp-çadır

c) oyun-arkadaş

S7. " Senin.....geç kalacağını sanmıyordum. " cümlesindeki boşluğu hangi sözcükle tamamlarız?

a) bu kadar

b) fakat

c) ancak

S8. Hangi özel isim **yanlış** yazılmıştır?

a) Mehmetler

b) Karslı

c) Fatı' hin

S9. Verilen cümlelerde eylemlerin altını çizelim.

a) Kitabını unutmuş yine masasında.

b) Hasta olduğu için çok öksürüyor.

c) Halamlar, Tuna Mahallesi' ne dün taşındı.

ç) Onur, dedesinin sepet örmesini izliyordu.

d) Akşam yemeğinden sonra yedik meyveleri.