

S1. Aşağıda verilen bölme işlemleri yapalım.

$\begin{array}{r} 6 \ 8 \overline{) 2} \\ \hline \end{array}$	$\begin{array}{r} 7 \ 4 \overline{) 4} \\ \hline \end{array}$	$\begin{array}{r} 3 \ 8 \overline{) 3} \\ \hline \end{array}$
$\begin{array}{r} 8 \ 3 \overline{) 5} \\ \hline \end{array}$	$\begin{array}{r} 1 \ 7 \overline{) 4} \\ \hline \end{array}$	$\begin{array}{r} 4 \ 7 \ 6 \overline{) 2} \\ \hline \end{array}$

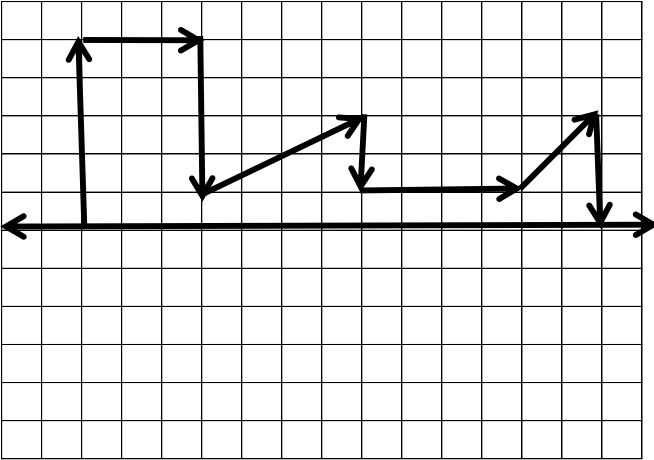
S2. Aşağıda verilen çarpma işlemlerini yapalım.

$\begin{array}{r} 2 \ 7 \\ \times \quad 4 \\ \hline \end{array}$	$\begin{array}{r} 8 \ 5 \\ \times \quad 2 \\ \hline \end{array}$	$\begin{array}{r} 6 \ 7 \\ \times 3 \ 5 \\ \hline \end{array}$
--	--	--


S3. Aşağıda boş bırakılan yerlere uygun sayıları yaz.

$\begin{array}{r} \square \ 8 \\ + \ 3 \ \square \\ \hline 9 \ 4 \end{array}$	$\begin{array}{r} 5 \ \square \\ + \ \square \ 7 \\ \hline 8 \ 1 \end{array}$	$\begin{array}{r} \square \ \square \\ + \ 2 \ 8 \\ \hline 5 \ 3 \end{array}$
---	---	---


S4. Aşağıdaki şeklin simetriğini çizelim.



S5. Aşağıdaki gösterilen saatleri rakamla yazalım.



(Öğleden sonra)



(Öğleden Önce)

S6. Verilen sayılardan tek olanların farkı kaçtır?

" 34 - 90 - 22 - 83 - 46 - 8 - 17 - 50 - 102 - 78 - 44 - 62 "

S7. Aşağıda verilen işlemleri yapalım.

$\begin{array}{r} \text{Saat} \quad \text{Dakika} \\ 1 \ 2 : 1 \ 5 \\ - 0 \ 5 : 4 \ 0 \\ \hline \end{array}$	$\begin{array}{r} \text{Saat} \quad \text{Dakika} \\ 0 \ 6 : 3 \ 5 \\ + 1 \ 4 : 1 \ 5 \\ \hline \end{array}$
--	--

S8. Aşağıdaki boşluklara uygun sayılar yazalım.

- a) 10 bütün çeyrek.
 b) 14 bütünyarımdır.
 c) 86 yarım.....bütündür.
 ç) 32 çeyrek.....bütündür.
 d) 26 yarım + 20 çeyrek.....bütündür.

S9. Aklımda tuttuğum sayının yarısını 16 eksiği 15 'tir. Buna göre, aklımda tuttuğum sayı kaçtır?

S10. İki basamaklı, rakamları birbirinden farklı en küçük tek sayının, basamak değeri farkı kaçtır?

S11. Çeyrek kilosu 4 TL olan kirazdan 5 kg alan Gül, satıcıya kaç TL ödemelidir?

S12. Bir doğal sayıyı 3' e böldüğümüzde bölüm 16 oluyor. Aynı doğal sayıyı 7' ye bölssek kalan kaç olur?

S13. Bir kovayı suyla doldurmak için 12 çeyrek litre, 8 yarım litre ve 7 tane 1 litrelik kaplar kullanılıyor. Buna göre, kovayı doldurmak için ne kadar su gereklidir?

S14. $57 + 25 = ?$ İşleminin gerçek ve tahmini sonucu kaçtır?

BAYRAM GÜNÜ

Bu bayram günü
Uçuşan kuşlar yere indi.
Yerde yürüyen karınca
Gökte uyuyan Ay sevindi.

Bizim olsun masmavi
Kıyısız denizler bugün.
Kuşların kanadında gelen
Tanrı armağanı bir düğün.

Pupa yelken süzülelim Ata'ya
Adımızı yazalım mavi suya
Bu güzel rüya sürsün.
Değnekten atlarımız,
Su üstünde yürüsün.

M. Ruhi ŞİRİN

SORULAR

S1. Şair, kime gitmek istiyor?

S2. Şiire göre, su üstünde yürüyen nedir?

S3. Şiirin, ilk dördlüğü kaç sözcükten oluşur?

S4. Şiirin, 10. mısrası kaç sestten oluşur?

S5. Şiirin ikinci dördlüğü kaç heceden oluşur?

S5. Verilen sözcüklerin **karşıt anlamlarını** karşısında
verilen sözcükler arasından bulup, boyayayım.

a) galip mağlup takım kupa

b) yorgun düzenli dinç hekim

c) geçmiş şimdi gelecek eski

ç) yasak serbest suçlu mahkum

d) hasta sağlıklı veteriner hastane

e) aynı benzer resim farklı

f) pak yok kirli ıslak

S6. "Kenara dizilmiş sandalyelere oturdular sırayla."
cümlesinde hangi sözcük alfabetik sıraya göre en
sonda yer alır?

S7. Aşağıda verilen sözcüklerden hangilerinde ince ve
kalın ünlüler birlikte yer alır?

postane	madde	tabela	boşluk
tencere	seçim	meyveler	matem
alfabe	pijama	sözlük	yufka

TÜRKÇE TEST**S1.** Verilen sözcüklerden hangisi doğru yazılmıştır?

a) Köprü b) Tırafik Lambası c) Kirbit

S2.

1- Ekmek

2- Süt

Aşağıdakilerden hangisini yukarıdaki varlıkların
her ikisinin de ortak özelliğini belirtmek için kulla-
nabiliriz?

a) Büyük b) Sıcak c) Yumuşak

S3. Hangi cümlede kesme işareti yanlış kullanılmıştır?


a) Kalemimi Ayşe' ye verdim.
b) Aslı'nın annesi İstanbul'ludur.
c) Atatürk'ün kabri Ankara'dadır.

S4. "Bazı işleri tek başımıza yapamayız.Yapmaya ça-
lışsak bile işi bitirmemiz uzun sürebilir.Oysa birile-
rinden yardım alırsak işi hem kolay yaparız hem de
kisa dürede bitirebiliriz. " **Açıklaması hangi atasö-
züne ait olabilir?**

a) Üzüm üzüme baka baka kararır.
b) Ayağını yorganına göre uzat.
c) Bir elin nesi var, iki elin sesi var.

S5. Hangi cümlede **yazım yanlış** yapılmıştır?

a) Neslihanlar birlikte okula gidiyorlar.
b) Perşenbe günü maça çıkacağız.
c) Okuduğum kitabı çok beğendim.

S6.

Yukarıdaki bulmacada boş bırakılan yere hangisi
yazılmalıdır?

a) Kalın-İnce b) Siyah-Beyaz c) Büyük-Küçük

S7. Verilen sözcüklere, uygun **hâl eklerini** yazalım.

	karton	aşağı	Samsun
Yalın Hâli			
-e Hâli			
-i Hâli			
-de Hâli			
-den Hâli			