

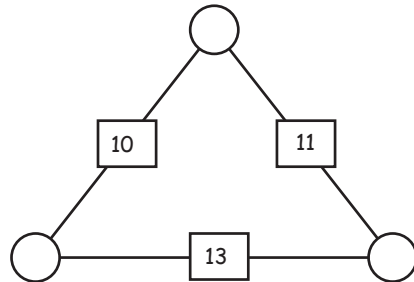
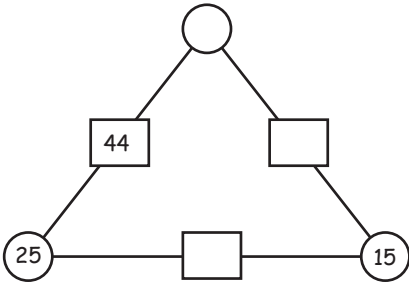
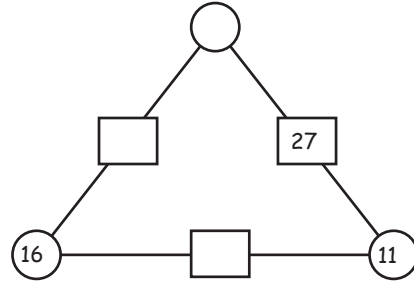
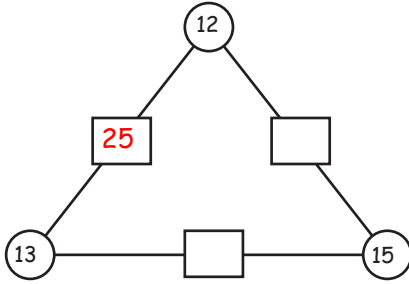
# BULMACA

Verilen işlemlerde eksik bırakılan yerleri doldurunuz.

6	+		=	14
+		+		+
	+	9	=	16
=		=		=
13	+		=	

20	-	12	=	
+		+		+
25	-		=	13
=		=		=
	-		=	

Aşağıda verilen üçgen piramitlerde eksik bırakılan yerleri köşeleri toplayarak, uygun sayılarla tamamlayınız



# BULMACA

Verilen işlemlerin soldan sağa toplamı en sağdaki sayıyı, yukarıdan aşağıya toplamı en alttaki sayıyı, Çaprazların toplamı çaprazlardaki sayıyı vermelidir. Açıklamaya göre eksik sayıları doldurunuz.

				58
12	22			58
			12	63
34	17		14	97
13			21	62
80	68	76	56	76

Aşağıda verilen üçgen piramitlerde eksik bırakılan yerleri köşeleri toplayarak, uygun sayılarla tamamlayınız

