





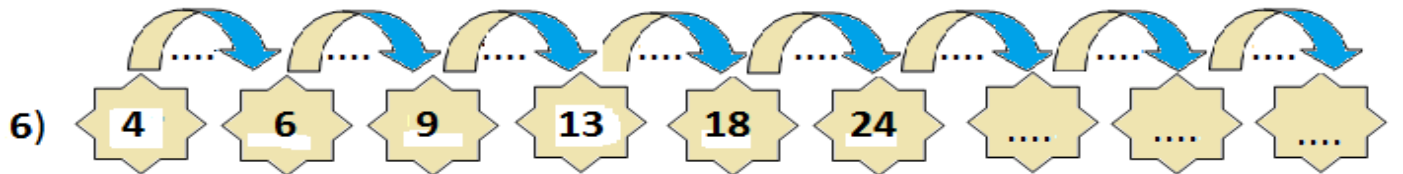
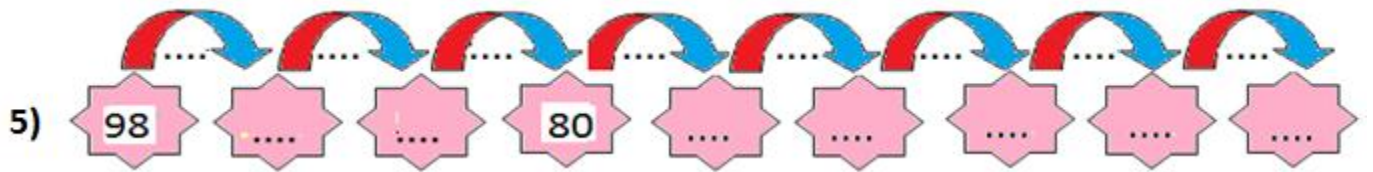
## ÖRÜNTÜLER-2



Adı-Soyadı: .....

No :.....

Aşağıdaki örüntülerle ilgili artışları-azalışları belirtip,verilmeyenleri bulup yazalım.



Şekildeki örüntüyü devam ettirerek, 17. şekil hangisi olacağını bulunuz.



O.Çabuk