




Adı:.....
Soyadı:.....




2. SINIF MATEMATİK
"En Yakın Onluğa Yuvarlama"

ETKİNLİK
-7-




Araba hangi onluktan gitmelidir?

	50	
 47		
	40	




Araba hangi onluktan gitmelidir?

	80	
 71		
	70	




Araba hangi onluktan gitmelidir?

	20	
 19		
	10	




Araba hangi onluktan gitmelidir?

	20	
 25		
	30	




Araba hangi onluktan gitmelidir?

	90	
 93		
	100	



Araba hangi onluktan gitmelidir?

	70	
 64		
	60	

Araba hangi onluktan gitmelidir?

	30	
 35		
	40	

Araba hangi onluktan gitmelidir?

	80	
 89		
	90	