


KUBİLAY İLKOKULU 2/A SINIFI DESTE DÜZİNE KAVRAMI ETKİNLİĞİ

Adı- Soyadı:..... No:

DESTE: Aynı türden 10 adet varlıktan oluşan topluluğun sayısına deste denir.




DÜZİNE: Aynı türden 12 adet varlıktan oluşan topluluğun sayısına düzine denir.




- Düzine desteden 2 fazladır ya da deste düzineden 2 azdır.
- Destenin yarısı 5'tir, düzinenin yarısı 6'dır.

SORU: İki düzine ve bir destenin yarısı kadar kalem kaç kalem eder?



İki düzine



yarım deste

ÇÖZÜM: $12+12+5 = 29$ kalem eder.

SORU: 3 yarım deste ve 1 yarım düzine silgi kaç silgi eder?



yarım deste silgi



yarım deste silgi



yarım deste silgi



yarım düzine silgi

ÇÖZÜM: $5 + 5 + 5 + 6 = 21$ silgi eder.

SORULAR

1-Aşağıda verilen çoklukların ve işlemlerin sayı değerlerini bulup, yazınız

a	2 deste + 1 düzine
b	5 deste + yarım deste
c	3 yarım deste + 1 yarım düzine
ç	2 bütün, 1 yarım düzine	28
d	3 bütün , 2 yarım deste
e	4 deste - 3 düzine
f	6 deste - 1 düzine	72
g	2 düzine - 3yarım deste
ğ	2 bütün 2 yarım deste – 2 düzine
h	8 yarım deste + 3 düzine




$$12 + 12 + 6 = 28$$

$$10 + 10 + 10 + 10 + 10 + 10 + 12 = 72$$

2-

Kalemlerimin
sayısı: 3 yarım
deste, 3 düzine
kadardır.



Kalemlerimin
sayısı: 4 yarım
düzine ve 3 deste
kadardır.

Yukarıda verilenlere göre aşağıdakilerden hangisi doğrudur?

- a)İkisinin de kalemlerinin sayısı eşittir.
- b)Ceren'in kalemleri Can'ın kalemlerinden 2 fazladır.
- c)Can'ın kalemleri Ceren'in kalemlerinden 3 fazladır.

3- 100 sayısı aşağıdakilerden hangisine karşılık gelmez?

- a)7 deste + 3 düzine
- b)5 düzine +4 deste
- c)12 düzine – 2 deste

4-41 kalem, 3 düzine 2 kalemden kaç fazladır?

- a)3
- b)2
- c)4

5 Bir ağaçta 4 düzine 3 yarım deste kadar kuş var. Bu ağaçta kaç kuş vardır?

- a)55
- b)63
- c)68

O.Çabuk