

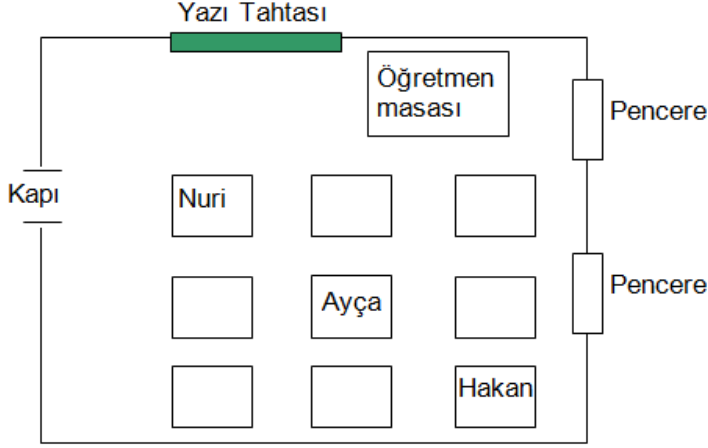
ADI SOYADI: .....

## HAYAT BİLGİSİ

### 1. Aşağıdakilerden hangisi okulla ilgili yapılan hazırlıklardandır?

- A) Ders araç ve gereçlerini çantaya yerleştirmek
- B) Her gün yarım saat kitap okumak
- C) Kişisel bakımına özen gösterip düzenli yapmak

2.



Yukarıdaki krokide Nuri, Ayça ve Hakan'ın yerleri gösterilmiştir. **Bu öğrencilerin yerleri ile ilgili olarak hangi seçenekteki ifade yanlıştır?**

- A) Nuri, kapı tarafındaki ilk sırada oturmaktadır.
- B) Ayça, orta gruptaki sıraların sonunda oturmaktadır.
- C) Hakan, pencere tarafındaki sıraların sonunda oturmaktadır.

### 3. Mete ve Seda kulüp çalışmalarında proje hazırlayacaklardır. Mete, fotoğraf ve afişler bulacak, Seda ise bilgi toplayacaktır. **Mete ve Seda için aşağıdakilerden hangisi söylenebilir?**


- A) İyi arkadaşlardır.
- B) Mete grubun lideridir.
- C) İş birliği yaparak çalışırlar.


### 4. Burcu ve arkadaşları okul gazetesinde doğa ve ağaç sevgisi ile ilgili yazı hazırlamak istiyorlar.


**Bunun için hangi öğrenci kulübünden yardım istemeleri doğru olur?**

- A) Halk Oyunları Kulübü
- B) Yeşili Koruma Kulübü
- C) Tiyatro Kulübü

5 Hangi öğrenci için “dengeli ve düzenli beslenmektedir” denilebilir?

A)  Sadece et yemeklerini yerim.

B)  Yemek ayırt etmem. Her türlü besinden yeterince yerim.


C)  Çok sevdiğim için her öğün sadece pasta ve börek yerim.


6. “Arkadaşlarımdan Canan mavi gözlü, Ayla kahverengi gözlü, Nalan ise ela gözlüdür.”


**Yukarıdaki ifadeden aşağıdakilerden hangisine ulaşılabilir?**

- A) Kişilerin farklı fiziksel özelliklere sahip olduğuna
- B) Kişilerin farklı duygusal özelliklere sahip olduğuna
- C) Kişilerin farklı el becerilerinin olduğuna

7. Aşağıdaki öğrencilerden hangisi okul veya sınıf eşyalarının özenli **kullanmamaktadır**?

A)  Sınıfta sıranın üzerine adımı kazırım ki bu sıranın benim olduğu belli olsun.

B)  Tuvaletten, açık olan musluk varsa onu kapatıp çıkarım.

C)  Son ders bitiminde yazı tahtasını siler, sınıftan öyle çıkarım.

8.

- ◇ Vapur
- ◇ Kayık
- ◇ Motosiklet

**Yukarıdaki taşıtlardan kaç tanesi deniz taşıtıdır?**

- A) 1
- B) 2
- C) 3

9. Ahmet okuldan çıkınca evine gitmek için trafik ışığının bulunduğu kavşaktan karşıya geçecekti. **trafik lambasından yayalar için hangi renk yanınca karşı**

**kaldırılma geçmeye başlamalıdır?**

- A) Yeşil B) Sarı C) Kırmızı

10. Okuldan eve dönmekte olan Oğuz yolda, tanımadığı bir grup çocuğun oyun oynadığını gördü. Çocuklar Oğuz'u yanına çağırıp kendileri ile oyun oynamasını teklif ettiler.

**Bu durumda Oğuz aşağıdakilerden hangisini söylerse doğru olur?**

- A) Futbol oynarsak oynayabilirim.  
B) Eve gitmem gerekiyor. Kusura bakmayın.  
C) Okuldan geliyorum biraz dinleneyim öyle oynayalım.

11. **Aşağıdakilerden hangisi vücudumuzun bölümlerinden biri **değildir**?**


- A) Başımız  
B) Kalbimiz  
C) Kollarımız ve bacaklarımız,

12. - Okul ve sınıflar süslenir.  
- Okul ve caddelere bayraklar asılır.

**Yukarıdakiler aşağıdaki bayramların hangisinde yapılır?**

- A) Şeker Bayramı  
B) Kurban Bayramı  
C) Cumhuriyet Bayramı

13.



**Yukarıdaki öğrencilerden hangileri sağlığını korumaya yönelik uygun davranışta bulunmaktadır?**

- A) Emine ve Yunus  
B) Yunus ve Duygu  
C) Emine, Yunus ve Duygu

14. Selim, yolda yürürken yaşlı bir teyzenin koluna girerek, onun karşı kaldırıma geçmesini sağladı.

**Buna göre Selim için aşağıdakilerden hangisi söylenebilir?**

- A) Yardım severdir.
- B) Sözünde durmayan birisidir.
- C) Yalancıdır.

15. **Tek başımıza yapamadığımız bir iş için arkadaşlarımızdan yardım isterken aşağıdaki ifadelerden hangisini kullanmalıyız?**

- A) Bana yardım edebilir misiniz?
- B) Hemen bana yardım edin.
- C) Ne olur yardım etseniz sanki?

## TÜRKÇE

1. “Onlar çok fakirdi.” cümlesinde altı çizili sözcüğün eş anlamlısı aşağıdakilerden hangisidir?

- A) zengin
- B) kalabalık
- C) yoksul

2. **Aşağıdaki cümlelerin hangisinde "çalışkan" sözcüğünün karşıt anlamlısı vardır?**

- A) Karşıt anlamlı sözcükler öğrendim.
- B) Dersini dikkatle dinlemelisin.
- C) Ağustos böceği gerçekten tembel mi?

3. **Aşağıdaki cümlelerden hangisi karşılaştırma cümlesidir?**

- A) Yarın nereye gideceksiniz?
- B) Sinan tiyatroya gitti.
- C) Büşra, senden erken uyudu.

4.

Güzel kokulu ekmek,  
Olmaz seni sevmemek.

**Yukarıdaki dizelerde hangi kelime eş seslidir?**

- A) Güzel
- B) Ekmek
- C) Seni

5. iftlikteki beyaz at dedem iin ok nemliydi.

**Yukarıdaki cümlede “at” kelimesi hangi anlamda kullanılmıştır?**

- A) Bir şeyi fırlatmak
- B) Bir hayvan
- C) Bir şeyi yere doğru bırakmak

6. **Aşağıdaki cümlelerden hangisi sebep-sonuç cümlesidir?**

- A) Kırmızı ışıhta geçtiği iin kaza yaptı.
- B) Ablam akşam yemeğe gelemeyecekmiş.
- C) Kardeşim erkenden uyudu.

7.

**Aşağıdaki cümlelerden hangisi sebep-sonuç cümlesidir?**

- A) İlalarını içmediği iin iyileşemedi.
- B) Okuldan eve yorgun döndü.
- C) Ozan marketten bisküvi aldı.

8.

Okul yurt güneşidir,  
Bize bilgiler saçar.  
Annemizin eşidir,  
Severek kucak açar.

**Dizelerde güneşe ve anneye benzetilen hangisidir?**

- A) okul
- B) sevgi
- C) aile

9.

Nasrettin Hoca, bir gece sokakta geziyormuş. Bekiler:  
— Bu saatte sokakta ne arıyorsun, diye sormuşlar.  
Hoca:  
— Uykum kaçtı da onu arıyorum, demiş.

**Metinde anlatılan olay ne zaman geçmektedir?**

- A) akşam
- B) öğleyin
- C) gece

10. “Kış gelince havalar .....” cümlesindeki noktalı yere aşağıdakilerden hangisinin yazılması

- A) ısınır
- B) soğur
- C) rahatlar

11. Bayrağım çok güzeldir. Rengi kırmızıdır. Üzerinde beyaz bir ay ve yıldız vardır. Bayram günleri her yere bayraklar asılır. Caddeler, sokaklar çok güzel görünür. Okulumuz ve sınıfımız bayraklarla donatılır. Biz de her bayramda evimize bayrak asarız. Bayrağımı çok severim. Onunla övünürüm.

**Bayrağımızda aşağıdaki renklerden hangisi **yoktur**?**


- A) Mavi B) Beyaz C) Kırmızı
12. "Bu pantolonun üstüne kırmızı ..... yeşil bir kazak olabilir." **cümlesinde noktalı yere aşağıdakilerden hangisi gelmelidir?**
- A) veya B) ama C) ancak

13. "Büyüyünce çocuk doktoru ..... bilgisayar mühendisi olmak istiyorum." **cümlesinde noktalı yere aşağıdakilerden hangisi getirilirse cümle anlamlı olur?**
- A) ancak B) fakat C) ya da

14. **Aşağıdaki cümlelerden hangisinin sonuna soru işareti konulmalıdır?**
- A) Ne zamandır bu filmi görmek istiyordum  
B) Nasıl yaptığını bana da anlat  
C) Niçin gözlüklerini takmıyorsun

15. **Aşağıdaki cümlelerden hangisinin sonuna nokta konulmalıdır?**
- A) Erol okuldan geldi  
B) Neden okula gelmedin  
C) Okulda neler yaptınız

## MATEMATİK

1.  Yukarıdaki çiçeklerin sayısı bir düzineden kaç fazladır?
- A) 5 B) 6 C) 7
2. **Aşağıdaki sayıların hangisinin onlar basamağında 8 rakamı vardır?**
- A) 58 B) 87 C) 98

3. 27'den başlayıp ileriye doğru üçer ritmik sayarken dördüncü saymada hangi sayıyı söyleriz?

A) 38 B) 37 C) 36

4.



Yukarıdaki sayı örüntüsünde “?” yerine hangi sayı gelmelidir?

A) 41 B) 42 C) 44

5.

$$\begin{array}{r} 36 \\ + 21 \\ \hline \end{array}$$

Yandaki toplama işleminde toplam kaçtır?

A) 56 B) 57 C) 58


6. Hangi seçenekte verilen toplama işleminin sonucu 56'dır?

A)  $21 + 25$   
B)  $13 + 43$   
C)  $32 + 34$

7.  $76 - 13$  işleminin sonucu kaçtır?

A) 53 B) 62 C) 63

8.






Ayşe'nin tahtaya yazmış olduğu işlemin sonucu hangi seçenekte doğru verilmiştir?

A) 43 B) 34 C) 35

9.



Yukarıdaki örüntü hangi şekil ile devam ettirilmelidir?

A)  B)  C) 

10. Aşağıdaki sayılardan hangisi 32 sayısından büyüktür?

A) 23

B) 26

C) 36

11. Aşağıda fiyatı verilen ürünlerden hangisi diğerlerinden daha pahalıdır?



34 ₺

A)



52 ₺

B)



42 ₺

C)

12. 45, 14, 24 sayılarının küçükten büyüğe doğru sıralanışı hangi seçenekte verilmiştir?

45 - 14 - 24

A)

24 - 14 - 45

B)

14 - 24 - 45

C)

13. Akrep 2 ile 3 arasında, yelkovan tam 6 üzerinde iken saat kaç gösterir?

A) 02.00

B) 02.30

C) 03.00

14. Aşağıdakilerden hangisinin boyu karış ile ölçülebilir?

A) silgi

B) sıra

C) kitap

15- Aşağıdaki saatlerin hangisi saat 09:00 göstermektedir?



A)



B)



C)