

Adı:.....


Soyadı:.....

2. SINIF MATEMATİK
"Çıkarma İşlemi Gerektiren Problemler"


ETKİNLİK

-2-


Aşağıdaki problemleri çözünüz.




Emine 92 sayfalık kitabın 45 sayfasını okumuştur. Geriye kaç sayfa kitap kalır?




Salih kümeden birinci gün 24, ikinci gün 27 yumurta aldı. Yumurtaların 18 tanesini sattı geriye kaç yumurtası kalır?




Melis'in sınıfında 35 öğrenci vardır. Bunların 8 tanesi hasta olmuş, 12 tanesi de geziye gitti. Sınıfta kaç öğrenci kalmıştır?



Selim babasından 25 lira, annesinden de 17 lira almıştır. Parasının 25 lirasına kitap alırsa geriye kaç lirası kalır?



Ufuk 76 lirasının 18 lirasına oyuncak, 35 lirasına ayakkabı aldı. Geriye kaç lirası kalır?



Ali cebindeki 80 liranın 34 lirasını harcadı geriye kaç lirası kalır?