


ADI :

SOYADI :


2. SINIF MATEMATİK BÖLME İŞLEMİ

ETKİNLİK: -4-

Aşağıdaki işlemleri istenen şekilde gruplayınız.




10 elmayı ikişerli gruplandırırızsak
.....grup olur.



12 elmayı üçerli gruplandırırızsak
.....grup olur.




12 çileği dörderli gruplandırırızsak
.....grup olur.




10 çileği beşerli gruplandırırızsak
.....grup olur.




16 futbolcuyu ikişerli gruplandırırızsak
.....grup olur.




18 kalemi üçerli gruplandırırızsak
.....grup olur.




12 hindiyi dörderli gruplandırırızsak
.....grup olur.



12 armudu üçerli gruplandırırızsak
.....grup olur.



8 tavşanı beşerli gruplandırırızsak
.....grup olur.



18 domatesi üçerli gruplandırırızsak
.....grup olur.