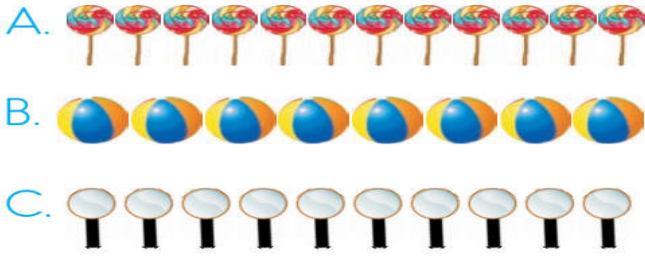
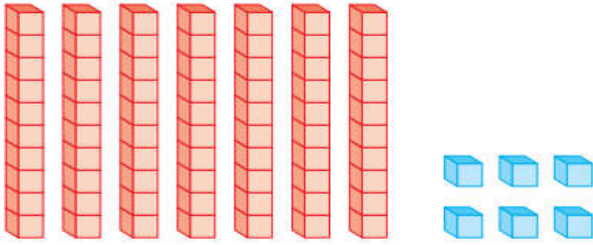


MATEMATİK

Aşağıdaki nesne gruplarından hangisi bir destedir?



Aşağıda sayı bloklarında gösterilen sayı kaçtır?



- A) 76 B) 67 C) 74



Yukarıdaki ritmik sayma hangi sayı ile sürdürülmelidir?

- A. 24 B. 26 C. 28

Aşağıdaki doğal sayılardan hangisi 2 onluk 6 birlikten oluşmuştur?

- A. 66 B. 62 C. 26

87 sayısının onluk ve birlikleri hangisinde doğru gösterilmiştir?

- A. 7 onluk 8 birlik
B. 8 onluk 8 birlik
C. 8 onluk 7 birlik

DENEME



Yukarıdaki sayı dizisinde ★ yerine hangi sayı yazılmalıdır?

- A. 21 B. 22 C. 23



İpe asılı mandalların sayısı bir düzineden kaç tane fazladır?

- A. 3 B. 4 C. 5



Yukarıdaki ritmik saymada "?" yerine hangi sayı yazılmalıdır?

- A. 22 B. 24 C. 26



Yukarıdaki ürünlerden en pahalı olanı hangisidir?

- A. Top B. Kazak C. Etek

Bir bahçede 45 portakal, 18 elma ağacı vardır.

Bahçede toplam kaç ağaç vardır?

- A. 62 B. 63 C. 73



18 ₺



Basketbol topu futbol topundan 5 ₺ pahalıdır.

İki topun fiyatları toplamı kaç liradır?

- A. 40 B. 41 C. 42



Cebimdeki 42 ₺'nin 26 ₺'sini harcadım.

Arda'nın kaç lirası kalmıştır?

- A. 24 B. 16 C. 23


Günde 5 litre su tüketen bir aile haftada kaç litre su tüketir?

- A. 12 B. 35 C. 70

Erdem günde 8 sayfa kitap okuyor.

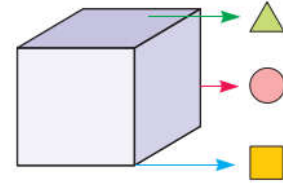
Erdem beş günde kaç sayfa kitap okur?

- A. 13 B. 20 C. 40



Yukarıdaki silgiler üçerli gruplanırsa kaç grup oluşur?

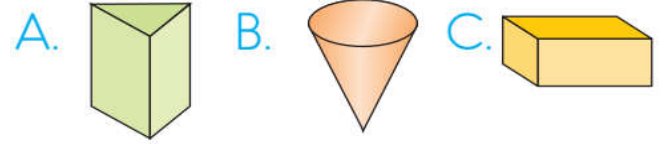
- A. 4 B. 5 C. 6



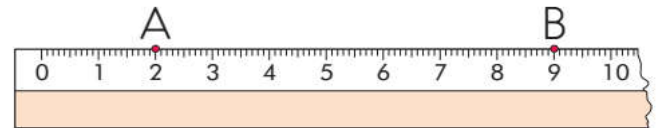
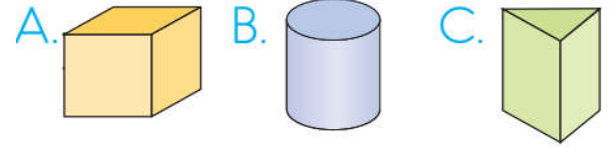
Yukarıdaki geometrik cismin ayrıtı hangi sembole gösterilmiştir?

- A. B. C.

Aşağıdaki geometrik cisimlerden hangisinin ayrıtı ve köşesi yoktur?



Aşağıdaki geometrik cisimlerden hangisinin 6 yüzü, 8 köşesi vardır?



Cetvel modelinde gösterilen A ve B noktaları arasındaki uzunluk kaç santimetredir?

- A. 6 B. 7 C. 8

Özlem 7.30'da uyanıp yarım saat sonra evden çıkıyor.

Özlem evden çıktığında saat kaçı gösterir?

