



ADI :
SOYADI :
SINIFI :
NO :

1. Bu deneme sınavı Türkçe 20, Matematik 15 Hayat Bilgisi 10 ve İngilizce 5 olmak üzere toplam 50 sorudan oluşmaktadır.
2. Her sorunun bir doğru cevabı vardır.
3. Yanlış doğruyu götürmemektedir.
4. Sınav süresi en fazla iki ders saatidir.

HAZIRLAYANLAR
SALİH ÖZENÇ
MUHAMMET ÖZENÇ

2016-2017

2.SINIF DENEME SINAVI -1-

TÜRKÇE

RÜYAM

Atladım bir buluta,
Hadi dedim rüzgara
Aldı götürdü beni ,
Yıldızlara aylara..
Gökkuşağına vardım ,
Renginden biraz aldım
Bulutlar kararmıştı,
Sütlü maviye boyadım..
Niye öyle çok şaştın ,
Hayretle bakakaldın ,
Ben rüyamı anlattım,
Yoksa gerçek mi sandın ?



Aşağıdaki ilk üç soruyu parçaya göre cevaplayınız?

1) Çocuk rüyasında neyin üstüne atlamış?

- A) Bulut B) At C) Araba

2) Çocuk bulutları hangi renge boyamış?

- A) beyaz B) sütlü mavi C) sarı

3) Bulut çocuğu rüyasında nereye götürmüştü?

- A) okula B) annesine C) yıldızlara

4) "Güzel" kelimesinin zıt anlamlısı hangi kelimedir?

- A) İyi B) Çirkin C) Kötü




5) Hangisi yukarıdaki resmi anlatan bir cümledir?

- A) Heidi dedesi kuzusu ve arkadaşlarıyla kırlarda eğleniyor.
B) Kötü kalpli cadı Heidi'yi yakaladı.
C) Heidi ormanda kayboldu.

6) "Çocuk kedisinin resmini yapıyordu." cümlesinin resmi hangisidir?



A



B



C



7)

Yukarıda karışık olarak verilen kelimelerin düz cümle hali hangisidir?

- A) Ali okula yarın gidecek.
B) Ali yarın sabah okula gidecek.
C) Okula Ali gidecek yarın sabah.

8) Aşağıdaki insan isimlerinden hangisi yanlış yazılmıştır?

- A) Aykut B) Hasan C) melek

Eyvah! Kitaplarımı ()
defterlerimi () çantamı
evde mi unuttun ()



9)

Yukarıdaki cümlede boş bırakılan yerlere sırasıyla hangi noktalama işaretleri gelmelidir?

A), , , B), , ? C), . ?

10) "**Yaşlı adam bahçede yürüyordu**"

Yukarıdaki cümlede altı çizili kelimenin eş anlamlısı hangisidir?

A)İhtiyar B)Genç C)Islak

göz

lük

me

11)

Yukarıdaki hecelerden hangi kelime oluşturulabilir?

A)Gözlük B) terlik C) melek

Annemin _____ severim.



12)

Yukarıdaki boş bırakılan yere hangisi yazılabilir?

- A) Bıyıklarını
- B) Kokusunu
- C) Ağlamasını

13) "**Yağmur durunca ardından rengarenk bir gökkuşağı çıktı.**"

Cümleye göre yağmurun ardından nasıl bir gökkuşağı çıkmış?

- A) Islak
- B) Upuzun
- C) Rengarenk



14)

Hangi cümle yukarıdaki resimle ilgilidir?

- A)Balıkçılar balık tutuyordu.
- B)Yağmurlu bir günde kelebekler uçuyordu.
- C)Güneşli bir gündü, kurbağa suya atladı.

15) "**Çay**" kelimesi hangi cümlede kahvaltıda içtiğimiz içecek anlamında kullanılmıştır?

- A)Bu Pazar çayırda top oynadık.
- B)Sabah simit ile çay içtim.
- C)Çaydan karşıya yüzerek geçtim.

16) "**Yüz**" kelimesi hangi cümlede sayı anlamında kullanılmıştır?

- A)Ali yüz tane elma topladı.
- B)Ayşe'nin yüzü kızarmış.
- C)Babam kurbanın derisini yüzdü.

17) " **Ö - R - K - B - E** "

Yukarıdaki harfleri kullanarak hangisini yazabiliriz?

- A)Çörek B) Börek C) Kürek

18) Aşağıdaki kelimelerden hangisi üç heceli bir kelimedir?

- A)portakal B)karpuz C)elma

Devler, Keloğlan'ın etrafını sarmıştı. Keloğlan çaresizlik içinde etrafına bakarken aklına bir fikir geldi.

19)

Yukarıdaki parçaya göre Keloğlan'ın etrafını kimler sarmıştı?

A)Hırsızlar B)Devler C)Kurtlar

Her annenin var değeri,
Kalbimizde onun yeri.
Sevgisinin sonu yoktur,
Annelerin hakkı çoktur.


Ali Osman ATAĞ

20)

Şiirde belirtilen ana duygu hangisidir?

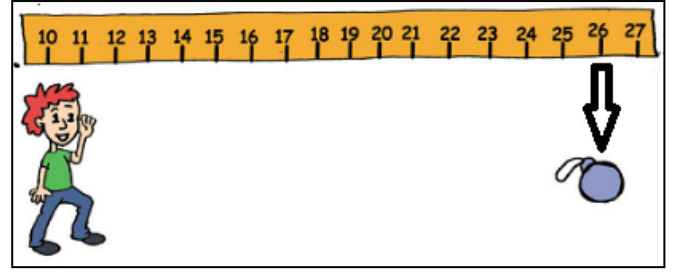
A)Anne sevgisi
B)Baba sevgisi
C)Sağlığın önemi

MATEMATİK



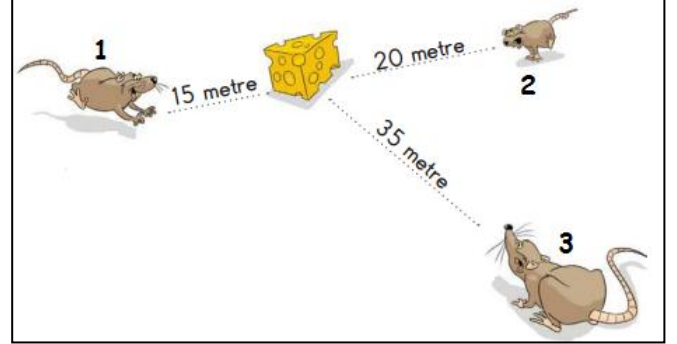
1)Yukarıdaki çocuklardan hangisi en uzun boyludur?

A)Sarp B)Erdem C)Fatih



2)Barış gülleyi kaç metre uzağa atmıştır?

A)26 B)16 C)6




3)Hangi fare peynire en yakındır?

A)1 B)2 C)3



4)Yukarıdaki saat kaçtır?


A)07:00 B)07:30 C)06:00



5)Kenan'ın boyu hangisidir?

A)..1.. metre..3..santimetre
B)..13..metre..30..santimetre
C)..1..metre..30..santimetre

6)



? yerine hangi meyve gelmelidir?



A




B



C

7)



Yukarıdaki resme göre en ağır ikinci kişi kimdir?

A)Pelin B)Ozan C)Mehmet

$$\begin{array}{r} 76 \\ + 13 \\ \hline \end{array}$$

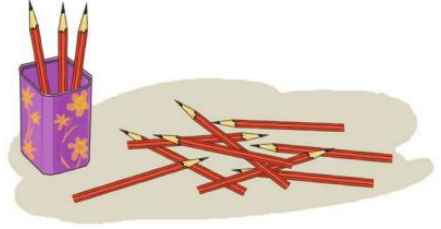
8) Yukarıdaki toplama işleminin sonucu kaçtır?

A) 63 B) 89 C) 69



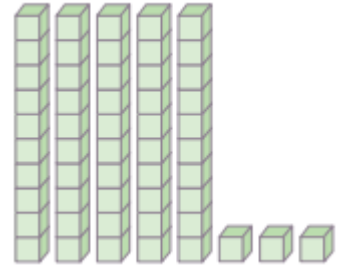
9) Yukarıdaki topların bir deste olması için kaç topa ihtiyaç vardır?

A) 2 B) 3 C) 4



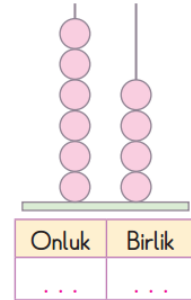
10) Ahmet'in kalemliginde bir düzine kalem vardır. Ödev yaparken bir miktarı döküldü resme göre kaç kalem dökülmüştür?

A) 3 B) 7 C) 9



11) Yukarıdaki sayı bloklarına göre kaç onluk kaç birlik vardır?

A) 5 onluk 3 birlik
B) 3 onluk 5 birlik
C) 5 onluk 5 birlik



12) Yukarıdaki abaküs kaç göstermektedir?

A) 64 B) 46 C) 65

Onlar basamağındaki rakamın basamak değeri 40'tır.

Birler basamağındaki rakamın basamak değeri 3'tür.

13)

Yukarıdaki verilen bilgilere göre belirtilen sayı hangisidir?

- A) 43 B) 34 C) 403

14) Aşağıdaki işlemlerin hangisinin sonucu yanlıştır?

A) $\begin{array}{r} 66 \\ + 23 \\ \hline 89 \end{array}$ B) $\begin{array}{r} 38 \\ + 61 \\ \hline 99 \end{array}$ C) $\begin{array}{r} 50 \\ + 34 \\ \hline 80 \end{array}$



15)

Bir çiftlikte bir düzine koyun, bir deste tavuk ve yarım düzine inek vardır. Buna göre bu çiftlikte kaç hayvan vardır?

- A) 28 B) 25 C) 32

HAYAT BİLGİSİ

1) İstiklal Marşımızın şairi hangisidir?



A



B



C

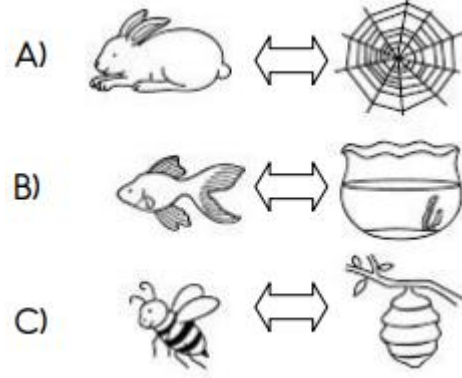


Annem mahkemede insanların haklarını savunur.
Babam hastaları muayene eder, onlara ilaç yazar.

2) Buna göre Cemre'nin anne ve babasının meslekleri nedir?

Anne	Baba
A) Hakim	Hemşire
B) Avukat	Doktor
C) Polis	Öğretmen

3) Aşağıdaki hangi canlı ve yuvası yanlış eşleşmiştir?



4) "Melis yatağında uyurken korkunç bir ses ile uyandı." Cümlesinde Melis hangi duyu organını kullanmıştır?



A



B



C

5) Aşağıdakilerden hangisi deniz taşıtıdır?



A



B



C

Pazartesi	Salı	Çarşamba	Perşembe	Cuma
Hayat Bilgisi	Hayat Bilgisi	Hayat Bilgisi	Türkçe	Hayat Bilgisi
Matematik	Matematik	Türkçe	Türkçe	Matematik
Türkçe	Türkçe	Türkçe	Matematik	Türkçe
Türkçe	Türkçe	Türkçe	Müzik	Türkçe
Müzik	S.Etkinlik	B.Eğitimi	S.Etkinlik	G.Sanat.
S.Etkinlik	S.Etkinlik	B.Eğitimi	S.Etkinlik	G.Sanat

6) Ömer ders programına göre salı günü çantasına hangisini koymamalıdır?

- A) Matematik kitabı
- B) Türkçe defteri
- C) Boya kalemleri, fırça



7) Yukarıdaki resme göre hangisi doğrudur?

- A) Maşa çok üzgündür.
- B) Maşa çok şaşkıncıdır.
- C) Maşa çok mutludur.



8) Yemek yerken hangisini yapmak doğru değildir?

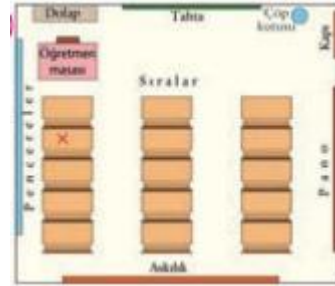
- A) Kendi tabağımızdan yemek
- B) Besinleri çiğneyerek yutmak
- C) Herkesten ayrı tek başımıza yemek



Tamer, mağazada gördüğü helikopteri almak istiyordu. Ancak babası oyuncacı alabilmek için yeterli paraları olmadığını söyledi.

9) Tamer bu durumda ne yapmalıdır?

- A) Ağlayarak oyuncacığın alınmasını istemelidir.
- B) Kimseye belli etmeden oyuncacı almalıdır.
- C) Parasını biriktirerek yeterli parası olduğunda almalıdır.



10) Burak oturduğu yeri "x" ile işaretlemiştir. Buna göre Burak'ın yerini tarif eder misiniz?

- A) Pencere tarafı ikinci sıra
- B) Orta taraf birinci sıra
- C) Kapı tarafı üçüncü sıra


İNGİLİZCE




1)Resimdeki hayvanın İngilizce karşılığı nedir?

A)Monkey B)Zebra C)Gorilla

2)Hangi resmin ismi doğru yazılmıştır?



3)Hangi resmin ismi doğru yazılmıştır?




4)Resimdeki aracın ismi nedir?

A)Ambulance
B)University
C)Internet

Train

5)Kelimeyle eşleşen görseli işaretleyiniz?



BAŞARILAR DİLERİM

Salih Özenc
Muhammet Özenc

