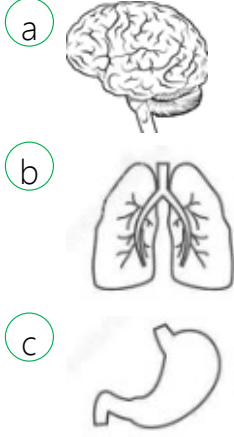


1. Nefes almamızı sağlayan, kanımıza temiz hava gönderen organımız aşağıdakilerden hangisidir?



2. Yemekleri çorba haline getirerek sindirmemizi sağlayan organ aşağıdakilerden hangisidir?




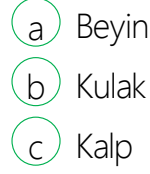
3. vücutumuza kanı pompalayan organdır. Yukarıdaki noktalı yere aşağıdakilerden hangisi gelmelidir?



4. Bir maddenin soğuk mu, sıcak mı, sert mi, yumuşak mı olduğunu hangi organımızla anlarız?

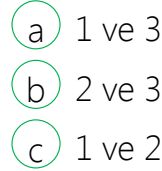


5.  Bütün vücudumuzu ve organlarımızı yöneten organımız nedir?

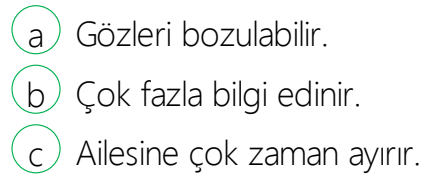


6. 1. Çok fazla kola içmek.
2. Şekerli yiyecekleri tüketmek.
3. Temiz havada koşmak.

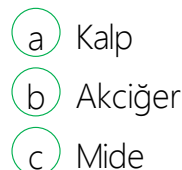
Yukarıdakilerden hangileri sağlığınıza zarar verir?



Çok yakından ve çok fazla televizyon izleyen biri için aşağıdakilerden hangisi doğrudur?



8. Ayşe o sabah çok fazla acı biber yedi ve üzerine çok soğuk su içti. Ayşe'nin hangi organı hastalanabilir?



9. Çok dumanlı ve tozlu bir yerde oyun oynarsak hangi organımıza zarar vermiş oluruz?

- ☐ a) Beyin
- ☐ b) Mide
- ☐ c) Akciğer

10. Melek eve geldiğinde annesinin pişirdiği mis gibi çorbanın kokusunu aldı. Melek annesinin çorba pişirdiğini hangi organıyla anlamıştır?

- ☐ a) Deri
- ☐ b) Dil
- ☐ c) Burun

11. Aşağıdakilerden hangisi başımızda bulunmaz?



- ☐ a) Beyin
- ☐ b) Kulak
- ☐ c) Mide

12. 1.Spor yapmak.

2.Havasız yerlerde oynamak.

3.Bol bol meyve yemek.

Yukarıdakilerden hangisi sağlığınıza zararlıdır?

- ☐ a) 1
- ☐ b) 2
- ☐ c) 3

13. Ahmet eve geldiğinde müzik sesini duydu. Kanepedeki kedisinin yumuşak tüylerini sevdi. Salonun ortasında büyük bir pasta gördü. Tadına baktığında çilekli olduğunu anladı.

Yukarıdaki metinde Ahmet hangi duyu organını kullanmamıştır?

- ☐ a) Kulak
- ☐ b) Burun
- ☐ c) Göz

14. Sigara içen insanlar hangi organlarına zarar verirler?

- ☐ a)
- ☐ b)
- ☐ c)

15. Süzgeç görevi yaparım. Kandaki zehirli maddeleri idrar yoluyla atarım, iki taneyim bilin bakalım ben neyim?

- ☐ a) Mide
- ☐ b) Böbrek
- ☐ c) Beyin