

2.SINIF DENEME SINAVI -5-

ADI :
SOYADI :
SINIFI :
NO :

1. Bu deneme sınavı Türkçe 20, Matematik 15 Hayat Bilgisi 10 ve İngilizce 5 olmak üzere toplam 50 sorudan oluşmaktadır.
2. Her sorunun bir doğru cevabı vardır.
3. Yanlış doğruyu götürmemektedir.
4. Sınav süresi en fazla iki ders saatidir.

HAZIRLAYANLAR
SALİH ÖZENÇ
MUHAMMET ÖZENÇ

2016-2017

TÜRKÇE

- 1) arkadaşıyla - sürmeyi - çok
bisiklet - severim

Yukarıdaki kelimeleri kurallı ve anlamlı bir cümle haline getirilmiş hali hangisidir?

- A) Bisiklet sürmeyi çok severim.
B) Bisiklet sürmeyi çok severim arkadaşıyla.
C) Arkadaşıyla bisiklet sürmeyi çok severim.

2) "Annem yine her zamanki gibi mutfakta harika bir yemek yapıyor, kokusundan belli."

Aşağıdaki resimlerden hangisi yukarıdaki cümleye uygundur?




A

B



C

3) Salih aşağıdaki resimlerin isimlerini altına yazacaktır. Buna göre hangi resmin altına çoğul bir isim yazmalıdır?



A

B

C



4) Burak

En sevdiğim spor
.....dur.

Burak en sevdiği sporu söylemiştir. Buna göre yukarıdaki boşluğa hangisi yazılmalıdır?

- A) tenis B) futbol C) yüzmek

Nasreddin Hoca'nın eşiği çalınınca komşular bütün suçu Hoca'ya yıkmışlar:
- Aman hocam insan hiç önlem almaz mı? Bu ne gaflet!
-Kapıyı kilitleseydin ya hocam!
Hoca sonunda dayanamamış:
-Tamam komşular, tamam. Haklısınız! İyi de hırsızın hiç mi suçu yok arkadaşlar?

5) Yukarıda okumuş olduğumuz komik kısa yazılara ne ad verilir?

- A) Masal B) Fıkra C) Hikaye

6) "Elif evlerine gelen misafirleri annesi ve babası ile kapıda karşılayıp, hoş geldiniz efendim dedi."

Elif'in göstermiş olduğu nezaketi anlatan resim aşağıdakilerden hangisidir?



A

B



C

7) " Melis, Adana'ya giderken hediye olarak dondurma aldı."

Yukarıdaki cümlede altı çizili kelimelerden hangisi özel isim değildir?

A) dondurma B) Melis C) Adana

8) "Ahmet arkadaşının doğum günü için ona güzel bir hediye düşündü."

Yukarıdaki cümlede altı çizili kelime yerine aşağıdakilerden hangisi yazılabilir?

A) armağan B) iyi C) yaren

9) "Akın mahalle maçında son dakikada harika bir gol atarak takımının maçı 1-0 kazanmasını sağladı. Bütün takım sevinçten havalara uçtu."

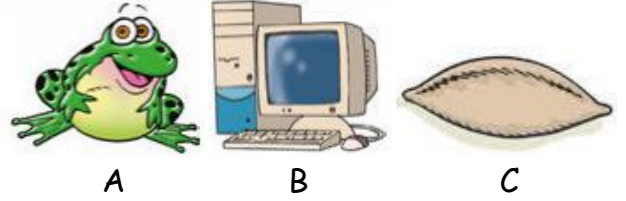
Yukarıdaki cümleye uygun olan resim hangisidir?




10) Aşağıdaki resimlerden hangisinin sesteşi yabancı anlamına gelmektedir?



11) Aşağıdaki resimlerde görülen varlıkların hangisinin adı daha çok harften oluşmaktadır?



12) Aşağıdaki resimlerdeki varlıkların hangisi sözlükte en önce gelir?



| | | | | | | |
|---|----|---|---|----|----|----|
| 4 | 12 | 4 | 6 | 14 | 15 | 12 |
| | | | | | | |

13)

Yukarıda şifreli bir kelime vardır. Her sayı alfabedeki sırasını göstermektedir.

Buna göre şifreli kelime hangisidir?

A) çiçekli B) didekli C) çilekli

14)

Eyvah yemeği ocakta unuttum

Bana çikolata aldın mı

Dün neden gelmedin

Yarın erken kalkmalıyım

1

2

3

4

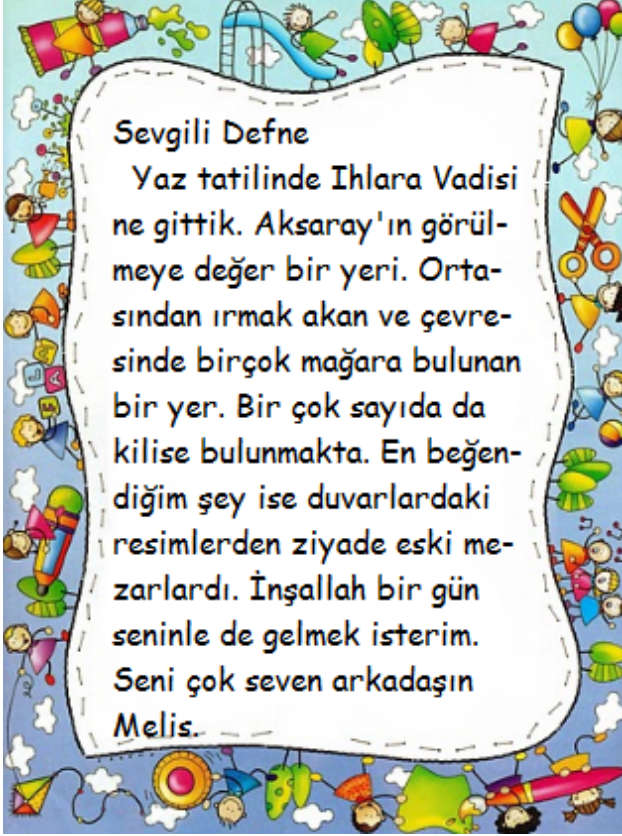
Yukarıdaki cümlelerin hangilerine soru işareti konmalıdır?

A) 1-2 B) 2-3 C) 2-4

15)

Sorusunun cevabını aşağıdaki cümlelerin hangisinde bulabiliriz?

- A) Kırmızı renk bisikletim olmalı.
B) Yarın babam ile tiyatroya gideceğiz.
C) Dün çok güzel bir uyku çektim.



(16-17-18-19-20. soruları yukarıdaki parçaya göre cevaplayınız.)

16) Yukarıdaki mektup kime yazılmıştır?

- A) Melis B) Ilgın C) Defne

17) Melis yaz tatilinde nereye gitmiştir?

- A) Ihlara Vadisi'ne B) Peri bacalarına
C) Mağaralı kiliseye

18) Ihlara Vadisi hangi şehrimizdedir?

- A) Ankara B) Adana C) Aksaray


19) Melis en çok beğendiği şey neymiş?

- A) Duvarlardaki resimler
B) Eski mezarlar
C) Ortadan akan ırmak

20) Aşağıdakilerden hangisi Ihlara Vadisi'nin bir özelliği değildir?

- A) Çevresinde pek az mağara bulunması.
B) Birçok sayıda kilise bulunması.
C) Ortasından ırmak akması.


MATEMATİK



1)

Taha bulutun içindeki çarpma işlemini kısa yoldan yapmak istiyor. Sonuç aşağıdakilerden hangisi olur?


- A) 70 B) 120 C) 34



2)

Hayvanat bahçesine 27 tane fil, 17 tane aslan, 18 tane de deve geldiğine göre toplam kaç hayvan gelmiştir?

- A) 42 B) 52 C) 62



3)

Salih'in ahırında 16 tane inek, ineklerden 12 fazla da dana vardır. Buna göre ahırda kaç hayvan vardır?

- A) 44 B) 28 C) 34



4)

Bahçemizdeki 88 ağacın 24 tanesini babam kesti, 32 tanesi de kurudu. Geriye kaç tane ağaç kaldı?

- A) 64 B) 32 C) 56

5)

| | | | |
|---|---|---|--|
| 1 | 8 | 3 | |
| | | | |
| | | | |
| | | | |

Yukarıdaki bölme işleminin sonucu kaçtır?

- A) 3 B) 6 C) 9






6)

Yiğit'in elinde tuttuğu balonda bulunan sayı Yiğit'in göğsündeki sayıya yuvarlanamıyor. Buna göre hangisi Yiğit'in elindeki balondur?



- A) B) C)



7)

Ahmet

Mert

Mahmut

90

50

60

Yukarıdaki leylekler içindeki işlemleri yapan öğrenciler sonuçları isimlerinin altına yazmıştır. Hangi öğrenci sonucu doğru bulmuştur?

- A) Ahmet - Mert
B) Ahmet - Mahmut
C) Mert - Mahmut

8)

$$\begin{array}{r} 24 \\ + 28 \\ \hline \end{array}$$



$$\begin{array}{r} 3 \\ \times 4 \\ \hline \end{array}$$

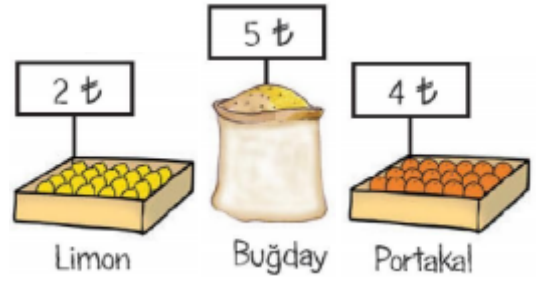


=

Yukarıdaki elma ile çileğin fark kaçtır?

- A) 40 B) 64 C) 52

9)



Alışveriş Listesi

2kg limon
3kg buğday
4kg portakal

Yandaki alışveriş listesine göre Semiha ne kadar para harcamıştır?

- A) 11 lira B) 35 lira C) 32 lira



10)

Yukarıdaki torbada yazan sayı ile ilgili verilen bilgilerden hangisi yanlıştır?


- A) En yakın onluğa yuvarladığımızda 60 olur.
B) Sayımız iki basamaklı bir sayıdır.
C) Birler basamağındaki rakam 6 dır.



11)

Yukarıdaki saat aşağıdakilerden hangisi olamaz?

- A) 19:30 B) 07:00 C) 07:30



12) Salih

Semiha

Ahmet

Yukarıda deneme sınavında en çok doğru yapan üç öğrenci ve doğru sayıları verilmiştir. Bu bilgilere göre aşağıdakilerden hangisi yanlıştır?

A) Ahmet ve Salih'in toplam doğru sayıları 41 dir.

B) Semiha sınavda ikinci olmuştur.

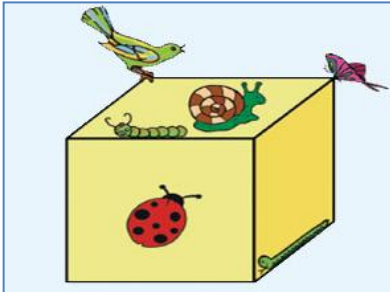
C) Semiha 6 doğru daha yapsaydı birinci olurdu.

13)

| pazartesi | salı | çarşamba | perşembe |
|-----------|------|----------|----------|
| 38 | 32 | 37 | 35 |

İrem'in dört gün boyunca okuduğu sayfalar verilmiştir. Buna göre İrem en fazla hangi gün okumuştur?

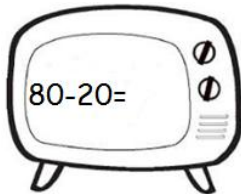
A)Pazartesi B)Salı C)Çarşamba



14)

Yukarıdaki geometrik şekilde hangi hayvanlar şeklin yüzünde bulunmaktadır?

- A) uğur böceği - tırtıl
B) kuş - salyangoz
C) uğur böceği - salyangoz



15)

Televizyondaki işlemin sonucu kaçtır?

- A) 60 B) 100 C) 50

HAYAT BİLGİSİ

1) Yusuf aşağıdaki kişisel bakımlarından hangisini her gün yapmasına gerek yoktur?

Diş fırçalamak

Yüz yıkama

Tırnak kesme



A



B



C

2) Nefes alıp vermemizi ve kanımızı temizlemeye yarayan organımız hangisidir?



Akciğerler

A



Mide

B



Kalp

C

Mehmet



Babam yangınları söndürür. Ayrıca zor durumdaki hayvanlara da yardım eder.

3)

Yukarıdaki bilgiye göre Mehmet'in babası ne iş yapmaktadır?



A




B



C

4) Aşağıdaki kişilerden hangisi dikkatli olmazsa elektriğe çarpılabilir?










A

B

C

5) Aslı ve ailesi aşağıdaki hava durumuna göre piknik planlamak istiyorlar.

| | | | | | | |
|---|---|---|---|---|---|---|
| Bulutlu | Yağmurlu | | Güneşli | | | |
| Pazartesi | Salı | Çarşamba | Perşembe | Cuma | Cumartesi | Pazar |
|  |  |  |  |  |  |  |

Buna göre aşağıdaki hangi gün pikniğe gitmeleri daha uygun olur?

A) Çarşamba B) Perşembe C) Pazar

6) "Mehtap dışarıdan gelen sesle birlikte pencereye koştu, kazayı görünce gözlerine inanamadı."

Cümlesinde Mehtap hangi duyu organını kullanmamıştır?



A



B



C



7)

Muhammet bir gününü yukarıdaki gibi planlamıştır. Buna göre en fazla ne yapmaktadır?

A) uyumakta
B) ders çalışmakta
C) okulda geçirmektedir



8)

Gülhan akşam yemeğinde aşağıdakilerden hangisini söylerse nezaket kurallarına uymamış olur?

A) Eline sağlık anne çok güzel olmuş.
B) Çok kötü bir yemek yapmışsın hiç beğenmedim.
C) Bir tabak yemek daha alabilir miyim?

9) Aşağıdakilerden hangisi hem görsel hem de işitsel bir iletişim aracı değildir?



A



B



C



10)

Yukarıda verilen hayvan aşağıdaki yuvalardan hangisinde yaşamaktadır?



A




B



C

İNGİLİZCE



1)

The fish is the aquarium.

Boşluğa aşağıdaki kelimelerden hangisi gelmelidir?

A) at B) on C) in

2)

Let's dance!

Yukarıdaki cümleyi anlatan resim aşağıdakilerden hangisidir?



A



B



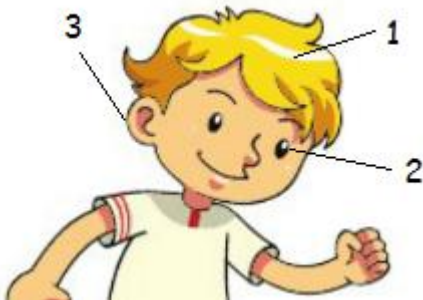
C



3)

Yukarıda kaç tane kalem vardır?

A) eight B) seven C) nine



4)

Yukarıdaki resimde numaralı organlar hangi seçenekte doğru sıralanmıştır?

A

1- hair
2- ear
3- eye

B

1- hair
2- eye
3- ear

C

1- head
2- eye
3- ear

5)



motorcycle



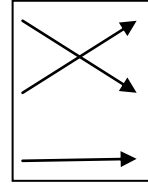
train



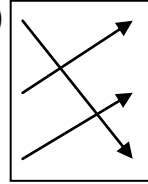
car

Yukarıdaki araçlar ve isimleri doğru olarak nasıl eşleşmelidir?

A)



B)



C)

