



ALİ NERKİZ DENEME SINAVLARI (KAZANIM DEĞERLENDİRME SINAVLARI)

2. Sınıf

Deneme Sınavı – 6

ADI :

SOYADI :

OKULU :

SINIFI :

Ali Nerkiiz



AN

TÜRKÇE TESTİ

BU BÖLÜMDE CEVAPLAYACAĞINIZ SORU SAYISI **15**'TİR. CEVAPLAMAYA İSTEDİĞİNİZ SORUDAN BAŞLAYABİLİRSİNİZ. CEVAPLARINIZI CEVAP KAĞIDININ **TÜRKÇE** BÖLÜMÜNE İŞARETLEYİNİZ. **BAŞARILAR.**

GÜVERCİN İLE KARINCA

Bir karınca dereye düşmüştü. Su içen güvercin onu gördü. Hemen gagasıyla bir çöp uzattı, Karınca çöpe tutunup kıyıya çıktı. Tam o sırada oradan geçen bir avcı güvercini görüp nişan aldı, Karınca da avcının ayağını ısırıldı. Adamın atışı boşa gitti. Böylece güvercin kurtuldu.

Not: 1. 2. ve 3. soruları metne göre cevaplayınız.

1. Güvercin karıncayı nasıl kurtarmıştır?

- a. Kanadıyla
- b. Gagasıyla
- c. Ayağıyla

2. Karınca güvercini nasıl kurtarmıştır?

- a. Avcının ayağını ısırarak
- b. Avcının parmağını ısırarak
- c. Güvercine çöp uzatarak

3. Bu metnin konusu nedir?

- a. Hayvan sevgisi
- b. Orman sevgisi
- c. Yardımlaşma



“Kırtasiyeden iki silgi, kırmızı kalem ve üçgen boya aldım.”

4. Yukarıdaki cümlede varlıkların özelliğini belirten kelimeler aşağıdakilerden hangisinde doğru olarak verilmiştir?

- a. Silgi – kalem – boya
- b. İki – kalem – boya
- c. İki – kırmızı – üçgen

5. Kederde, sevinçte bir
Vatan için can verir
ATA’nın izindedir
Benim yüce milletim...

Yukarıdaki şiirde zıt anlamlı kelimeler aşağıdakilerden hangisidir?

- a. Vatan – Millet
- b. Keder – sevinç
- c. Vatan – can

6. “Mehmet dün ödevini”

Yukarıdaki cümle aşağıdakilerden hangisiyle tamamlanamaz?

- a. yapıyor.
- b. yaptı.
- c. yapmış.

7. Aşağıdaki çocuklardan hangisi yandaki varlıkla ilgili bir karşılaştırma yapmıştır?



Çilek, limondan daha tatlıdır.



Babam karne hediyesi olarak bisiklet aldı.



Yeni bisikletim eskisinden daha güzel.



8. Aşağıdakilerden hangisi olumsuz cümledir?

- a. Mehmet şişman, Osman ise zayıftır.
- b. Ekrem bisiklete binmeyecek.
- c. Ayşe'nin kedisi çok acıkmış.

“Güneşte çok kaldığı için yüzü kıpkırmızı olmuştu.”

9. Yukarıdaki cümlede altı çizili kelime aşağıdakilerden hangisinde aynı anlamda kullanılmıştır?

- a. Aslı havuzda yüzmeyi çok seviyor.
- b. Güneş gözlüğünü yüz liraya almış.
- c. Sabah kalkar kalkmaz elimi yüzümü yıkadım.

10. Aşağıdaki cümlelerin hangisinde yazım yanlışı yoktur?

- a. Aziz SANCAR Mardin’de doğmuştur.
- b. Ramazan AKMAN öğrenciler’e Kitap dağıtıyor.
- c. Türk’ler Çanakkalede düşmanları yenmiştir.

11. AKÇE GÜN AK KARA İÇİNDİR
Yukarıdaki kelimelerle kurallı ve anlamlı bir cümle oluşturulduğunda baştan üçüncü kelime hangisi olur?

- a. KARA
- b. İÇİNDİR
- c. AKÇE

12. Aşağıdaki cümlelerin hangisinde sebep-sonuç ilişkisi yoktur?

- a. Kardan adam yapmak için bahçeye çıktık.
- b. Ayşeler dün bize gelmedi.
- c. Saha çamur olduğundan maç yapamadık.

Mevsime göre giyin,
Hiç üşütme kendini.
Zamanında aşı ol,
Sık sık yıka elini.

Kızartma, yağlı, acı,
Sağlığı bozmaktadır.
Sebze, meyve baş tacı,
Süt en doğal gıdadır...


Beytullah HATOĞLU

13. Şiirin başlığı aşağıdakilerden hangisi olabilir?

- a. Meyve sevgisi
- b. Aşı
- c. Sağlık

“Şadiye() kahverengi saçlı() ela gözlü() beyaz tenli bir
çocukt() Şadiye()nin en büyük hayali öğretmen olma()”

**14. Yukarıdaki cümlede parantez işaretli () yerlere
sırasıyla hangi noktalama işaretleri gelmelidir?**



“Ahmet, pikniğe gitmek için tüm hazırlıklarını yapmıştı.
Arkadaşlarıyla konuşmuş ve Kozan’a gitmeye karar vermişti.
Fakat yağmur yağınca planları alt üst oldu.”

15. Bu paragrafta hikâye unsurlarından hangisi yoktur?


- a. Kahraman
- b. Zaman
- c. Yer

TÜRKÇE TESTİ BİTMİŞTİR.



MATEMATİK TESTİ

BU BÖLÜMDE CEVAPLAYACAĞINIZ SORU SAYISI **15**'TİR. CEVAPLAMAYA İSTEDİĞİNİZ SORUDAN BAŞLAYABİLİRSİNİZ. CEVAPLARINIZI CEVAP KÂĞIDININ **MATEMATİK** BÖLÜMÜNE İŞARETLEYİNİZ. **BAŞARILAR.**



1. Yukarıdaki elmaları üçerli gruplarsak kaç grup oluşur?

a. 6

b. 7

c. 8



2. Yukarıdaki cisimlerden kaç tanesinin ayırıt ve köşesi yoktur?

a. 2

b. 4

c. 6

19	75	8	43	66	34
----	----	---	----	----	----

3. Yukarıdaki sayılar hangi seçenekte küçükten büyüğe doğru sıralanmıştır?

a. $75 - 66 - 43 - 34 - 19 - 8$

b. $8 - 19 - 34 - 43 - 75 - 66$

c. $8 - 19 - 34 - 43 - 66 - 75$



- 1 yıl 12 mevsimdir.
- 2 hafta 14 gündür.
- 1 gün 12 saattir.
- Haftanın üçüncü günü çarşambadır.
- 1 yılda 52 hafta vardır.

4. Yukarıdaki bilgilerden kaç tanesi doğrudur?

- a. 3 b. 4 c. 5

5. Manav Salih 94 kilo portakalın bir kısmını sattı. Geriye 48 kilo portakal kaldı. Buna göre Manav Salih kaç kilo portakal satmıştır?

- a. 46 b. 54 c. 56



6. 3 onluk 9 birlikten oluşan sayı ile aşağıdakilerden hangisini toplarsak toplam 9 onluk 8 birlik olur?

- a. 5 onluk 9 birlik
b. 6 onluk 1 birlik
c. 6 onluk 9 birlik

7. Efe bakkaldan her gün 1 koli yumurta alıyor. Her kolide 6 yumurta olduğuna göre Efe 4 günde kaç tane yumurta alıyor?

- a. 10 b. 24 c. 25





8. Yukarıdaki ürünleri satın alan Ali'nin satıcıya toplam kaç lira ödemesi gerekir?

- a. 56 TL b. 73 TL c. 91 TL



9. Yukarıdaki elmalardan kaç çeyrek elma oluşur?

- a. 28 b. 14 c. 7

10. Aşağıdakilerden hangisi kilogram (kg) ile satılır?

a. Ekmek

b. Patates

c. Bilgisayar



11. Durdu, yandaki tencereye süt dolduracaktır. Aşağıdakilerden hangisini kullanırsa daha çabuk doldurur?



a. Kupa bardak

b. Çay bardağı

c. Kaşık



12. Aşağıdakilerden hangisinin sonucu en küçüktür?

a. $38+27$

b. $86-17$

c. 9×5

<div style="border: 1px solid blue; padding: 5px; width: fit-content;">Küpün 6 yüzü, 8 köşesi, 12 ayrıtı vardır.</div>	DOĞRU →	Üçgen prizmanın 3 yüzü, 6 köşesi 9 ayrıtı vardır.	DOĞRU →	1
	YANLIŞ →		YANLIŞ →	2
	DOĞRU →	Kürenin 1 yüzü vardır. Köşesi ve ayrıtı yoktur.	DOĞRU →	3
	YANLIŞ →		YANLIŞ →	4

13. Yukarıdaki “Doğru – Yanlış” sorularını cevaplayan öğrenci kaç numaralı kutuya ulaşır?

a. 1

b. 2

c. 3



Not: Soruyu kulübeye yakın olma durumuna göre cevaplayınız.

14. Yukarıdaki resme göre 3. sırada olan hayvan hangisidir?

a. Kuzu

b. İnek

c. Köpek

15. Oktay’ın 30 TL parası vardı. Tanesi 2 TL olan kalemlerden 4 tane ve tanesi 5 TL olan defterlerden 3 tane aldı. Oktay’ın geriye kaç TL parası kaldı?

a. 7

b. 15

c. 22

MATEMATİK TESTİ BİTMİŞTİR.



HAYAT BİLGİSİ TESTİ

BU BÖLÜMDE CEVAPLAYACAĞINIZ SORU SAYISI **15**'TİR. CEVAPLAMAYA İSTEDİĞİNİZ SORUDAN BAŞLAYABİLİRSİNİZ. CEVAPLARINIZI CEVAP KAĞIDININ **HAYAT BİLGİSİ** BÖLÜMÜNE İŞARETLEYİNİZ. **BAŞARILAR.**

1. Aşağıdaki mesleklerden hangisinin alanı **güvenlik**?



a. Hemşire

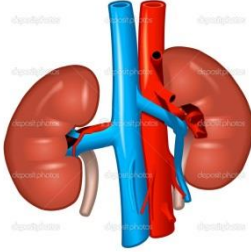


b. İtfaiyeci



c. Polis

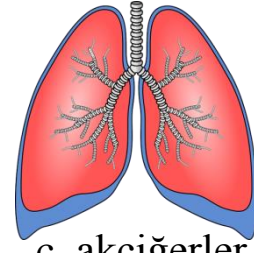
2. Aşağıdaki organlardan hangisi vücuttaki zararlı maddeleri süzer?



a. böbrekler




b. Kalp



c. akciğerler


3. Aşağıdaki hayvanlardan hangisinin yuvasının adı "**ahır**" **değildir**?



a.



b.



c.

4. Yönümüzü güneşin doğduğu yöne çevirdiğimizde ***sağ elimiz*** hangi yönü gösterir?

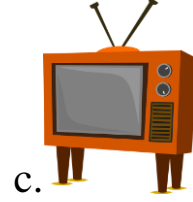
a. Batı

b. Kuzey

c. Güney



5. Aşağıdakilerden hangisi *karşılıklı (iki yönlü)* iletişim aracıdır?



6. Aşağıdakilerden hangisi *tasarruf* ile ilgili değildir?

- a. Sessiz ol.
- b. Suyu boşa akıtma.
- c. Zamanı verimli kullan

7. Aşağıdakilerden hangisi *doğal afettir*?

- a. Trafik kazası
- b. Elektrik çarpması
- c. Sel

8. Aşağıdaki çocuklardan hangisine güvenirsiniz?



“İnsanlar kendilerini evlerinde ve hisseder.”

9. Yukarıdaki cümlede noktalı yerlere hangileri gelmelidir?

- a. huzurlu – güvende
- b. rahatsız – tutumlu
- c. tasarruflu – korkak

10. Alışveriş yaparken ihtiyaçlarını alan, gereksiz yere para harcamayan kişilere ne denir?

- a. Cimri
- b. Tutumlu
- c. Vatansever



“Çok sevdiğim arkadaşım Umut’a babası güzel bir oyuncak almış.”

11. Bu sözleri söyleyen çocuğun duygusu aşağıdakilerden hangisidir?

a. Mutluluk

b. Kıskançlık

c. Üzüntü

12. Nilgün, Ahsen’in bu teklifi karşısında Ahsen’e hangi cevabı vermelidir?

a. Tamam. Haydi gidelim.

b. Hayır, olmaz. Önce ödevlerimi yapmalıyım.

c. Tamam ama benim istediğim oyunu oynatırız.



13. Aşağıdakilerden hangisi iyi bir lidere ait özelliktir?

a. Paylaşım yaparken sevdiği arkadaşlarına daha çok şey verir.

b. Sorumluluk sahibidir.

c. Başkalarının fikrini dinlemez.

14. Aşağıdaki hak ve hürriyetlerden hangisi Atatürk önderliğinde kazanılmıştır?

a. Seçme ve seçilme hakkı.

b. Barınma hakkı.

c. Yemek hakkı.



15. Aşağıdakilerden hangisi aile içinde yapılan iş bölümüne uygundur?

a. Evin tüm temizliğini anne yapmalıdır.

b. Çocukların görevi sadece ödevleri yapmaktır.

c. Yapılacak işler aile bireylerinin yaşına uygun olmalıdır.

HAYAT BİLGİSİ TESTİ BİTMİŞTİR.



İNGİLİZCE TESTİ

BU BÖLÜMDE CEVAPLAYACAĞINIZ SORU SAYISI **10**'DUR. CEVAPLAMAYA İSTEDİĞİNİZ SORUDAN BAŞLAYABİLİRSİNİZ. CEVAPLARINIZI CEVAP KAĞIDININ **İNGİLİZCE** BÖLÜMÜNE İŞARETLEYİNİZ. **BAŞARILAR.**



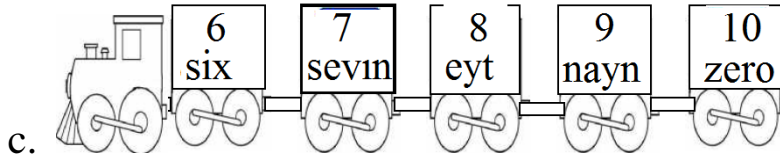
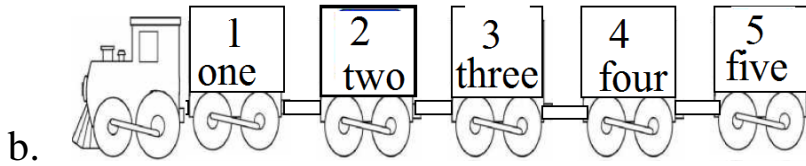
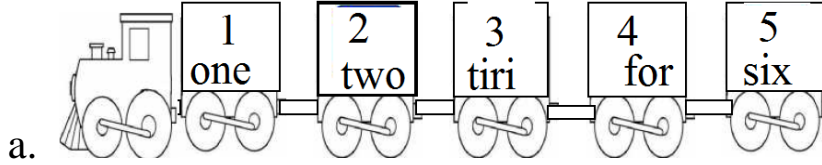
1. Yukarıdaki görsellerin adları hangi seçenekte doğru verilmiştir?

- a. Stadium – Cake – Lemon – Doctor – Motorcycle
- b. Stadium – Cake – Gorilla – Doctor – Motorcycle
- c. Hotel – Cake – Gorilla – Doctor – Motorcycle

2. Hangi renk eşleştirmesi yanlıştır?

- a. yellow: sarı
- b. red: kırmızı
- c. blue: yeşil

3. Hangi trenin vagonlarındaki sayı doğru yazılmıştır?



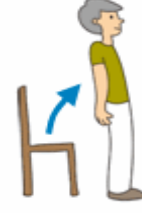
4. Aşağıdakilerden hangisi yandaki görsele aittir?

- a. Good night.
- b. Good afternoon.
- c. Good morning.



5. Öğretmen yandaki öğrenciye hangisini söylemiş olabilir?

- a. Show me b. Sit down
c. Stand up



6. Çocuğun yaptığı etkinlik hangisi olabilir?

- a. Slide b. Sing c. Dance



He??o

?emon

Me?on

?ilk

Te?evision

7. Boş bırakılan yerlere hangi harf gelmelidir?

- a. M b. L c. T

8. Yandaki konuşmada şekillerin yerine gelmesi gereken kelimeler hangisinde doğru olarak verilmiştir?



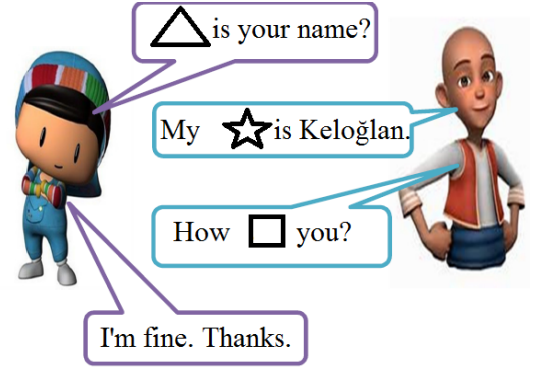
- a. What
b. What
c. What



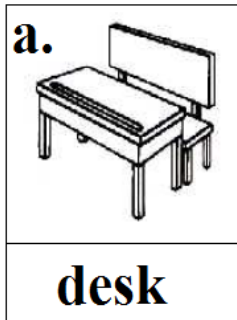
- are
name
name



- is
is
are




9. Aşağıdaki görsellerden hangisinin adı yanlış yazılmıştır?



10. “Bye bye” diyen kıza annesi ne demiştir?

- a. Good bye b. Hello c. Hi



İNGİLİZCE TESTİ BİTMİŞTİR.

K. Atatürk

GOMETRİ

