

Adı:.....
Soyadı:.....

2. SINIF
"23. Hafta ev ödevi"

ETKİNLİK
-2-

Yazın sıcak günlerinden biriymiş. Nasreddin Hoca'yı bir ziyafete davet etmişler. Sofraya gelen lezzetli yemekler yenilmiş. Sıra buzlu hoşafa gelmiş. Ev sahibi, önüne konan kepçe gibi büyük bir kaşıkla hoşafı içmeye başlamış. Hoşaftan her alışta:

- Oh! Aman, yandım, öldüm, diyormuş. Hoca ise elindeki küçük kaşıkla hoşaftan bir tad alamıyormuş. Sağa bakmış; sola bakmış; olmamış. Nihayet dayanamayarak ev sahibine:
- Aman efendi, demiş. Elinizdeki kepçeyi bana lütfediniz de bir kere de ben yanıp öleyim!

SORULAR

- 1) Hoca'yı nereye davet etmişler?
.....
- 2) Fıkra ne zaman yaşanmaktadır?
.....
- 3) Hoca neden hoşaftan tad alamamış?
.....
- 4) Hoca dayanamayıp ev sahibinden ne istemiş?
.....

Bu akşam bize misafir geldi. Bize getirdiği hediye çok güzeldi. Bu bir hikâye kitabıydı. Kitaplar çok faydalıdır. Her bir cümlesi ile bize yeni bir dünya sunar.

Yukarıdaki altı çizili kelimelerin eş anlamlarını yazınız.

- 1)..... 2).....
- 3)..... 4).....
- 5).....

AŞAĞIDAKİ TABLOYA ÖZEL AD VE TÜR ADLARINI İŞARETLEYİNİZ.

AD	ÖZEL AD	TÜR ADI
Otobüs		
Minnoş		
Ayşe		
Babaaanne		
Akdeniz		
Mehmet		
Mide		
Ağaç		
Ankara		
Arkadaş		
Almanya		

ZİT ANLAMLI SÖZCÜKLERİ EŞLEŞTİRİN
AYNI RENGE BOYAYINIZ.

ileri	arkaya
aşağı	geri
dışarı	sola
öne	yukarı
sağa	içeri

Soyadı:.....

2. SINIF

"23. Hafta ev ödevi"

ETKİNLİK


-2-




Aşağıdaki problemleri çözünüz.

Burak iki sayıyı toplamak istiyor. Bu sayılardan küçük olan 26 dır. Büyük olan ise küçük olandan 7 fazladır. Bu iki sayının toplamı kaç eder?

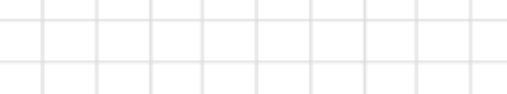
Samet'in attığı taş 37m uzağa gitmiştir. Ozan ise Samet'ten 24 m daha uzağa atmıştır. Ozan'ın attığı taş kaç m uzağa gitmiştir?



Betül bayramda babasından 25tl, amcasından 15tl, dedesinden de 10tl harçlık almıştır. Betül toplam kaç tl toplamıştır?

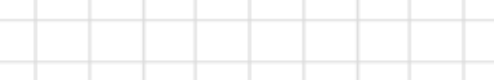


Ali birler basamağı 6, onlar basamağı 3 olan sayıya 29 eklemek istiyor sonuç kaç olur?



Ahmet tartıda 23 kg geldi. Mert ise Ahmet'ten 8kg fazla çıktı. Mert kaç kg dır?

Yağmur ilk gün 34 sayfa ikinci gün 24, üçüncü gün ise 17 sayfa kitap okumuştur. Yağmur toplam kaç sayfa okumuştur?



Akif 9 yaşındadır. Ablası Akif'ten 7 yaş büyük, annesi de ablasından 24 yaş büyüktür. Buna göre anne kaç yaşındadır?

Salih 16 yaşındadır, abisi salih'ten 15 yaş büyüktür. İki kardeşin yaşları toplamı kaç eder?

