

  
**isabet okulları**  
SAMSUN ILKOKULU

# 2. SINIF KAZANIM DEĞERLENDİRME SINAVI

AD : .....

SOYAD: .....

SINIF : ..... NO: .....

# TÜRKÇE TESTİ

Ahmet'in hastalandığını duyduğumda çok üzuldüm. Dün gece hastaneye yatırmışlar. Anneme söyledim.

Annem, "Aman Sena'cığım sağlığına dikkat etmelisin. Temiz olmalı ve dişlerini düzenli fırçalamalısın. Üşümek için kıyafetlerini mevsime uygun giymelisin. Bir de beslenmene özen göstermen gerekir. Yoksa sen de hasta olursun." dedi.

Aygün ASLAN

**İlk 3 soruyu yukarıdaki şiire göre yanıtlayalım.**

**1. Ahmet niçin hastaneye yatırılmış?**

- A. Ameliyat olmak için
- B. Hastalandığı için
- C. Annesi hastanede yattığı için

**2. Aşağıdakilerden hangisi Sena'nın hasta olmamak için dikkat etmesi gerekenlerden değildir?**

- A. Temizlik
- B. Giyim
- C. Arkadaş

**3. Sena niçin üzülmüş?**

- A. Annesi ona kızdığı için
- B. Ahmet hasta olduğu için
- C. Dişlerini fırçalamadığı için

**4. Aşağıdaki cümlelerden hangisi duygu bildirmektedir?**

- A. Onu görünce çok sevindim.
- B. Akşam erken yatmalısın.
- C. Bayram hazırlıkları devam ediyor.

**5. Aşağıdakilerin hangisinde **yanlış** yazılmış bir sözcük vardır?**

- A. Annem bana eşofman takımı almış.
- B. İtfaiye ekibi olay yerine geldi.
- C. Arkadaşım bana süpriz yaptı.

6. Aşağıdaki cümlelerin hangisinde özel adın yazımından kaynaklanan bir **hata** yapılmıştır?

- A. İkizlerden birinin adı Hakan, diğeri-ninki Kaan'dır.
- B. Öğretmen Suat'ı çağırdı.
- C. Oyunda Emrenin kolu kırıldı.

7. Aşağıdaki kelimelerden eş sesli (sesteş) olanları kurşun kaleminizle boyayınız.

at

altı

sıcak

acı

al

deri

eşek

et

dik

yüz

8.

a. Aşağıdaki sözcüklerin eş anlamlılarını ( anlamdaşlarını) bulup, işaretleyiniz.

1. Öykü

- A. Masal      B. Hikaye      C. Fıkra

2. Ev

- A. Konut      B. Apartman      C. Villa

3. Yoksul

- A. Zengin      B. Bonkör      C. Fakir

4. Deprem

- A. Fay      B. Zelzele      C. Felaket

5. Öğüt

- A. Nasihat      B. Uyarı      C. İkaz

**b. Aşağıdaki cümlelerde altı çizili kelimelerin eş anlamlılarını noktalı yerlere yazınız.**

Burada hasret dolu günler yaşadık.  
(.....)

Bizim kara koyun kuzulamış.  
(.....)

Dedem savaşta tutsak düşmüş.  
(.....)

Emniyet güçleri olaya müdahale etti.  
(.....)

Babamı düşümde gördüm.  
(.....)

**9. Aşağıdaki cümlelerde, altı çizili sözcüğün karşıt (zıt) anlamlısını başka bir cümlede kullanınız. (Yazım kurallarına dikkat etmeniz gerekmektedir.)**

- Şişman bir adam gördüm.  
.....
- Annem eve geç geldi.  
.....
- Öğretmenimiz çok ödev verdi.  
.....
- Pantolonum çok eskidi.  
.....
- Yaşlı bir amca geldi.  
.....

10.

**a. Yanlış yazılan cümleleri yazım kurallarına uyarak düzeltelim ve yazalım.**

mehmetin kitaplarını okuması çok güzel.  
.....

Bugün herkes kitaplarını okuyacakmı?  
.....

Benim kedimin adı minnoş.  
.....

Bugün tarih 19 kasım 2013.  
.....

celal'in kalemi mavi renkli.  
.....

Manisanın üzümleri ünlüdür.  
.....

**b. Boş bırakılan yerlere doğru noktalama işaretlerini koyalım.**

✓ Ben bugün pazardan elma ( ) armut ( ) muz aldım ( )

✓ Yaşasın bugün okul var ( )

✓ Sen de bizimle gelecek misin ( )

✓ Hepimiz Atatürk ( ) ün çocuklarıyız ( )

✓ Sınıf içinde koşmamalı ( ) oynamamalı ( ) kavga etmemeliyiz ( )

✓ Of canım çok yandı ( )

✓ Mustafa ( ) nın ailesi bize geliyormuş ( )

✓ Bugün güzel mi güzel bir gün ( )

✓ Çizgi filmleri çok seviyorum ( )

# MATEMATİK TESTİ

1. Aşağıdaki cümleleri uygun sözcüklerle tamamlayınız.

*Büyükten küçüğe-büyüktür-küçüktür-eşittir- küçükten büyüğe*

K = 3 onluk + 7 birlik

R = 4 onluk + 5 birlik

Y = 3 onluk + 3 birlik

L = 5 onluk + 3 birlik

B = 4 onluk + 5 birlik

K sayısı, R sayısından .....

L sayısı, Y sayısından .....

R sayısı, B sayısına .....

R, K, Y sayıları ..... sıralanmıştır.

K, R, L sayıları ..... sıralanmıştır.

2. Aşağıdaki ritmik sayılarda noktalı yerleri tamamlayınız.

38 - 36 - 34 - ..... - ..... - ..... - ..... - 24

..... - ..... - 21 - 18 - 15 - ..... - ..... - 6

..... - ..... - ..... - 28 - 24 - 20 - ..... - 12

85 - ..... - 75 - 70 - 65 - ..... - ..... - ..... - .....

3. Ali'nin uçurtması 80 metre, Cem'in uçurtması 50 metre, Efe'nin uçurtması ise 90 metre yüksekliktedir. Buna göre doğru olanların başına **D**, yanlış olanların başına ise **Y** yazınız.

☐

Uçurtması en yüksekte olan Ali'dir.

☐

Efe'nin uçurtması, Cem'in uçurtmasından 40 metre yüksektedir.

☐

Cem'in uçurtması, Ali'nin uçurtmasından 30 metre alçaktadır.

☐

Efe'nin uçurtması, Ali'nin uçurtmasından daha yüksektedir.



**4. Aşağıdaki problemleri çözelim.**

**a. Tabakların her birine 5 erik konularak 5 kişiye servis edildi. Eriklerden 14 tanesi yendiğine göre geriye kaç erik kalmıştır?**

A full-page view of a blank sheet of graph paper. The grid consists of small squares formed by thin, light blue horizontal and vertical lines. There are approximately 20 columns and 20 rows of squares across the page.

**b. Bir satıcı önce 18, sonra 27 çorap sattı. Satılan çorapların sayısı 2 düzineden kaç tane fazladır?**

A full-page sheet of graph paper featuring a uniform grid of small squares. The grid consists of 20 columns and 15 rows, creating a total of 300 square units. The lines are thin and light blue, set against a white background. There are no margins, text, or other markings on the page.

**c. Turhan dörder ritmik sayma yaparken söylediği 16 ile 36 arasındaki en büyük ve en küçük sayıyı topladı. Turhan'ın bulduğu sonuç kaçtır?**

[illegible]

**5. A. Saatlerin öğleden önce hangi saatleri gösterdiğini altlarına yazınız.**



.....



.....



.....



.....

**B. Saatlerin öğleden sonra hangi saatleri gösterdiğini altlarına yazınız.**



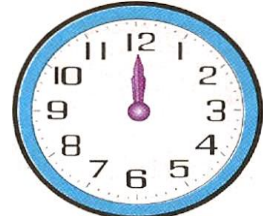
.....



.....



.....



.....

6.

a.

Aşağıdaki uzunlukları örneğe uygun olarak doldurunuz.

720 cm = 7 m 20 cm

150 cm = .....

346 cm = .....

470 cm = .....

163 cm = .....

221 cm = .....

682 cm = .....

b.

Aşağıdaki uzunlukları örneğe uygun olarak doldurunuz.

5 m 26 cm = 526 cm

3 m 19 cm = .....

4 m 75 cm = .....

2 m 12 cm = .....

1 m 54 cm = .....

9 m 50 cm = .....

7. Aşağıdaki kelebek resmi ile ilgili hangi seçenekteki ifade yanlıştır?



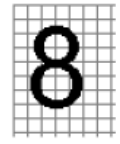
- A. İki eş parçaya ayrılabilir.
- B. İki eş parçaya ayrılamaz.
- C. Simetrik bir resimdir.

8. Aşağıdaki rakamlardan hangisi iki eş parçaya ayrılmaz?


A.



B.



C.





**9.** “Her birinde 5 yumurta olan 3 kutuda toplam kaç yumurta vardır?”

**Yukarıdaki problemin çözümü hangi seçenekte verilmiştir?**

**A.**  $5 \times 3 = 15$

**B.**  $5 \times 2 = 10$

**C.**  $5 \times 5 = 25$

**10.**  $4 + 4 + 4 + 4 + 4$  işleminin çarpma işlemi olarak gösterilişi aşağıdakilerden hangisidir?

**A.**  $4 \times 2$

**B.**  $5 \times 4$

**C.**  $4 \times 6$

# HAYAT BİLGİSİ TESTİ

- 1. Doğru bilgi veren cümlelerin başına “D”, yanlış bilgi veren cümlelerin başına “Y” harfi yazınız.**

.....Planlı ve disiplinli çalışmayla yapılan işler başarıyla sonuçlanır.

.....Okulla ilgili işlerimizi öncelik sırasına koyup belirlenen zamanda yapmalıyız.

.....Sağlıklı olmak için planlı ve programlı ders çalışmalıyız.

.....Okul kurallarına uymazsak okulun düzeni bozulur.

.....Okulda seçimlere katılmak hem hak hem de sorumluluğumuzdur.

..... Mustafa Kemal, kurmay yüz-başı olarak orduya katıldı.

..... İmla Kılavuzu’nda kelimelerin doğru yazılışları vardır.

..... Dinî bayramlarda büyüklerimizi ziyaret ederiz.

..... Yemek yerken mutlaka eldiven kullanmalıyız.

..... Zamanımızı verimli olarak kullanırsak daha çok bilgi ediniriz.

- 2. Mustafa Kemal, Kurtuluş Savaşı’nda her şeyi sıra ile yaptı. Türk milletine önder olup savaşa hazırladı, sonra savaştan zafer ile çıkmasını ve köklü değişiklikler yapmasını bildi.**

**Yukarıdaki anlatım Atatürk’ün hangi özelliği ile ilgilidir?**

- A. Sabırlı olması
- B. Planlı olması
- C. Disiplinli olması

- 3. Aşağıdaki okul kurallarından hangisi sağlığı koruma ile ilgili değil-dir?**

- A. Bayrak törenlerine katılmalıyız.
- B. Çöpleri çöp kutusuna atmalıyız.
- C. Teneffüslerde sınıfı havalandırmalıyız.

- 4. Didem, grup çalışmaları sırasında başka gruplarla dayanışma içindedir.**

**Didem’in bu davranışının sebebi nedir?**

- A. Diğer grupların çalışmasını engellemek
- B. Diğer grupların daha başarılı olmasını istemek
- C. Kendi grubuna destek sağlamak

5. Aşağıdakilerden hangisi Mustafa Kemal'in okul hayatı ile ilgili değil-dir?

- A. Babasının isteği ile Şemsi Efendi Okuluna gitti.
- B. Çok zeki ve başarılı bir öğrenciydi.
- C. En çok doktor olmak istiyordu

6. Sınıfımızı renkli kâğıtlarla yaptığımız süsler, fenerler, bayraklar ile süsleriz. Yukarıdaki anlatım hangi bayramla ilgilidir?

- A. Kurban Bayramı
- B. Cumhuriyet Bayramı
- C. Ramazan Bayramı

7. Öğretmeni, Aslı'ya yer altında yaşayan canlılara bir örnek vermesini istemiştir. Aslı hangi canlıyı söylemelidir?

- A. Solucan
- B. Kurbağa
- C. Balık

8. Mustafa Kemal'in çocukluğu ile ilgili bilgilerden hangisi yanlıştır?

- A. İlkokula İstanbul'da gitti.
- B. Kemal adını öğretmeni verdi.
- C. Asker olmayı düşünüyordu.

9. Aşağıdaki cümleleri uygun kelimelerle tamamlayınız.

Ahır – in – ağıl – kümes - kovan – yeraltı – ev

İneğin yuvasına ..... denir.

Keçinin ve koyunun yuvasına ..... denir.

Tavuk ve ördeğin yuvasına ..... denir.

Ayı ve tilkinin yuvasına ..... ..denir.

Arıların yuvasına ..... denir.

10. Aşağıdaki verilen ifadeleri ilgili oldukları meslek resimleriyle eşleştiriniz.



Yangın söndürme ve kurtarma çalışmaları yaparım.



Hayvan sevgisine ve sağlığına önem veririm.



Uçuş eğitimi aldım.



İnsan sağlığına önem veririm.