

Ebubekir okula geç kalmıştı. Zil çoktan çalmıştı. Hızlıca koşarak okula girdi. Musa ve Tuna ondan önce gelmişlerdi. Pencereden bakınca öğretmenin geldiğini gördü. Ebubekir tam kapıdan sınıfa girecekken önündeki arkadaşı kapıyı kapattı. Ebubekir'in burnu kapıya sıkıştı.

1. Ebubekir neden acele ediyordu?

- ☐ a Defterini unuttuğu için.
- ☐ b Oyuna geç kaldığından.
- ☐ c Okula geciktiği için.




2. Ebubekir pencereden bakınca ne gördü?

- ☐ a Öğretmenin geldiğini gördü.
- ☐ b Musa ve Tuna'yı gördü.
- ☐ c Müdürü gördü.

3. Bu metnin başlığı aşağıdakilerden hangisi olamaz?

- ☐ a Geç Kalmak
- ☐ b Okulda Kaza
- ☐ c Ebubekir ve Kediler

4. Aşağıdakilerden hangisi birleşik bir kelimedir?

- ☐ a 
- ☐ b 
- ☐ c 

5. Aşağıdakilerden hangisi bu metinde geçen özel isimlerden biri değildir?

- ☐ a Ebubekir
- ☐ b Furkan
- ☐ c Tuna

6. Aşağıdaki bilgilerden hangisi yanlıştır?

- ☐ a Akciğer nefes almamızı sağlar.
- ☐ b Mide kanımızı temizler.
- ☐ c Beyin vücudumuzu yönetir.

7. Aşağıdakilerden hangisi bir iletişim aracı değildir?

- ☐ a Otomobil
- ☐ b Telefon
- ☐ c Bilgisayar

8. Aşağıdakilerden hangisini yapan çocuk, yemek yerken uyulması gereken görgü kurallarına uymamıştır?

- ☐ a Yemek sırasında konuşmam.
- ☐ b Bazı yemekleri elimle yerim.
- ☐ c Yemeği hazırlayana teşekkür ederim.

9. Yüzümü güneşin doğduğu tarafa gönersem arka tarafım hangi yön olur?

- ☐ a doğu
- ☐ b batı
- ☐ c kuzey

10. Aşağıdaki mesleklerden hangisi sağlık alanında çalışmaz?

- ☐ a hemşire
- ☐ b hakim
- ☐ c doktor

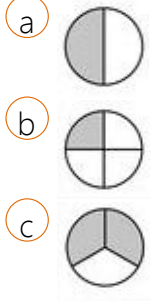
11. Atatürk ilk önce hangi okula gitmiştir?

- ☐ a Mahalle mektebi
- ☐ b Şemşi Efendi İlkokulu
- ☐ c Askeri okul

12. Aşağıdaki sözcüklerden hangisi hecelerine yanlış ayrılmıştır?

- ☐ a kü-mes-tek-i-ler
- ☐ b dok-tor-luk
- ☐ c o-yun-cak-çı

13. Aşağıdaki resimlerden hangisi çeyreği ifade eder?



14. İki basamaklı en büyük sayının 25 eksiğinin yarısı kaç eder?

- (a) 99
(b) 74
(c) 37

15. Tanesi 4 lira olan çoraptan 26 tane alırsam kaç lira ödemem gerekir?

- (a) 100
(b) 104
(c) 90

16. 200 koyunun 79 tanesini sattık geriye kaç koyunumuz kaldı?

- (a) 121
(b) 131
(c) 111

17. 94 cevizi iki sincabın paylaşması gerekiyor.

Bir sincaba kaç ceviz düşer?

- (a) 46
(b) 47
(c) 48

18. 20-18-16-▲-12-10-◇

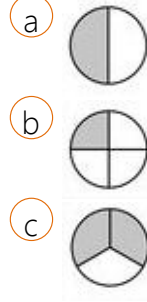
Yukarıdaki örüntüde ▲ ve ◇ yerlerine yazılacak sayıların toplamı kaç eder?

- (a) 14
(b) 8
(c) 22

19. 24 eşeğin ve 12 penguenin toplam kaç ayağı olur?

- (a) 120
(b) 96
(c) 24

20. Aşağıdaki resimlerden hangisi yarımı ifade eder?



21. Hergün 3 sayfa kitap okuyan biri 29 günde kaç sayfa kitap okur?

- (a) 90
(b) 87
(c) 77

22. Aşağıdaki eşleştirmelerin hangisi yanlıştır?

- (a) yellow-sarı
(b) green-mavi
(c) red-kırmızı

23. 4+3 işleminin sonucu nedir?

- (a) four
(b) ten
(c) seven

24. Limon hangi renktir?

- (a) red
(b) blue
(c) yellow

25. Aşağıdakilerden hangisi yanlıştır?

- (a) one= bir
(b) zero= sıfır
(c) ten=iki