

2.SINIF DENEME SINAVI -4

ADI :
SOYADI :
SINIFI :
NO :

1. Bu deneme sınavı Türkçe 20, Matematik 15 Hayat Bilgisi 10 ve İngilizce 5 olmak üzere toplam 50 sorudan oluşmaktadır.
2. Her sorunun bir doğru cevabı vardır.
3. Yanlış doğruyu götürmemektedir.
4. Sınav süresi en fazla iki ders saatidir.

HAZIRLAYANLAR
SALİH ÖZENÇ
MUHAMMET ÖZENÇ

2016-2017

TÜRKÇE

Kurt ile Turna Masalı

Bir kurt, avını büyük bir iştahla midesine indirirken boğazına bir kemik takılmış. Acı içinde uluyarak, ormanda koşmaya başlamış. Rastladığı her hayvana, kemiği çıkarması için yalvarmış; kemiği çıkarana büyük bir ödül vereceğini söylemiş. Yana yakıla yalvaran kurda acıyan bir turna, ödülü almayı umarak, ince uzun boynunu kurdun boğazına sokmuş ve gagasıyla kemiği çıkarmış. Sonra da çekine çekine ödülünü istemiş. Kurt sırtarak dişlerini göstermiş ve öfkeli bir sesle, "Nankör yaratık! Ödül istemeye nasıl cesâret edebiliyorsun?" demiş, "Hayatından başka ne ödül bekliyorsun ki? Hangi hayvan kafasını benim gibi bir kurdun ağzına sokup da oradan sağlam çıkarabilir?"

(1.,2.,3. Ve 4. Soruları yukarıdaki okuma parçasına göre cevaplayınız.)

1)Kurdun boğazına takılan nedir?
A) Diken B) Kemik C) Çöp

2) Kurt ormanda acı içinde koşarken her hayvandan ne istemiş?
A) kemiği çıkarması için yalvarmış.
B) her hayvana ödül vermiş.
C) her hayvanı korkutmuş.


3) Kurda kim yardım etmiş?
A) leylek B) tilki C) turna

4) Kurt onu kurtaran hayvana ödül olarak ne vermiş?
A) bir parça et vermiş.
B) hayatından başka ne ödül istiyorsun ki? demiş, başka bir şey vermemiş.
C) bir kese altın vermiş.


5) "Arzu rüyasında Murat ile uçan bir halı ile büyük bir kaleye gitti. Orada devler tarafından esir alınmıştı." Aşağıdakilerden hangisi yukarıdaki metinle ilgili değildir?



A



B



C

HAM	ÇÜRÜK
GÜZEL	OLGUN
TEMİZ	KİRLİ
SAĞLAM	ÇİRKİN

6) Yukarıdaki tablo bir kurala göre eşleştirilmektedir. Bu kurala göre **HAM** kelimesi hangi kelime ile eşleştirilmelidir?



A



B



C



7)

Yukarıda bulutta yazılı olan kelime hangi seçenekte **insan ismi** olarak kullanılmıştır?

- A) Dün gece çok yağmur yağdı.
B) Gökyüzünde yağmur bulutları var.
C) Kuzenim Yağmur' u çok seviyorum.

8) Yasemin'in yüzünde yara çıkmış.

Yukarıdaki cümlede geçen "yüz" kelimesi hangi seçenekte aynı anlamda kullanılmıştır?

- A) Dedem bize yüz tane ceviz getirmiş.
B) Çocuğu teyzesi yüzünden öptü.
C) Kasap koyunun derisini yüzdü.

9)



Yukarıdaki cümleleri oluş sırasına göre sıralarsak, sıralama nasıl olur?

- A) 2-1-4-3 B) 1-2-3-4 C) 2-1-3-4

10) "Semiha tel örgüler üzerinde gördüğü uğur böceğini parmağının ucuna aldı ve uçurdu."

Aşağıdaki resimlerden hangisi yukarıdaki cümle ile alakalı olamaz?



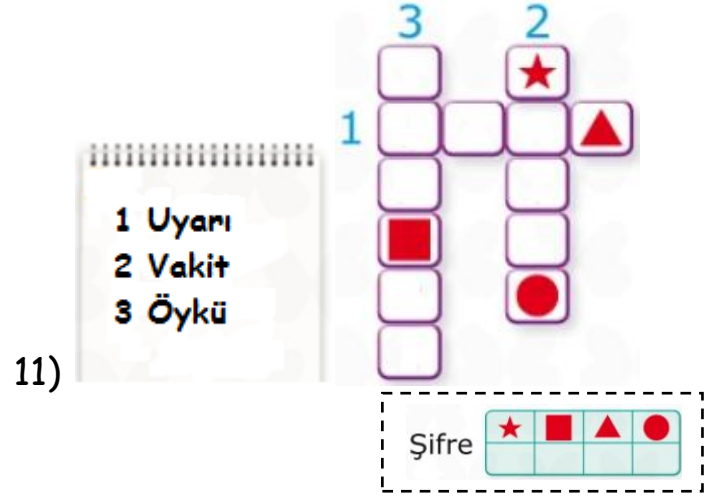
A



B

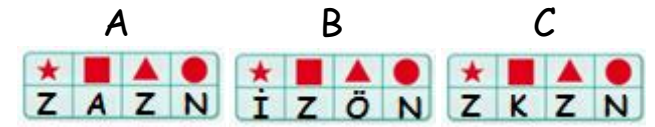


C

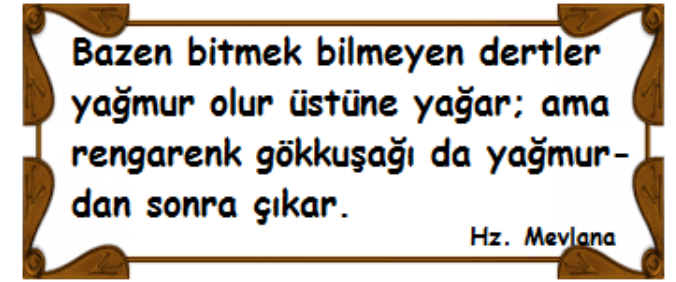


11)

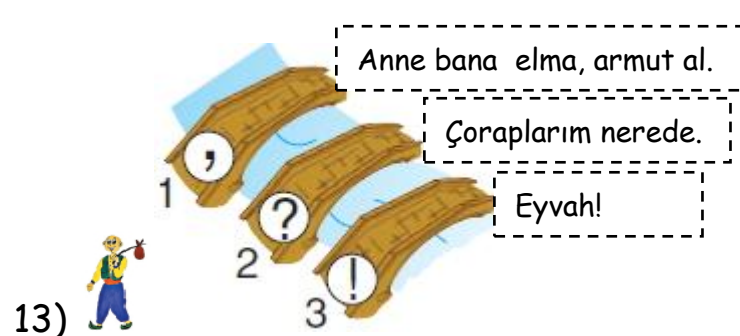
Kağıtta verilenlerin eş anlamlılarını bulmacaya yazdığımızda şifre ne olur



12)



Mevlana'nın yukarıdaki sözüne göre yağmurdan sonra hangisi çıkar?



13)

Keloğlan noktalama işareti yanlış yazılan cümleyi arıyor yardım eder misiniz?

- A) 1 B) 2 C) 3

14) " Uğur böceği ve salyangoz rüzgarlı bir havada uçurtma uçururlarken yağmur başladı. Bir ağacın altına kaçtılar. Sonra çıkan gökkuşağının altında el ele oyun oynadılar."

Aşağıdakilerden hangisi bu hikaye ile ilgili resim olamaz?



15)

tuttu

gölde

balık

yedi

Ahmet

Karışık olarak verilmiş cümleleri düz cümle haline getiriniz?

- A) Ahmet gölde balık tuttu.
B) Ahmet balık tuttu yedi.
C) Ahmet gölde yedi balık tuttu.

16) Aşağıdaki cümlelerin hangisinde neden sonuç ilişkisi vardır?

- A) Ahmet bugün top oynadı.
B) Şemsiyesini almadığı için ıslandı.
C) Annem evde yok.

17) "Akın, Kamil, Hayri, Mert kamp yapmak için gittikleri ormanda yağmura yakalanarak ıslandılar."

Bu verilen bilgiye göre o gün hava durumu nasıldır?



A



B



C

18) Aşağıdaki cümlelerden hangisi geçmişte gerçekleşmiştir?

- A) Geçen hafta teyzemler bize geldi.
B) Ahmet ödevlerini yapıyor.
C) Yarın Türkçe dersinden sınav var.



Aynı türden birden çok varlığı anlatan isimlere çoğul isim denir.

19)

Zeynep' in verdiği bilgiye göre hangisi çoğul isim değildir?



A



B



C

20)

NE ZAMAN ?

Sorusunun cevabını aşağıdakilerden hangisinde bulabiliriz?

- A) Murat hasta olmuş.
B) Burak geçen hafta beni aradı.
C) Sınıfın camı kırılmış.

MATEMATİK

1) Aşağıdakilerden hangisi büyükten küçüğe doğru sıralanmıştır?

A) 55, 74, 35, 62

B) 76, 81, 35, 29


C) 98, 87, 38, 35

2) Aşağıdaki sayılardan hangisi 40' a en yakındır?

A) 42 B) 46 C) 36



3) Murat yukarıdaki saatte yola çıkmıştır. Dört saat sonra gideceği yere vardığına göre saat kaç olmuştur?



4) Bir terzi günde 3 pantolon diktiğine göre bir haftada kaç pantolon diker?

A)18 B)21 C)15



5) Beyza'nın dedesi kaç ay askerlik yapmıştır?

A)36 B)38 C)40



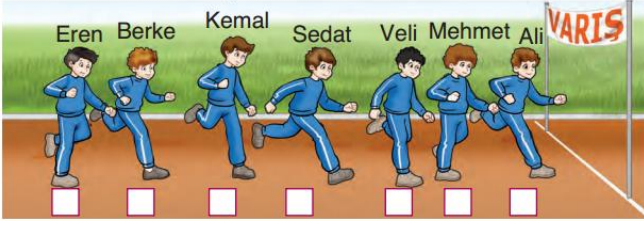
6) Resme göre aşağıdakilerden hangisi Eda'dan kısadır?

A)Eren B)Ali C) Uğur



7) Hakan derslerine çalışmadığı için babası 2 hafta 3 gün bilgisayar kullanmama cezası vermiştir. Hakan kaç gün ceza almıştır?

A)17 B)14 C)21



8) Kemal'in arkasındaki Berke kaçınıcı sıradadır.

- A) 4. B) 5. C) 6.



9)

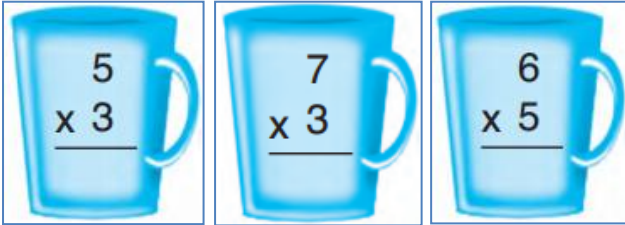
Petito ve Bebito iki arkadaşdır. Yedikleri havuç sayıları yukarıdaki kadardır. Buna göre iki tavşan toplam kaç havuç yemiştir?

- A) 92 B) 82 C) 26



10)

Aşağıdaki çarpma işlemlerinden hangisi tabaktaki sonucu verir?



A

B

C



11) Yukarıdaki portakallar üçerli gruplandırılırsa kaç grup olur?

- A) 4 B) 3 C) 5



12)


Yukarıdaki eşyaların ne kadar su aldığı altında yazmaktadır. Buna göre kova kaç bardak su alır?

- A) 4 B) 12 C) 9



13) Hasan karısı Gül'e 25. Evlilik yıldönümü için sürpriz hazırladı. Hasan şimdi 52 yaşında ise kaç yaşında evlenmiştir?

- A) 77 B) 33 C) 27



14) Yukarıdaki hayvanlardan hangisi küpün köşesindedir?

- A) Kuş B) tırtıl C) salyangoz



15) Yukarıdaki resme göre Sare' nin hangi oyuncuğı küreye benzemektedir?

- A)Yastık B)Kutu C)Top

HAYAT BİLGİSİ

1) Bayrağımıza saygı göstermek neden önemlidir?

- A)Bağımsızlığın sembolü olduğı için.
B)Renkleri güzel olduğı için.
C)Üzerinde yıldız olduğı için

2) Arkadaşları Sema'yı oyuna almadılar. Bu durumda Sema ne hisseder?

- A)Üzülür
B)Mutlu olur
C)Heyecanlanır

3)Melis her sabah kedisine süt vermektedir. Melis için hangisi söylenebilir?

- A)Korkak
B)Hayvansever
C)Düşüncesiz

4)Hangi canlı toprağın altında yaşar?

- A)Kuş B)Solucan C)Ayı


4) Hangisi haftanın günlerinden biridir?

- A) Yaz
B) Nisan
C) Salı

5) "Salih dışarıdaki yağan karı görünce eldivenini beresini taktı. Karda oynamaya çıktı."Yukarıdaki cümleye göre hangi mevsimdir.



6) Melis'in babası kumaşlardan elbiseler diken bir mesleğe sahiptir. Buna göre Melis'in babasının mesleğı hangisidir?



7) Aşağıdaki öğrencilerden hangisi temizlik ile ilgili bilgi vermiştir?



A)



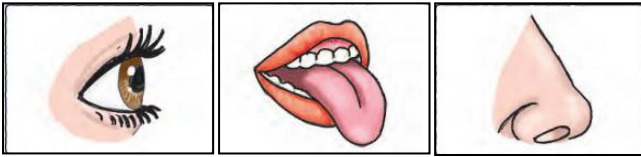
B)



C)

8) " *Betül bahçede gördüğü çiçeğin kokusuna bayıldı.* "

Betül hangi duyu organını kullanmamıştır?



A

B

C

9) Kanın vücutta dolaşmasını sağlayan organımız hangisidir?

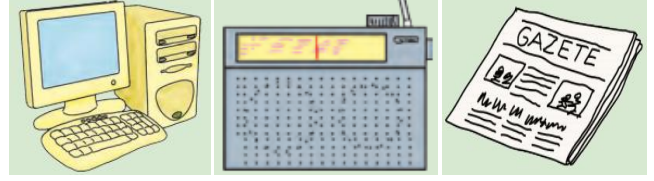


A

B

C

10) Aşağıdaki iletişim araçlarından hangisi hem görsel, hem de işitsel iletişim aracıdır?

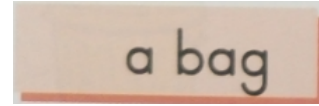


A

B

C

İNGİLİZCE



1)

Yukarıdaki kelimenin Türkçe karşılığı hangisidir?



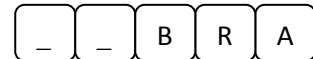
A

B

C



2)



Yukarıdaki ilk iki boşluğa hangi harfler gelmelidir?

A) Zİ

B) ZE


C) ZA

3)

He is playing

Yukarıdaki boşluğa
Hangisi yazılmalıdır?

- A) football
- B) tennis
- C) basketball



5)

Yukarıdaki resimde vücudumuzun
hangi bölümü yanlış verilmiştir?

- A) 1
- B) 2
- C) 3

A)



B)



C)

