



## ARKADAŞIM EŞEK

Elli altmış yetmiş 50 60 70,

Yemyeşil otlar yemiş,

İşte arkadaşım eşek,

Yola düşmüş kara şimşek,

Yaşa, arkadaşım yaşa,

Oynayalım koşu koşu.

Canım Yavrum, metni 3 kere oku. En güzel yazınla defterine yaz

A řağıdaki rakamları bir er satır  
yazar mısın?

1

2

3

4

5

6

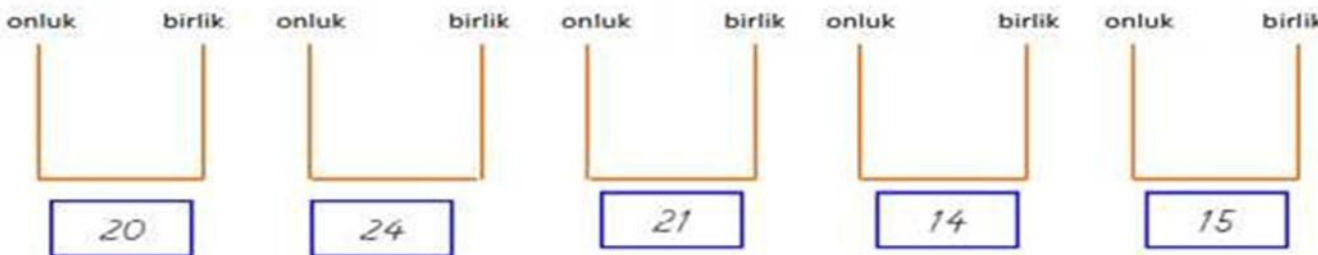
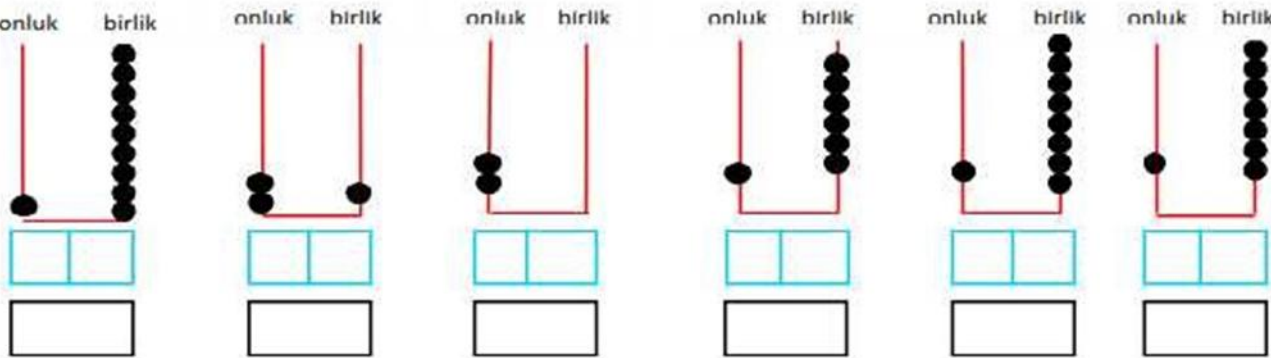
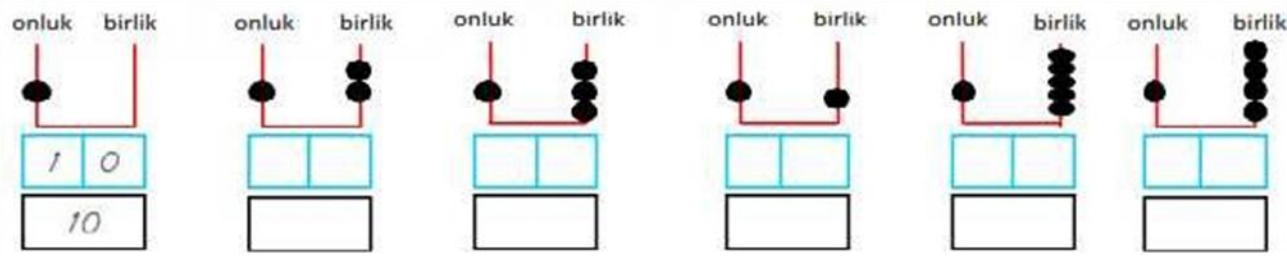
7

8

9

0

♣ TATLI KELEBEĞİM, aşağıda abaküs üzerinde gösterilen sayıların örnekteki gibi önce kaç onluk ve birlikten oluştuğunu, sonra da sayının kendisini yaz.



RAKAMLA VERİLEN SIRA SAYILARININ OKUNUŞLARINI YAZIYLA YAZINIZ.		OKUNUŞLARI VERİLEN SIRA SAYILARINI RAKAMLARLA YAZINIZ.	
1.	birinci	yedinci	7.
2.		altıncı	
3.		dördüncü	
4.		ikinci	
5.		beşinci	
6.		sekizinci	
7.		üçüncü	
8.		On altıncı	
9.		On dokuzuncu	
10.		yirminci	
11.		On birinci	
12.		On beşinci	
13.		On üçüncü	
14.		dokuzuncu	
15.		On ikinci	
16.		onuncu	
17.		On dördüncü	
18.		On yedinci	
19.		birinci	
20.		On sekizinci	


Kelebeğim aşağıdaki bilmeceyi oku ve cevabını bana mesaj olarak gönder. Hımmmm merakla bekliyorum!!!

Benim iki pencerem var , etrafı etten duvar

Her gün erkenden açarım, gece olunca kaparım.


25 OCAK ÇARŞAMBA

SEVGİLİ ÇOCUĞUM, aşağıdaki metni 3 kere oku ve en güzel yazınla defterine yaz. Harf dedektifi görelim seni...




## Dedektif


Tanıtayım kendimi,  
Ben, harf dedektifi!  
Açarım kitap defteri,  
Okurum bütün harfleri.  
Görürsem affetmem,  
Yanlış kelimeleri.



Geriye kalan sayıyı  
eksik sayıları  
tamamlayalım.



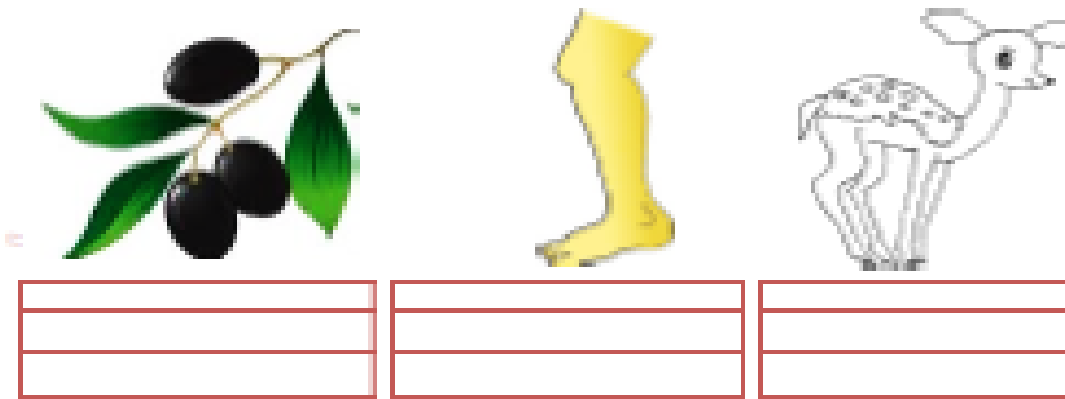
\* Aşağıda verilen saatlerin gösterdiği zamanları işaretleyelim.



\* Aşağıda verilen saatlerin gösterdiği zamanları yazalım.



GÜZEL GÖZLÜM, Aşağıdaki görsellerin adını boşluklara yaz.ZEYTİN metnini hızlı okuyuncaya kadar oku ve bakmadan defterine yaz.



*Zeytin*

*Özlem zeytin al.*

*Marketten zeytin al.*

*Zeytinler iri olsun.*

*Zeytinler kara olsun.*

*Özlem tadına bak.*

*İyice kontrol et.*

*Özlem taze zeytin al.*


Aşağıdaki bilmeceyi oku. Cevabını bana mesaj olarak gönder. Sana güveniyorum!!

Göz ile görülmez, el ile tutulmaz,

Ondan uzak duranlar, sağlam kalır hasta olmaz

Aşağıdaki boşlukları doldurup toplama işlemlerini yapar mısın?

1	11	21	31	41
3	13	23	33	43
5	15	25	35	45
7	17	27	37	47
9		29		49
10	20	30	40	50



$2 + 8 =$	<input type="text"/>
$4 + 5 =$	<input type="text"/>
$3 + 3 =$	<input type="text"/>
$6 + 3 =$	<input type="text"/>
$2 + 6 =$	<input type="text"/>
$7 + 3 =$	<input type="text"/>
$5 + 1 =$	<input type="text"/>
$3 + 4 =$	<input type="text"/>

\* Aşağıdaki saatlerin gösterdiği zamanları altlarına yazalım.










\*\* Aşağıda verilen saatleri zamanlara uygun olarak çizelim.



08:00



01:00



04:30



02:30

SINIFIMIN NEŞESİ, aşağıdaki metinleri oku. Metinlerden birini ,hangisini istersen bakmadan defterine yaz.

## SİMİT İLE MANTI

Susamlı simit al.

Murat simit ye.

Emine mantı kes.

Simit ile mantı ye.

Nane ile marul al.

Mantı naneli olsun.



## ADAM DEREDE

Dede, adam nerede?

Adam kaldı derede.

Dere dolu su ile.

Ben doktoru aradım.


Dedem daldı derine.

Dedem adamı aldı.

Doktor adamı kurtardı.





Hem toplama hem boyama, haydi buraya!!!!




5 = kırmızı    7 = kahverengi    9 = turuncu    11 = gri  
6 = yeşil    8 = mavi    10 = sarı    12 = pembe

Ailece eğlenelim. Bakalım kim önce bulacak???Haydi kayıp eşya bulmaya..Sonra resmi güzelce boyamayı unutma..



## 29 OCAK PAZAR

ÇALIŞKAN ARIM, biraz da etkinlik yapalım mı? Aşağıdaki gibi güzel çiçek ve yaprak modellerini bir büyüğünden yardım alarak yapmayı dene. Yaptıklarının fotoğrafını çek bana gönder. Heyecanla bekliyorum!!!!



www.krokotak.com



CANIM YAVRUM ,aşağıdaki metni 3 kere oku.Sonra metnin altındaki soruları cevapla.Hadi bakalım soru canavarı!

## Kardeşler

Aydın ile Aynur kardeşler. Dere kenarında yürüdüler. Derede balık yakaladılar. Domates ile salatalık aldılar. Salata ile balık yediler. Yemekte ekme de yediler. Aydın ile Aynur karınlarını doyurdular. Sonra da oyun oynadılar.

## SORULAR

1- Kimler kardeşler?

--

2- Nerede yürüdüler?

--

3- Derede ne yakaladılar?

--

4- Karınları doyduktan sonra ne yaptılar?

--

\* Aşağıda verilen saatlerin gösterdiği zamanları yazalım.



saat .....



saat .....



saat .....

\*\* Aşağıda verilen saatlere gösterdikleri zamanları çizelim.



saat 2.30



saat 6.30



saat 4.30

\*\*\* Aşağıda verilen saatler ile gösterdiği zamanları eşleştirelim.



Saat 2 buçuk



Saat 6 buçuk



Saat 9 buçuk

Saat 7 buçuk



$2 + 0 = \square$	$9 + 2 = \square$
$2 + 1 = \square$	$8 + 2 = \square$
$2 + 2 = \square$	$7 + 2 = \square$
$2 + 3 = \square$	$6 + 2 = \square$
$2 + 4 = \square$	$5 + 2 = \square$
$2 + 5 = \square$	$4 + 2 = \square$
$2 + 6 = \square$	$3 + 2 = \square$

Metni 3 defa okuyun. Her okumadan sonra bir gülen yüzü boyayın. Bir büyüğünüzün okuduğu metni bakmadan yazın.

### OKUMAMI HIZLANDIRIYORUM

*Kaçtı.*

*Çitten kaçtı.*

*Açık çitten kaçtı.*

*Keçi açık çitten kaçtı.*

*İnatçı keçi açık çitten kaçtı.*

*Üç inatçı keçi. açık çitten kaçtı.*

*Üç inatçı aç keçi. açık çitten kaçtı.*

Pulları var gelin değil, suda bulunur kayık değil

Avuçta kayar sabun değil, bilemezsen karşımda eğil

Yukarıdaki bilmecenin cevabını bana mesaj atar mısın? Bakalım doğru bildin mi?

PAMUK ŞEKERİM, aşağıdaki metinleri 3 kere oku. İstedğin bir metni en güzel yazınla defterine yaz.

## HALI DOKU

Hasan halıya bak.  
Ne güzel halı.  
Hale bir halı al.  
Üzeri renkli olsun.  
Halıyı kim dokumuş?  
Hasan iplik sardı.  
Huriye halıyı dokudu.




## HASTA OLMA

Hakan hasta oldu.  
Doktor ona hap yazdı.  
Hemşire hapını içirdi.  
Sonra yatakta yattı.  
Hakan şimdi çok iyi.  
Terli terli su içmiş.  
Sen böyle yapma.  
Sakın hasta olma.



Noktaları sırasıyla birleştirerek resmi tamamlayınız.



## Gece Gündüz

Güneş ile bulutlar.  
Gündüz gökyüzünde olur.  
Ay ile yıldızlar.  
Gece gökyüzünde olur.  
Gündüz aydınlık.  
Gece ise karanlıktır.  
Gündüz oyun oynar.  
Gece uyur dinleniriz.



## SORULAR

1- Gündüz gökyüzünde ne olur?

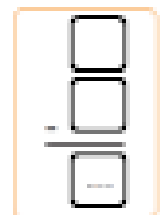

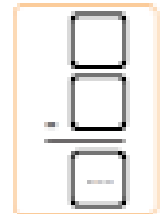
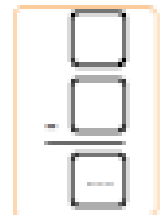

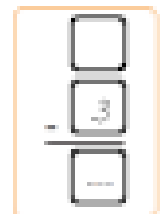
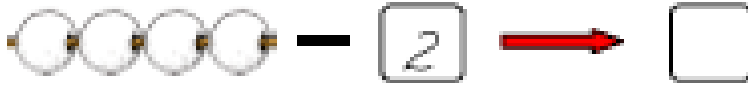
2- Gece gökyüzünde ne olur?

3- Ne zaman oyun oynarız?

4- Ne zaman oyun oynarız?

\* Aşağıdaki boncukların kargılarında belirtilen kadarının aşerini  
örnekteki gibi çizelim. çizilmemiş olanın sayısını boş kutucuğa yazalım.

ÖRNEK:



GÜZEL ÇOCUĞUM, aşağıdaki metni 3 kere oku ve defterine yaz.Kolay gelsin...



*Pelin*

*Pelin bir top aldı.*

*Pat pat yere attı.*


*Sıralanıp tutalım,*

*İ topa oynayalım.*

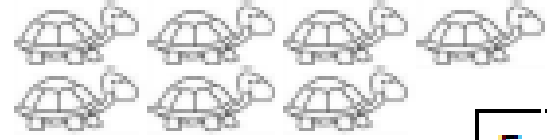
*Aman dikkat edelim,*

*Topu patlatmayalım.*


\* Aşağıda verilen nesnelerden belirtilen kadarını çizerek ayıralım kalanların sayısını boş kutucuğa yazalım.



$$9 - 5 =$$




$$5 - 2 =$$




$$11 - 3 =$$



$$6 - 4 =$$



$$8 - 4 =$$



$$10 - 6 =$$



*İki resim arasındaki 5 farkı bulunuz.*



## 4 ŞUBAT CUMARTESİ

TATLI KELEBEĞİM; bu kış gününde kendini bir deniz kenarında hayal et.Ve hayalindekileri çiz bakalım....



## VEEEE TATİLİN SON GÜNÜ

### 5 ŞUBAT PAZAR

KUZUCUĞUM, bir büyüğünden yardım alarak aşağıdaki etkinliği yap.Yarın okula gelirken getirmeyi unutma ki sınıfımızı süsleyelim.Seni çok özledim.yarın görüşmek üzere...

