















*Doğru verilen bilgilerde gülen yüzü yeşile, yanlış verilen bilgilerde üzgün yüzü kırmızıya boyayın.

Taşıtlar için trafik ışığında kırmızı, yeşil, sarı renkler vardır.		
Trafik ışığındaki kırmızı lamba "geç" demektir .		
Kazalardan korunmak için trafik kurallarına uymalıyız.		
Kaldırımlar, yayaların güvenli bir şekilde yürümeleri içindir.		
Taşıtların geçtiği yollarda oyun oynamak tehlikeli değildir.		
Yaya geçitleri, güvenli geçiş yeri değildir		
Trafik polisinin olduğu yerler güvenli geçiş yerleridir.		

* Aşağıdaki işlemleri yapınız.

$$\square + 9 = 14$$
$$\square + 5 = 12$$
$$\square + 6 = 13$$

$$\square - 9 = 8$$
$$\square - 6 = 5$$
$$\square - 4 = 7$$

$$10 - \square = 7$$
$$14 - \square = 8$$
$$15 - \square = 10$$

Problem 4 : Poşetimde bir miktar şeker vardı. Şekerlerden 4 tanesini kardeşime verdim. 6 şekerim kaldı. Poşette başta kaç şeker vardı?