

SEYİT ONBAŞI

Çanakkale Savaşı'nın en yoğun geçtiği günlerdir. Düşman gemilerinden mevzilere yoğun top atışı olmaktadır. Bu atışlardan biri Seyit'in görevli olduğu toplara isabet etti. Seyit topun vincinin kırıldığını gördü. Topun atış yapabilmesi için yerde duran mermilerin, birkaç basamaktan oluşan topun merdiveninden yukarı çıkarılıp namlu haznesine sürülmesi gerekiyordu.

Seyit, ani bir kararla mermilerin yanına gitti. Arkadaşına:

-Gel Ali! Yardım et de şu mermiyi sırtıma alayım.

Arkadaşı şaşkın şaşkın bakarak:

-Bu mermilerin her biri 276 kilo çeker. Kaldıramazsın Seyit! Dedi.















-Bir deneyelim! Diye cevap verdi.

Ellerini toprağa bulayıp tuttukları mermiyi Seyit'in sırtına koydular. Hafif sendeledikten sonra topun merdivenlerini teker teker, yavaş yavaş çıktı.

Arkadaşının yardımıyla mermiyi topa sürüp ateşledi. Üçüncü mermi, gemiye isabet etti. Geminin dümen tertibatı parçalandı Ve bir süre sonra gemi battı. Bu kahramanlık savaşın seyrini değiştirdi.

Okuma Anlama Çalışması

*Doğru verilen bilgilerde gülen yüzü yeşile, yanlış verilen bilgilerde üzgün yüzü kırmızıya boyayın.

Aile bireylerimizle her şeyi paylaşırız.		
Aile bireyleri birbirlerine destek olur, zararlı durumlardan korurlar		
Arkadaşlarımızın evine giderken ailemizden izin almaya gerek yoktur		
Ailemizle konuştuğumuz özel konuları komşularımıza anlatmayız.		
Ailemizin izni olmadan tek başımıza komşularımıza gitmemeliyiz.		
Kişisel bilgilerimizi, tanımadığımız kişilerle paylaşabiliriz.		
İnternet sitelerinde, kişisel bilgilerimizi paylaşmamalıyız.		

* Aşağıdaki problemleri çözünüz.

Problem 1 : Sema'nın 11 çiçeği vardı. Çiçeklerden bazıları kurudu. Geriye 6 çiçeği kaldı. Sema'nın kaç çiçeği kurudu?

Problem 2 : Aysun 14 yaşındadır. Meral Aysun'dan 5 yaş küçüktür. Meral kaç yaşındadır?

Problem 2 : Bayramda sınıfımıza 17 bayrak astık. Bayraklardan 6 eksik balon astık. Sınıfımıza kaç balon asmış olduk?

Problem 4 : 19 sayısından 9 çıkartıp daha sonra 5 eklersek yeni oluşan sayı kaç olur?