


MATEMATİK, UZUNLUKLARI ÖLÇME


1) Aşağıdaki canlılardan hangisi en uzundur ?




2) Sınıf kapımızın boyu aşağıdakilerden hangisi olabilir ?

A) 6 parmak B) 5 karış C) 2 kulaç

3)



5 karış

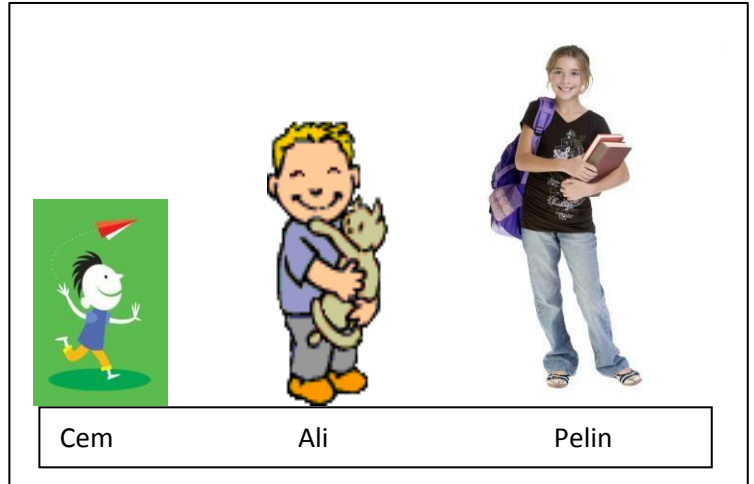


9 karış

Yukarıdaki dikdörtgenlerden uzun olan kısa olandan kaç karış uzundur ?

A) 6 B) 5 C) 4

4) Yandaki çocuklar için
söylenenlerden hangisi
yanlıştır ?



A) En kısa Cem'dir B) En uzun Pelin'dir C) Ali Cem'den kısadır.

5) Aşağıdaki doğal uzunluk ölçülerinden hangisi diğerlerinden daha uzundur ?

A) Karış B) Adım C) Kulaç

MATEMATİK, UZUNLUKLARI ÖLÇME

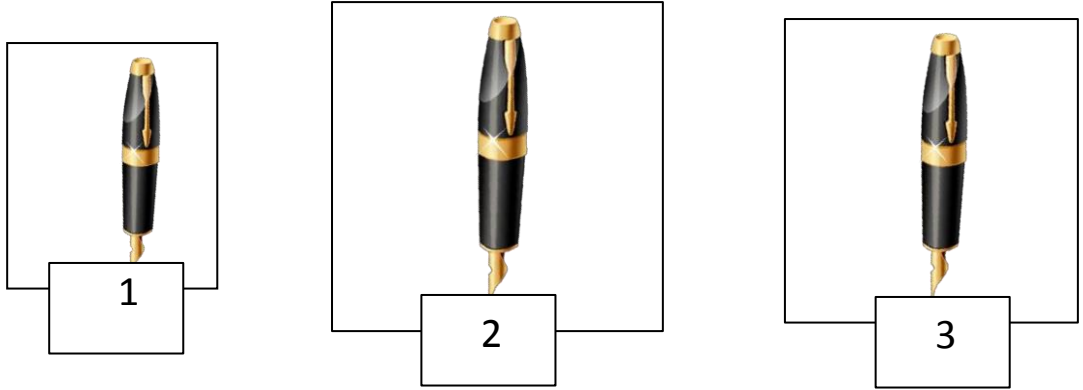
6) Aras'ın 1 adımı 3 ayak ise, 2 adımı kaç ayak eder ?

- A) 4 B) 5 C) 6

7) Aşağıdakilerden hangisi yanlış ölçülmüştür ?

- A) Evimizin kapısı 2 karış uzunluğundadır.
B) Arkadaşımın boyu 8 karıştır.
C) Öğretmenimizin masası 1 kulaç kadardır.

8)



Yukarıdaki kalemleri kısıdan uzuna doğru sıralamak isteyen Samet ne yapmalıdır ?

- A) 1. kalemle 2.kalemin yerini değiştirmelidir.
B) 3. kalemle 2.kalemin yerini değiştirmelidir.
C) 1.kalemle 3.kalemin yerlerini değiştirmelidir.

9) Yandaki resme göre aşağıdakilerden hangisi doğrudur.

- A) Ceren, annesinden 4 karış kısadır.
B) Annesi Ceren'den 4 karış kısadır.
C) Ceren annesinden uzundur.



Ceren 7 karış ,Ceren'in annesi 11 karış boyundadır.

Başarılar..