

MATEMATİK DEĞERLENDİRME TESTİ

1) Aşağıdakilerden hangisi uzunluk ölçme aracıdır?

A) metre B) saat C) adım

2) Akrep 3'ü yelkovan 12'yi gösterdiğinde saat kaçtır?

A) 3 B) 4 C) 5

3) Saat 9' da pikniğe gittik. 12' de ise piknikten ayrıldık. Piknikte kaç saat geçirmiş olduk?

A) 3 B) 4 C) 5

4) Aşağıdaki uzunluklardan en uzun olanı hangisidir?

A) kulaç B) adım C) ayak

5) Geçen hafta 7 bu hafta 9 kitap okudum. 2 haftada toplam kaç kitap okumuş oldum?

A) 15 B) 16 C) 17

6) 19 sayısı 12 sayısından kaç fazladır?

A) 6 B) 9 C) 7

7) Bir otobüste 12 yolcu vardı. Birinci durakta 3, ikinci durakta 4 kişi daha bindi. Otobüste toplam kaç yolcu oldu?

A) 18 B) 19 C) 20

8) Bir simitçi, 20 tane simitin 12 tanesini satarasa geriye kaç simiti kalır?

A) 12 B) 8 C) 11

MATEMATİK DEĞERLENDİRME TESTİ




9) Selen, 4 yıl sonra 10 yaşında olacaktır. Buna göre Selen'in şimdiki yaşı kaçtır?

A) 6 B) 4 C) 5




10) 10 kalemin, 2 eksiğinin yarısı kaç kalem eder?

A) 3 B) 4 C) 5




11) Aşağıdaki şekillerden hangisi küreye benzemektedir?

A)  B)  C) 




12) Aşağıdakilerden hangisi silindire benzer?

A)  B)  C) 



13) Aşağıdakilerden hangisi diğer ikisinden farklıdır?

A)  B)  C) 

14) Aşağıdakilerden hangisi dikdörtgendir?

A)  B)  C) 

15) Aşağıdaki varlıklardan hangisi bütündür?

A)  B)  C) 