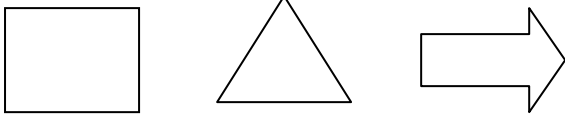
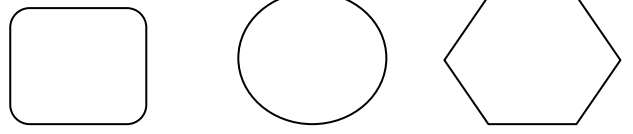


1.Aşağıdaki şekillerin yarısını boyayınız.



2.Aşağıdaki şekillerin çeyreğini boyayınız.




2. 3 bütün ekmekten kaç tane yarım ekmek oluşur?

3. 8 tane çeyrek elma kaç tane bütün elma eder?

4. Yarısı 9 olan sayı kaçtır?

5. Yarısı 10 olan sayının 10 fazlası kaçtır?

6. Bir kutuda 8 boncuk vardır.Kutuya önce 4 ,sonra da 5 boncuk daha konuyor.Kutuda kaç boncuk olur?

7. 
10 karış 13karış 27 karış

Yukarıdaki kağıt şeritlerin en uzununu ile en kısası arasında kaç karış fark vardır?

8.Bir çıkarma işleminde eksilen 39, çıkan 19 ise fark(kalan) kaçtır?

Hatırla! Eksilen
- Çıkan

Fark

9. Toplama işlemlerinde verilemeyen toplananı bulunuz. (Üstüne sayarak)

$9 + \square = 15$

$12 + \square = 20$

$\square + 8 = 19$

10. Sami 24 yaşındadır. Abisi Sami'den 5 yaş büyüktür. İkisinin yaşları toplamı kaçtır?

11. Nuri'nin 55 lirası vardı. Nuri parasının 25 lirası ile 1 araba aldı. Sonra babası ona 12 lira daha verdi. Nuri'nin kaç lirası oldu?

12. Örüntülerin kuralını yazalım.

27	29	28	30	29	31
----	----	----	----	----	----

Kural:.....

42	45	48	51	54	57
----	----	----	----	----	----

Kural:.....

13. Örüntüde kuralı bozan sayıyı işaretleyiniz.

19	25	31	37	42	49
----	----	----	----	----	----

14. Bahçemizde 6 tane elma ağacı vardır. Elma ağacından 8 fazla erik ağacı vardır. Bahçemizde toplam kaç ağaç vardır?

15. Soruları çetele tablosuna göre yanıtlayalım.

Ayşe'nin Oyuncakları

Bebek	
Yapboz	
Top	
Oyuncak Ayı	

Ayşe'nin kaç tane bebeği vardır?.....

Ayşe'nin kaç tane topu vardır?.....

Ayşe'nin yapboz sayısı oyuncak ayı sayısından kaç fazladır?.....

Öğretmenin: Hanife İRİ