







Görsellere uygun problemler yazınız. Yapabileceğinizi biliyorum!

1.  +  =

2.  +  =

3.  +  =

4.  +  =

5.  +  =

6.  +  =