






NESNE GRAFİĞİ ve PROBLEM ÇÖZME



Sınıfımızda en sevdiğimiz meyveler ile ilgili bir araştırma yaptık. Sonuçları nesne grafiği ile gösterdik. Grafiğimizi inceleyelim. Soruları çözerken toplama ve çıkarma işlemlerinden uygun olanları kullanalım.

EN SEVİLEN MEYVELER NESNE GRAFİĞİ

MEYVE	SEVEN KİŞİ SAYISI
Elma	
Muz	
Çilek	
Armut	
Kiraz	

HER ŞEKİL 1 KİŞİYİ GÖSTERMEKTEDİR.

- 1- Sınıfımızda en sevilen meyve hangisidir?
- 2- Sınıfımızda en az sevilen meyve hangisidir?
- 3- Sınıfımızda hangi meyveler eşit sayıda sevilmektedir?
- 4- Armut sevenler elma sevenlerden kaç kişi fazladır?
- 5- Kiraz sevenler ile muz sevenlerin toplamı kaçtır?
- 6- Çilek sevenler ile armut sevenler arasındaki fark kaçtır?
- 7- Sınıfımızda toplam kaç kişi var?