

MATEMATİK GENEL TEKRAR 1

➤ Aşağıdaki ritmik saymalarda noktalı yerlere uygun sayıları yazınız.

A) iki, dört, (.....), sekiz, (.....), on iki, (.....), (.....), (.....), yirmi.

B) üç, beş, (.....), dokuz, (.....), (.....), (.....), (.....), on dokuz.

C) on, yirmi, (.....), kırk, (.....), (.....), (.....), (.....), (.....), yüz.

➤ Aşağıdaki cümlelerden doğru olanların başına D, yanlış olanların başına Y koyunuz.

(.....) Yirmi sayısından önce on dokuz sayısı gelir.

(.....) Beşer ritmik sayarken on dört sayısını söylemeyiz.

(.....) İleri doğru onar ritmik sayarken kırktan sonra otuzu söyleriz.

(.....) Altı tane kedinin yirmi tane gözü vardır.

➤ Aşağıdaki cümlelerdeki boşlukları uygun kelimelerle tamamlayınız.

küçüktün	nakam	on	eksiktin
----------	-------	----	----------

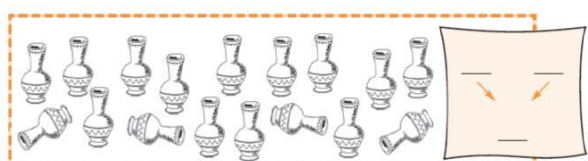


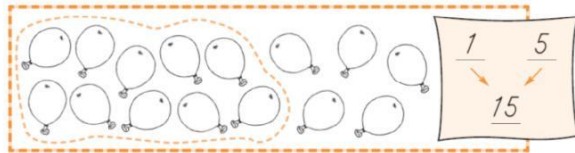
İki elimizde toplam tane parmağımız var.

On dört sayısı, on altı sayısından tır.





Altı sayısı dokuz sayısından üç tir.

Sayıları yazmak için kullandığımız sembollere denir.

➤ Aşağıdaki boşlukları örnekteki gibi doldurunuz.



➤ Aşağıda belirtilen rakam kadar nesneyi boyayınız.



➤ Noktalı yerleri örneğe uygun biçimde doldurunuz.

