

MATEMATİK GENEL DEĞERLENDİRME -1-

1. Aşağıdaki sayıların kaç onluk kaç birlikten oluştuğunu yazınız.

$$15 = \dots\dots\text{onluk} + \dots\dots\text{birlik}$$

$$25 = \dots\dots\text{onluk} + \dots\dots\text{birlik}$$

$$90 = \dots\dots\text{onluk} + \dots\dots\text{birlik}$$

$$72 = \dots\dots\text{onluk} + \dots\dots\text{birlik}$$

$$8 = \dots\dots\text{onluk} + \dots\dots\text{birlik}$$

2. Aşağıdaki aralıklara hangi sayıların geleceğini yazınız.


24-....-26	12-.....-14	9-.....-11	29-.....31	80-.....-82
98-.....-100	5-.....-7	27-.....-29	35-.....37	49-.....-51

3.


a) 5 ten başlayıp birer birer saymaya başlayan aslı 6. saymada hangi sayıyı söyler?

b) 4 den başlayıp ikişer ikişer sayan nisa 5. saymada hangi sayıyı söyler?


4 SORU: Aşağıda verilen saatleri şekil üzerinde gösteriniz




Saat 08.00



saat 02.30



saat 11.00



saat 05.30

5. SORU: Aşağıdaki toplama işlemlerini yapınız.

$$2+3=..... \quad 4+1=..... \quad 10+3=..... \quad 7+0=..... \quad 9+9=.....$$

$$9+5=..... \quad 12+7=..... \quad 15+5=..... \quad 13+7=..... \quad 11+6=.....$$

6. SORU: Aşağıdaki çıkarma işlemlerini yapınız.

$$6-2=..... \quad 8-3=..... \quad 4-0=..... \quad 15-3=..... \quad 20-10=.....$$

$$18-8=..... \quad 12-7=..... \quad 16-5=..... \quad 20-1=..... \quad 9-9=.....$$

7.SORU: Benim 4 tane cevizim vardı. Annem 5, babam da 3 tane daha ceviz verdi. Toplam kaç cevizim oldu?

8.SORU: Rüzgar'ın 10 kalemı vardı. 5 tanesini kardeşine, 3 tanesini arkadaşına verdi. Rüzgar'ın kaç kalemı kaldı ?

9.SORU: Aşağıdaki noktalı yerlere hangi sayıların geleceğini bulunuz.

$$.....+5=8$$

$$12+.....=18$$

$$.....+9=17$$

$$6+.....=6$$

$$0+.....=7$$

10.SORU: Ben bu ay 8 kitap okudum kaç tane daha kitap okursam okuduğum kitap sayısı 10 a yükselir?