

MATEMATİK DEĞERLENDİRME

1- Aşağıdaki ritmik saymalarda boşluklara uygun rakamları yazın.

5-10--20-25-30-35--45-50-55-60

10-20-30--50-60--80-90-100

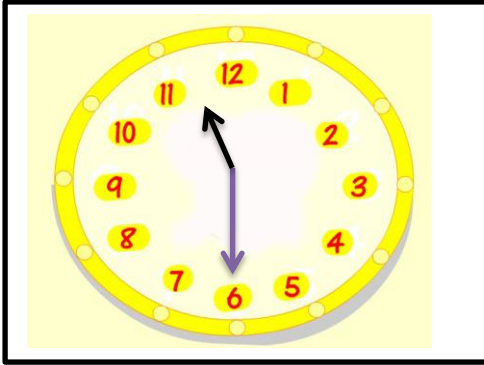
2- 28 sayısında kaç onluk vardır?

onluk

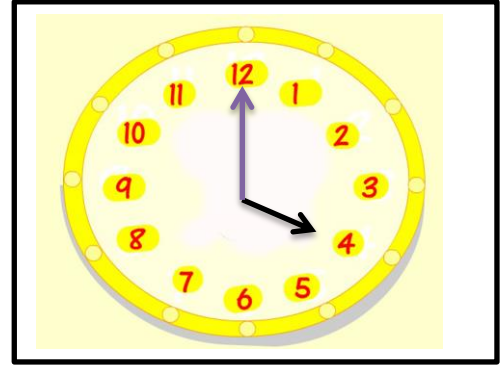
3- 45 sayısında kaç birlik vardır?

birlik

4- Saatlerin kaçı gösterdiğini kutulara yazın.

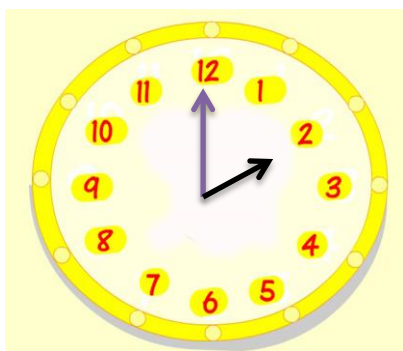


Saat:



Saat:

5-



Yandaki saate göre 3 saat sonra saat kaçı gösterir?

Saat:

6- Aşağıdaki rakamların yanına yazılışlarını yazın.

18 :

25 :

7- Yazılışı verilen rakamları karşlarına yazın.

Yirmi sekiz :

On beş :

8- Ali 9 yaşındadır. Eda, Ali'den 6 yaş büyüktür. Eda Kaç yaşındadır?

9- Sınıfımızda 10 kız öğrenci vardır. Kızlardan 3 erkek az erkek öğrenci vardır. Erkek öğrencilerin sayısı kaçtır?

10- Aşağıdaki işlemleri yapın.

$$\begin{array}{r} \square \\ 2 \\ \hline 7 \end{array}$$

$$\begin{array}{r} 14 \\ \square \\ \hline 8 \end{array}$$

$$\begin{array}{r} 9 \\ \square \\ \hline 12 \end{array}$$

$$\begin{array}{r} \square \\ 4 \\ \hline 6 \end{array}$$