



Adı Soyadı:

Genel Değerlendirme

1. Kutulardaki nesne sayılarını yazınız.



2. Toplama işlemlerini yapınız.

$$\begin{array}{r} 4 \\ + 3 \\ \hline \end{array}$$

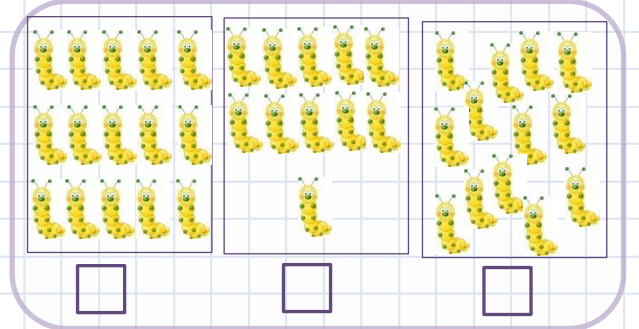
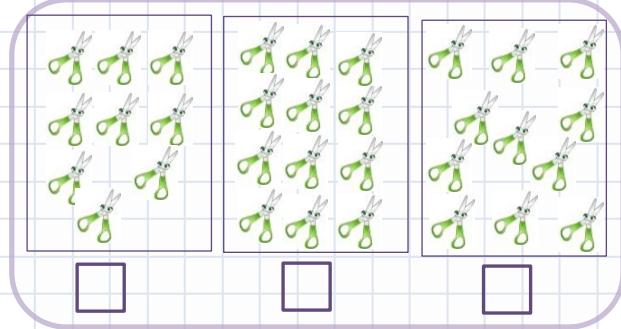
$$\begin{array}{r} 6 \\ + 4 \\ \hline \end{array}$$

$$\begin{array}{r} 12 \\ + 7 \\ \hline \end{array}$$

$$8 + 4 =$$

$$11 + 6 =$$

3. Çok olanı işaretleyiniz.



4. Boşlukları tamamlayınız.

12 = onluk birlik

On altı = onluk birlik

1 onluk 3 birlik =

5. Verilen sayıdan geriye birer birer ritmik sayma yazınız.

20-

6. Verilen sayıdan başlayarak elliye kadar 5'er 5'er yazınız.

5-


7. 10'ar 10'ar yüze kadar yazınız.

10-

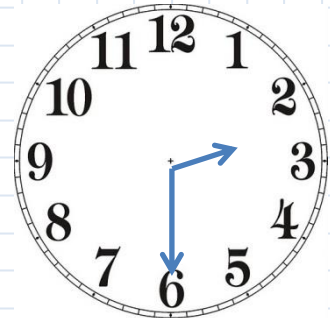
8. İstenen sıradaki topu boyayınız.

4. ○○○○○○○○○○ 8. ○○○○○○○○○○

9. Saatlerin kaç olduğunu yazınız



Saat:



Saat: