

Adı Soyadı :

Toplama İşlemi
Alıştırımları ve Problemleri

1) $3 + 9 =$

2) $4 + 7 =$

3) $7 + 8 =$

4) $5 + 1 =$

5) $5 + 4 =$

6) $0 + 8 =$

7) $6 + 7 =$

8) $8 + 6 =$

9) $1 + 3 =$

10) $2 + 5 =$

- 11) Ali üç topa, Taner ise iki topa oynuyordu. Topların hepsi kaç tanedir?



- 12) Elif, dükkandan 6 fıstıklı çikolata ve 8 vanilyalı çikolata satın aldı. Elif dükkandan kaç tane çikolata almıştır?



Adı Soyadı :

Toplama İşlemi
Alıştırmaları ve Problemleri

1) $6 + 3 =$

2) $7 + 9 =$

3) $5 + 6 =$

4) $9 + 5 =$

5) $1 + 2 =$

6) $3 + 7 =$


7) $4 + 1 =$

8) $6 + 1 =$


9) $0 + 4 =$

10) $2 + 4 =$

- 11) Arda ile Ömer hamburger yeme yarışını yaptılar. Arda 5, Ömer 7 hamburger yedi. Yarışmada kaç hamburger yenmiştir?



- 12) Vazoda 8 kırmızı, 9 pembe gül vardır. Vazodaki güllerin sayısını kaçtır?



Adı Soyadı :

Toplama İşlemi
Alıştırmaları ve Problemleri

1) $5 + 2 =$

2) $1 + 9 =$

3) $6 + 9 =$

4) $8 + 4 =$

5) $4 + 7 =$

6) $2 + 6 =$


7) $8 + 1 =$

8) $3 + 0 =$

9) $7 + 6 =$

10) $9 + 5 =$

- 11) Azraların mutfağında 4, bahçelerinde 6 sandalye vardır. Azraların evinde ne kadar sandalye vardır?



- 12) Nisa'nın 5 yuvarlak balonu, 4 kalpli balonu vardır. Nisa'nın balonlarının sayısı kaçtır?



Adı Soyadı :

Toplama İşlemi
Alıştırmaları ve Problemleri

1) $4 + 2 =$

2) $5 + 9 =$

3) $3 + 8 =$

4) $7 + 6 =$

5) $0 + 5 =$

6) $2 + 1 =$

7) $8 + 4 =$

8) $6 + 3 =$

9) $1 + 9 =$

10) $9 + 7 =$

- 11) Damla'nın 4 kız kardeşi, 3 erkek kardeşi vardır.
Damla'nın kardeş sayısı kaçtır?



- 12) Emine yardım için 8 tişört, Ayla ise 7 tişört bağışladı. Kaç tişört bağış yapılmıştır?

