

## DENEME SINAVI-I

Puan

Adı Soyadı: \_\_\_\_\_ Sınıfı/Numarası: \_\_\_\_ / \_\_\_\_

1) Aşağıdaki kelimelerden hangisi dört hecelidir?

- (A) yumurta  
(B) bilgisayar  
(C) domates

2) Aşağıdaki kelimelerden hangisi hecelerine yanlış ayrılmıştır?

- (A) te - le - viz - yon  
(B) kol - luk  
(C) kal- e -mlik

3) Aşağıdaki cümlelerin hangisinin sonuna soru işareti konumalıdır?

- (A) Ayşe ödevini yaptı mı  
(B) Aman, dikkat et  
(C) Pazardan elma, armut, kiraz aldık

4) Aşağıdaki kelimelerden hangisinde kesme işareti yanlış kullanılmıştır?

- (A) Ankara'ya  
(B) İstan'bula  
(C) Hatay'a

5) Ayakkabı kelimesinin eş anlamlısı hangi kelimedir?


- (A) Papuç  
(B) elbise  
(C) terlik

6) Zeynep'in elindeki tabloda yazan kelimenin zıt anlamlısı yani tersi hangi kelimedir?

(A) İyi

(B) başarısız

(C) çalışkan



7) Aşağıdaki öğrencilerden hangisinin elinde yazılı olan cins isimdir?

(A)



(B)



(C)



8) Tahtadaki kelimeleri kullanarak anlamlı ve kurallı cümle yazarsak hangi seçenek doğru olur?

(A)

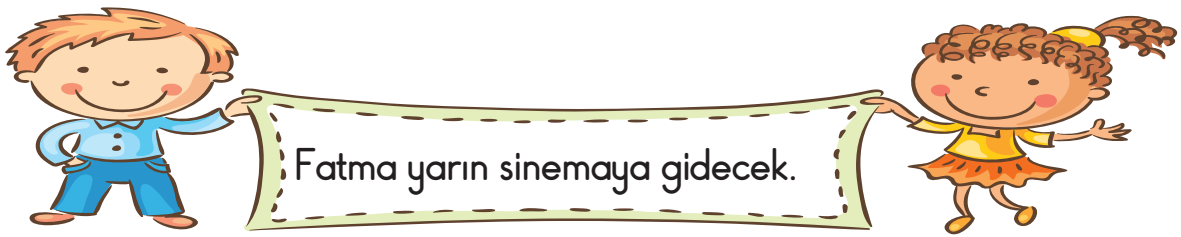
Ali okula gitti.

(B)

Okula gitti Ali.

(C)

Gitti Ali okula.



9. ve 10. soruları yukarıdaki cümleye göre cevaplayınız.

9) Fatma, nereye gidecek?

(A) fırına

(B) tiyatroya

(C) sinemaya

10) Fatma, ne zaman gidecek?

(A) akşam

(B) yarın

(C) hafta sonu

## DENEME SINAVI-I

Puan

Adı Soyadı: \_\_\_\_\_ Sınıfı/Numarası: \_\_\_\_ / \_\_\_\_

1) Yandaki toplama işleminin sonucu kaçtır?

- (A) 63  
(B) 53  
(C) 64




2) Yandaki çıkarma işleminin sonucu kaçtır?

- (A) 34  
(B) 36  
(C) 26



3) Ali'nin 34 misketi, Berra'nın 28 misketi vardır. İki arkadaşın misketleri toplamı kaçtır?

- (A) 62  
(B) 52  
(C) 64

4) Yandaki işleme göre  $\square + \triangle = ?$ 

- (A) 7      (B) 5      (C) 6

$$\begin{array}{r} 2\square \\ + \triangle 3 \\ \hline 65 \end{array}$$



5) Yukarıdaki örüntünün kuralına göre ? işareti yerine hangi şekil gelmelidir?

- (A)       (B)       (C) 

6) Aşağıdakilerden hangisi koni şekline örnektir?


(A)



(B)

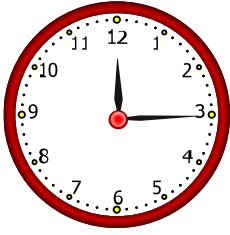


(C)




7) Aşağıdakilerden hangisinde saat 03.30 (üç buçuk)'tur?


(A)



(B)



(C)



8) Odanın boyu 21 ayak, eni ise 15 ayaktır. Buna göre odanın boyu eninden ne kadar uzundur?

(A)

5

(B)

6

(C)

7

9) Aşağıdakilerden hangisi yarım pizzadır?

(A)



(B)



(C)



10) Ali 13 yaşındadır. Ayşe, Ali'den 5 yaş büyüktür. Ali ile Ayşe'nin yaşları toplamı kaçtır

(A)

31

(B)

30

(C)

32



Ali



Ayşe

## DENEME SINAVI-I

Puan

Adı Soyadı: \_\_\_\_\_ Sınıfı/Numarası: \_\_\_\_ / \_\_\_\_

1) Aşağıdakilerden hangisi yemek yerken uyulması gereken kurallardan değildir?

- (A) Yemek yerken çatal bıçak kullanmak
- (B) Ağızımızda yemek varken konuşmamak
- (C) Yemeğimizi sohbet ederek yemek



2) Aşağıdakilerden hangisi millî bayramlarımızdan değildir?

- (A) Cumhuriyet Bayramı
- (B) Zafer Bayramı
- (C) Kurban Bayramı

3) Aşağıdakilerden hangisi kişisel bakımımızla ilgili değildir?

(A)



(B)




(C)



4) Aşağıdakilerden hangisi sağlığımız için zararlıdır?

(A)



(B)



(C)



5) Aşağıdaki ifadelerden hangisi yanlıştır?

- (A) Konuşan arkadaşımızın sözünü kesmemek.
- (B) Ders zili çaldığında sıramıza oturmak.
- (C) Öğretmen ders anlatırken sınıfta dolaşmak.

6) Yandaki görselde verilen acil durumda hangi telefon numarasını **aramalıyız**?



- (A) 1-5-5      (B) 1-1-2      (C) 1-1-0

7) Okula geliş ve gidişler sırasında ne yapmalıyız?

- (A) Tanımadığımız insanlarla konuşmamalıyız.  
 (B) Açıkta satılan yiyecekleri satın almalıyız.  
 (C) Taşıtların aralarından geçmeliyiz.



Okul geçidi



Yürüyen merdiven



Yaya geçidi

8) Yukarıda numaralı olarak verilen trafik levhalarından hangisinin ismi yanlış yazılmıştır?

- (A) 1      (B) 2      (C) 3

9) Sağlık görevlilerinin okula aşı için geldiğini gördüğümüzde yapmalıyız?

- (A) Hemen saklanmalıyız.  
 (B) Korkup ağlamalıyız.  
 (C) Aşı ile sağlığımızın korunacağı için sevinmeliyiz.



10) Aşağıdakilerden hangisi görgü kurallarından biridir?

- (A) Yemeği hızlı yemek  
 (B) Yerlere tükürmemek  
 (C) Selam vermemek