

Öğrencinin :

Adı Soyadı :

1.Sınıf Ev Çalışma Kâğıdı

Aşağıdaki metni tekrar tekrar oku. Daha sonra soruları cevapla

GEMİ

Giray, günlük gazeteleri okuyordu. Gazetede bir gemi gördü. "Dede ne güzel bir gemi. Beni gezdirir misin?," dedi. Dedesi: " Olur Giray, gidelim güzel gemiyi yakından görelim bakalım," dedi.

Giray en güzel giysilerini giydi. Dedesi ile birlikte gemiyi görmek için limana gittiler. Giray gazetedeki gemiyi uzaktan gördü. "Dede işte bu gemi!," dedi. Gemi resimdekinden çok daha görkemli görünüyordu. Dedesi geminin kaptanından izin aldı. Gemiye bindiler. Birlikte gemiyi gezdiler.

Giray çok mutlu oldu. Güzel bir gün geçirdiği için dedesine teşekkür etti. Akşam bu güzel günün anılarını günlüğüne güzel bir yazı ile yazdı.

SORULAR

1- Giray gemiyi nerede gördü?

2- Gemiye görmeye kiminle birlikte gittiler?

3- Gemiye görmek için nereye gittiler?

4- Gemi nasıl görünüyordu?

5- Gemiye gezmek için kimden izin aldılar?

6-Giray akşam ne yaptı?

Aşağıdaki tekerlemeyi üç defa oku ve bakmadan çizgili defterine yaz

GEM?

Gemi gemi görkemli gemi!

Güle güle git e mi?

Gururlu gururlu yüzersin

Tüm dünyayı gezersin

Güzel gemi, güzel gemi,

Beni de gezmeye götür e mi?

TOPLAMA İŞLEMİ ÇALIŞMA YAPRAĞI

$$\begin{array}{r} 14 \\ +9 \\ \hline \end{array} \quad \begin{array}{r} 16 \\ +4 \\ \hline \end{array} \quad \begin{array}{r} 15 \\ +7 \\ \hline \end{array} \quad \begin{array}{r} 17 \\ +8 \\ \hline \end{array} \quad \begin{array}{r} 18 \\ +9 \\ \hline \end{array} \quad \begin{array}{r} 16 \\ +7 \\ \hline \end{array} \quad \begin{array}{r} 14 \\ +5 \\ \hline \end{array} \quad \begin{array}{r} 18 \\ +4 \\ \hline \end{array}$$

$$\begin{array}{r} 16 \\ +8 \\ \hline \end{array} \quad \begin{array}{r} 17 \\ +5 \\ \hline \end{array} \quad \begin{array}{r} 14 \\ +4 \\ \hline \end{array} \quad \begin{array}{r} 15 \\ +6 \\ \hline \end{array} \quad \begin{array}{r} 9 \\ +9 \\ \hline \end{array} \quad \begin{array}{r} 19 \\ +6 \\ \hline \end{array} \quad \begin{array}{r} 16 \\ +5 \\ \hline \end{array} \quad \begin{array}{r} 15 \\ +9 \\ \hline \end{array}$$

$$\begin{array}{r} 15 \\ +9 \\ \hline \end{array} \quad \begin{array}{r} 16 \\ +7 \\ \hline \end{array} \quad \begin{array}{r} 17 \\ +4 \\ \hline \end{array} \quad \begin{array}{r} 19 \\ +5 \\ \hline \end{array} \quad \begin{array}{r} 17 \\ +8 \\ \hline \end{array} \quad \begin{array}{r} 14 \\ +6 \\ \hline \end{array} \quad \begin{array}{r} 15 \\ +5 \\ \hline \end{array} \quad \begin{array}{r} 18 \\ +7 \\ \hline \end{array}$$






Ayşe



Burak



Gülseren



Aşağıdaki soruları resme göre cevaplayalım.

1. Ayşe ile Burak'ın toplam kaç elması vardır?
2. Burak ile Gülseren'in toplam kaç elması vardır?
3. Ayşe ile Gülseren'in toplam kaç elması vardır?
4. Ayşe , Burak ve Gülseren'in toplam kaç elması vardır?