

Adı ve Soyadı :

1) Aşağıdaki kelimelerden hangisinde daha çok hece vardır?

- (A) Şair (B) Aile (C) Trafik

2) Aşağıdaki kelimelerden hangisi doğru yazılmıştır?

- (A) Kaplumbaa (B) Sovan (C) Kurbağa

3) Aşağıdakilerden hangisinde satır sonuna sığmayan sözcük yanlış yazılmıştır?

- (A) Sandal-ye (B) San-dalye (C) Sande-lye

4) "Emir, okulda düştü." Cümlesinde hangi sorunun cevabı yoktur?

- (A) Ne zaman düştü?
(B) Nerede düştü?
(C) Kim düştü?



Emir

5) Aşağıdaki sözcük çiftlerinden hangisi zıt anlamlı değildir?

- (A) İleri - geri
(B) Fakir - yoksul
(C) Hızlı - yavaş

6) Panodaki isimlerden kaç tanesi **özel isimdir**?

- (A) 4
(B) 2
(C) 3

j Ağrı Dağı j perde
j kalem j Göztepe Mahallesi
j Atatürk İlkokulu j masa

7) Aşağıdaki cümlelerin hangisinde yazım yanlışı vardır?

- (A) İlayda, fatih mahallesinde oturuyor.
(B) Türkiye'nin en büyük gölü Van Gölü'dür.
(C) Esra, Ayşe'nin silgisini düşürdü.

Ahmet, sabah erkenden annesiyle pazara gitti. Bayramlık kıyafet alacağı için çok heyecanlıydı.

8. 9. ve 10. soruları yukarıdaki metne göre cevaplayın.

8) Ahmet pazara ne zaman gitti?

- (A) Öğle vakti
(B) Akşama doğru
(C) Sabah erkenden

9) Ahmet pazara kiminle gitti?

- (A) Annesiyle (B) Babasıyla (C) Ablasıyla


10) Ahmet niçin çok heyecanlıydı?

- (A) İlk kez pazara gittiği için
(B) Bayramlık alacağı için
(C) Meyve yiyeceği için


Adı ve Soyadı :

- 1) Yandaki toplama işlemlerine göre “ ? ” kaçtır?

- (A) 84
(B) 64
(C) 74



$$\begin{array}{r} 24 \\ + 13 \\ \hline \end{array}$$



$$\begin{array}{r} ? \\ + ? \\ \hline ? \end{array}$$



- 2) Azra'nın kumbarasından yukarıdaki paralar çıkmıştır. Azra bu paralarla aşağıdakilerden hangisini alamaz?

(A)



tren

20 ₺

(B)



ayıcık

15 ₺

(C)



masal kitabı

12 ₺

- 3) Can 1. gün 27 sayfa kitap okumuştur. 2. gün ise 1. günden 8 sayfa fazla okumuştur. Buna göre Can iki günde kaç sayfa kitap okumuştur?



Can

(A) 52

(B) 62

(C) 72

- 4) Aşağıdaki çıkarma işlemlerinden hangisi yanlış yapılmıştır?

(A)

$$\begin{array}{r} 58 \\ - 27 \\ \hline 41 \end{array}$$

(B)

$$\begin{array}{r} 66 \\ - 42 \\ \hline 24 \end{array}$$

(C)

$$\begin{array}{r} 85 \\ - 29 \\ \hline 56 \end{array}$$

- 5) Bir simitçi 65 tane simitten 48 tanesini satmıştır. Buna göre simitçinin geriye kaç tane simidi kalmıştır?

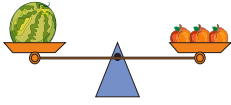
(A) 18

(B) 27

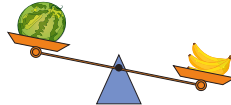
(C) 17

6) Aşağıdakilerin hangisinde karpuz terazinin diğer kefesindeki nesneden daha ağırdır?

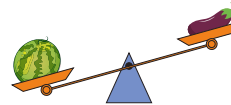
(A)



(B)



(C)



7) Aşağıdaki pizzalardan hangisi çeyrek dilimlere ayrılmıştır?


(A)



(B)



(C)




1




2

8) Yukarıdaki örüntünün kuralına göre 1 ve 2 numaralı yerlere hangi şekiller gelmelidir?


(A)



(B)



(C)



9) Aşağıdakilerden hangisi en hafiftir?

(A)



(B)

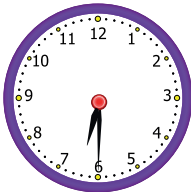


(C)

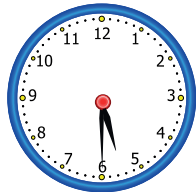


10) Aşağıda verilen saat modellerinden hangisinde saat 5.30 (5 buçuk) dur?

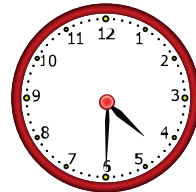
(A)



(B)



(C)



Adı ve Soyadı :

1) Aşağıdakilerden hangisi sınıf eşyalarından biri değildir?

A



B



C



2) Yandaki cümleye göre Mert kendisini tanıtırken ilk olarak aşağıdakilerden hangisini söylemelidir?

A


Dondurmayı çok sevdiğini.

B

Adını ve soyadını söyleyerek tanışma isteğini

C

Büyüyünce öğretmen olmak istediğini

Merhaba bundan sonra sizinle
1D sınıfında okuyacağım .

3) Aşağıdakilerden hangisi okulun bölümlerinden biri değildir?

A




banyo

B



sınıf


C



kütüphane

4) Aşağıdakilerden hangisi okula gelirken kullandığımız güvenli bir yol değildir?


A



B



C



5) Aşağıdakilerden çocuklardan hangisi kaynakları doğru kullanıyor?

A



B



C



6) Bayrak töreninde aşağıdaki davranışlardan hangisini yaparsak yanlış olur?

- (A) Tören esnasında arkadaşımızla konuşmak.
- (B) İstiklal Marşı'nı yüksek sesle ve kuralına uygun okumak.
- (C) Hazır ol biçiminde beklemek.

7) Ercan arkadaşlarının oyununa katılmak istemektedir." Bu durumda Ercan aşağıdaki ifadelerden hangisini **kullanmalıdır**?

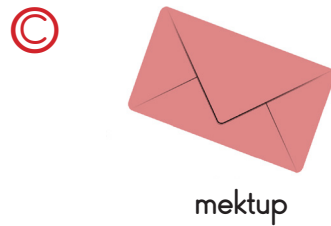
- (A) Hemen beni oyuna alın.
- (B) Sizinle oyun oynayabilir miyim?
- (C) Beni oynatmazsanız sizi döverim.

8) "Ali çok iyi resim yaparken Ayşe'de çok iyi tenis oynuyor." Bu ifadeye göre aşağıdakilerden hangisi **doğrudur**?

- (A) Ayşe, Ali'yi kıskanıyor.
- (B) Ali, Ayşe'den çalışkandır.
- (C) Ali ve Ayşe'nin bireysel yetenekleri farklıdır.



9) Aşağıdakilerden hangisi kitle iletişim araçlarından biri değildir?



10) Sağlıklı ve düzenli beslenen Berra aşağıdakilerden hangisini yemez?

