

1.SINIF DENEME SINAVI

TÜRKÇE

SPOR

Her insana spor gerek ;
Spor demek, sağlık demek,
Koş, oyna, yüz, spor yap.
Budur sağlıklı büyümek.
(A. ÇAKMAKÇIOĞLU)

İlk iki soruyu şiire göre
cevaplayınız.

1) Şiire göre her insana ne
gerekli olan nedir ?

- A) beslenmek
- B) oyun oynamak
- C) spor yapmak

2) Şiirde hangi spor dalından
bahsedilmemiştir?

- A) koşma
- B) yüzme
- C) basketbol

4) Aşağıdaki kelimelerden
hangisi doğru yazılmıştır ?

- A) yalnız
- B) perşenbe
- C) saat

5) "Aylin' e siyah etek çok
yakışmış." Cümlesinde altı çizili
sözcüğün eş anlamlısı
hangisidir ?

- A) al
- B) kara
- C) ak

6) Aşağıdaki kelimelerden
hangisinin hecelerine ayrılışında
yanlışlık yapılmıştır ?

- A) kı-sa
- B) za-yıf
- C) kil-o-lu

1.SINIF DENEME SINAVI (2)

7) Aşağıdaki kelimelerden hangisi sözlük sırasına göre diğerlerinden önce gelir ?

- A) Adana
- B) Bursa
- C) İzmir

8) Aşağıdaki sözcüklerden hangisinde üç tane sesli harf vardır ?

- A) hatıra
- B) yaşlı
- C) marangozluk

9) Alfabemizde kaç tane harf vardır?

- A) 8 B) 29 C) 45

10) Aşağıdaki sözcüklerden hangisinin eş anlamlısı yoktur ?

- A) kırmızı
- B) yaşlı
- C) koşmak

HAYAT BİLGİSİ

1) Aşağıdakilerden hangisi kişisel bakımla ilgilidir?

- A) Ders çalışmak.
- B) Tırnak kesmek.
- C) Temizlik yapmak.

2) Aşağıdakilerden hangisi, sınıfımızdaki Şeref Köşesi'nde yer almaz?

- A) Andımız
- B) İstiklal Marşı
- C) Gençliğe Hitabe

3)



Trafik lambasındaki hangi ışık yandığında araçlar hareket eder ?

- A) Kırmızı
- B) Sarı
- C) Yeşil

1.SINIF DENEME SINAVI (2)

- 4) Benim yaşam alanım ; denizler, göller, ve akarsulardır.

Yukarıdaki şekilde kendini tanıtan canlı aşağıdakilerden hangisidir?

- A) Karga
- B) Balık
- C) Sincap

- 5) Aşağıdaki hayvanlardan hangisi otla beslenmez ?

- A) İnek
- B) At
- C) Aslan

- 6) Su, buzlukta belli bir süre kalırsa olur.

Yukarıdaki cümlede noktalı yere aşağıdakilerden hangisi yazılmalıdır?

- A) Kaynama
- B) Donma
- C) Erime

- 7) Mustafa, elini yıkadıktan sonra muslukları açık bırakır.

Bu şekilde davranan Mustafa için aşağıdaki söylenenlerden hangisi doğrudur?

- A) Suyu israf etmektedir.
- B) Tutumludur.
- C) Saygılıdır.

- 8) Su ısıtıldığında hangi olay gerçekleşir?

- A) Erime
- B) Donma
- C) Buharlaşıma

- 9) Aşağıdaki seçeneklerden hangisi gelecekte yapılacak bir olaydan bahsetmektedir?

- A) Top oynuyorum.
- B) Arkadaşımla sinemaya gideceğiz.
- C) Dün akşam haberleri izledim.

1.SINIF DENEME SINAVI (2)

- 10) Öz geçmişimizi bilmek başkalarıyla iletişim kurmada sağlar.

Bu cümledeki noktalı yere aşağıdakilerden hangisi yazılmalıdır?

- A) zorluk
B) para kazanmayı
C) kolaylık

MATEMATİK

- 1) 25 Kalem , 10 kalemde kaç fazladır?

- A) 10
B) 35
C) 15

- 2) Ali : İki elim, iki ayağımda toplam kaç tane parmak vardır?

- A) 20 B) 15 C) 10

- 3) Sınıf kitaplığımızda 18 tane kitap vardı. Ayşe 6, Mehmet 7 kitap daha getirdi. Kitaplığımızda toplam kaç tane kitap oldu?

- A) 30 B) 31 C) 32

- 4) 19 tane kurabiyenin 6 tanesini yedim. 5 tanesini de beslenme çantama koydum. Geriye kaç tane kurabiyem kaldı ?

- A) 8 B) 9 C) 10

- 5) Dolabımızda 20 tane yumurta vardı. 8 tane daha aldık. Daha sonra 5 tanesini yedik. Dolabımızda kaç tane yumurta kaldı ?

- A) 20 B) 23 C) 24

1.SINIF DENEME SINAVI (2)

6)



Yandaki
dondurmanın
kûlahı hangi
geometrik şekle
benzemektedir?

A) Koni B) Küre C) Silindir

7) 2 TL'nin içinde kaç tane 50 Kr. vardır?


A) 3 B) 4 C) 5

8) Bugün Haziran ayının 10'u ve günlerden pazartesi'dir. Haziran ayının 14'ü hangi güne denk gelir?


A) Perşembe
B) Cuma
C) Cumartesi

9) Annem kardeşimin mamasını saat 3' te vermiş. 2 saat sonra tekrar vermesi gerekiyormuş. Buna göre kardeşime aşağıdaki saatlerden hangisinde mama verilecektir ?


A)



B)



C)



10) 1 TL' yi bakkaldan bozdurdum. Bana verilen paralar hangi seçenekte doğru olarak verilmiştir?

A) 50 Kr, 25 Kr
B) 50 Kr ,25 Kr, 10 Kr
C) 50 Kr,25 Kr, 10 Kr,10 Kr, 5Kr

Başarılar Diliyorum....