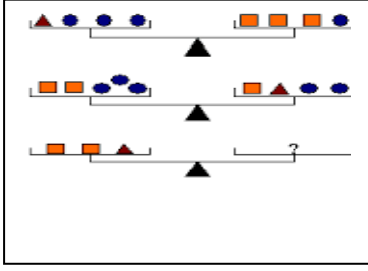


ZEKA SORULARI

SORU-1



Dengeyi sağlayacak şekilleri sağ kefeye yerleştir.

ÇÖZÜM

[illegible]


SORU-2

Bir adamın elinde bir miktar para var bu parayla..
1 kumarhaneye giriyor..Kumarhaneye giriş 50 kuruş
Adam 50 kuruşu veriyor ve masaya oturup tüm parasını
koyuyor. ve 2 katı para kazanıyor.Kumarhaneden çıkarken
de 50 kuruş veriyor
sonra tekrar bir kumarhaneye giriyor giriş 50 kuruş
tekrar tüm parasını yatırıyor sonra yine 2 katı para kazanıyor
çıkarken yine 50 kuruş para veriyor..
Vay diyor adam bugün şansım yaver gitti diyip.tekrar bir
kumarhaneye giriyor.Giriş 50 kuruş. yine parasının hepsini
yatırıyor ve 2 katı para kazanıyor.Çıkarken yine 50 kuruş
veriyor..
Adam : bakalım ne kadar para kazandım bugün diyor
Eline cebine bi atıyor..adamın hiç parası kalmamış
Adamın ilk kumarhaneye girişinde ne kadar parası vardı ?

ÇÖZÜM

[illegible]

SORU-3



Dilgiç Ali, tüple 24 dakika dalebiliyor ve dibe doğru dakikada 6 m, yüzeye doğru 10 m hızla yüzebiliyor. Ali en çok kaç m dibe dalebilir? (Boğulmamak şartıyla)

ÇÖZÜM

.....

.....

.....

.....

.....

.....

• •

SORU-4

Dört arkadaş bir bilet gişesi önünde sıraya girmişlerdir.

- I. Hakan, sıranın en önünde değildir.
II. Nazan, Efe'nin hemen önündedir.
III. Aylin sıranın en arkasındadır.

Buna göre önden üçüncü sırada kim vardır?

ÇÖZÜM

.....

.....
















.....

.....

.....

..

SORU-5

Yeni Soru			
0	0	0	
			
Tamam			
			21
			24
			40
			32
38	44	35	

ÇÖZÜM

.....


.....

.....

.....

.....

..

SORU-6

Bir adımı 50 cm olan Ali, 6 ileriye, 2 geriye doğru adımlar atarak ilerlemektedir. 55 adım attığında ilk noktadan ne kadar uzaklaşmıştır?

ÇÖZÜM

.....

.....

.....

.....

.....

.....

SORU-7

Veli, 45 katlı bir gökdelene tırmanmak istiyor. Her 5 katı 18 dakikada tırmanabilirken, her 15 katta da 39 dakikalık molalar veriyor. Veli'nin gökdelene tırmanışı ne kadar sürer?

**ÇÖZÜM**

.....

.....

.....

.....

.....

.....

.....

SORU-8

20 Şubat 2014 Pazartesi gününden itibaren 30 gün izin alan Ayla Hanım, hangi tarihte hangi gün işbaşı yapar?

ÇÖZÜM

.....

.....

.....

.....

.....

.....