



Kesirleri Karşılaştıralım

PAYLARI EŞİT OLAN KESİRLER

Payları eşit olan kesirlerden paydası küçük olan büyüktür.

$\frac{4}{5}$ ve $\frac{4}{7}$ kesirlerini karşılaştıralım.




$$\frac{4}{5} > \frac{4}{7}$$

PAYDALARI EŞİT OLAN KESİRLER

Paydaları eşit olan kesirlerden payı büyük olan büyüktür.

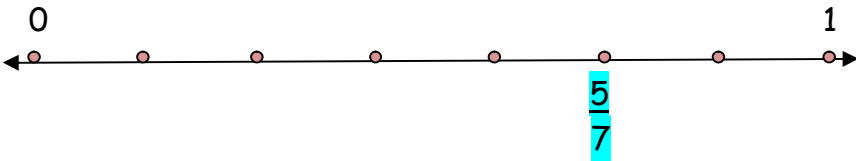
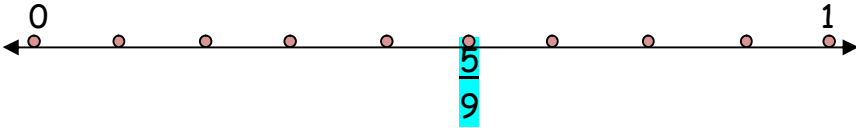
$\frac{5}{6}$ ve $\frac{3}{6}$ kesirlerini karşılaştıralım.



$$\frac{5}{6} > \frac{3}{6}$$

Payları eşit olan kesirlerden paydası küçük olan büyüktür.

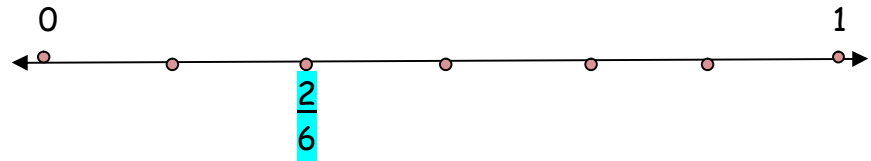
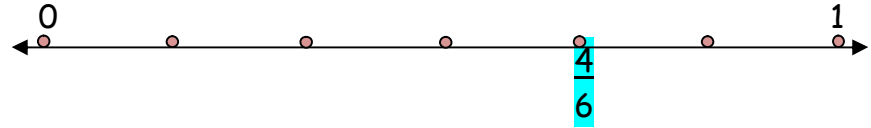
$\frac{5}{9}$ ve $\frac{5}{7}$ kesirlerini karşılaştıralım .



$$\frac{5}{9} < \frac{5}{7}$$

Paydaları eşit olan kesirlerden payı büyük olan büyüktür.

$\frac{4}{6}$ ve $\frac{2}{6}$ kesirlerini karşılaştıralım .



$$\frac{2}{6} < \frac{4}{6}$$

Kesirleri Karşılaştıralım

PAYLARI EŞİT OLAN KESİRLER

Payları eşit olan kesirlerden paydası küçük olan büyüktür.

$\frac{2}{8}$ ve $\frac{2}{3}$ kesirlerini karşılaştıralım.

--	--	--	--	--	--	--	--	--	--

--	--	--	--	--	--	--	--	--	--

— > —

PAYDALARI EŞİT OLAN KESİRLER

Paydaları eşit olan kesirlerden payı büyük olan büyüktür.

$\frac{7}{9}$ ve $\frac{4}{9}$ kesirlerini karşılaştıralım.

--	--	--	--	--	--	--	--	--	--

--	--	--	--	--	--	--	--	--	--

— > —

Payları eşit olan kesirlerden paydası küçük olan büyüktür.

$\frac{5}{9}$ ve $\frac{5}{11}$ kesirlerini karşılaştıralım .

--	--	--	--	--	--	--	--	--	--

--	--	--	--	--	--	--	--	--	--

Paydaları eşit olan kesirlerden payı büyük olan büyüktür.

$\frac{7}{11}$ ve $\frac{10}{11}$ kesirlerini karşılaştıralım .

--	--	--	--	--	--	--	--	--	--

--	--	--	--	--	--	--	--	--	--

--