

Adı Soyadı :

Sınıf : 4/B

No :

Sonuç :

A. Aşağıdaki kesirleri "<, > ve =" sembollerinden uygun olanını yazınız.**10 p.**

a. $\frac{2}{3}$ $\frac{5}{3}$

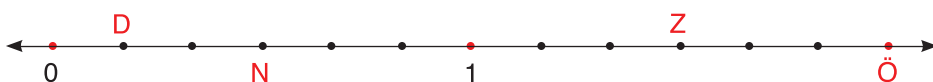
b. $\frac{4}{8}$ $\frac{2}{4}$

c. $1\frac{2}{14}$ $\frac{9}{14}$

d. $\frac{2}{7}$ $\frac{2}{14}$

B. Aşağıdaki kesirleri sembol kullanarak sıralayınız.**10 p.**a. $\frac{5}{9}$, $\frac{7}{9}$, $\frac{4}{9}$, $\frac{8}{9}$ kesirlerini büyükten küçüğe sıralayınız.b. $\frac{11}{7}$, $\frac{11}{10}$, $\frac{11}{5}$, $\frac{11}{8}$ kesirlerini küçükten büyüğe sıralayınız.**C. Aşağıdaki çoklukların verilen kesir kadarını bulunuz.****2x5=10 p.**a. 112 sayısının $\frac{3}{8}$ 'ü kaçtır?b. 102 sayısının $\frac{13}{6}$ 'ü kaçtır?**D. Aşağıdaki problemlerin cevaplarını işlem yaparak bulunuz.****4x5=20 p.**1. Yusuf Bey, 1. gün bahçenin $\frac{3}{8}$ 'ünü, 2. gün $\frac{2}{8}$ 'sini çapladı. Bahçenin kaçta kaç çapalanmamıştır?2. Gül Hanım cüzdanındaki 369 TL'nin $\frac{4}{9}$ 'ünü harcadı. Geriye kaç Türk lirası kaldı?3. Okulumuzdaki 350 öğrencinin $\frac{2}{7}$ 'si kızdır.Okulumuzda kaç kız öğrenci vardır?

4. Sayı doğrusu üzerinde D, N, Z ve Ö noktalarına karşılık gelen kesirleri altlarına yazınız.



E. Aşağıdaki noktalı yerlere kutulardaki uygun sayıları yazınız.**8x1=8p.**

305

15

60

75

180

720

60

3600

a. 1 saat = dakikadır.

b. 1 dakika = saniyedir.

c. 3 saat = dakikadır.

ç. 12 dakika = saniyedir.

d. 1 saat 15 dakika = dakikadır.

e. Çeyrek saat = dakikadır.

f. 60 dakika = saniyedir.

g. 5 dakika 5 saniye = saniyedir.

F. Aşağıdaki kesirleri sayı doğrusu üzerinde gösteriniz.**1x5=5 p.**

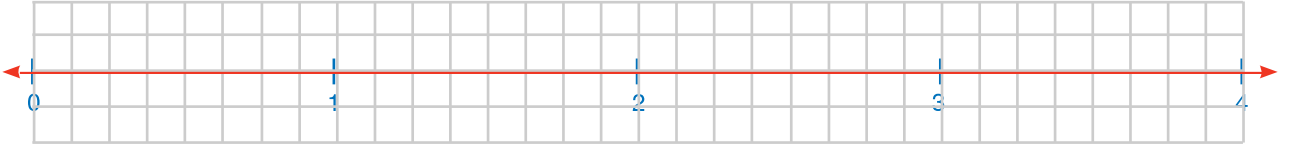
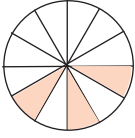
$\frac{14}{8}$

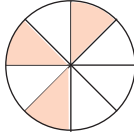
$\frac{9}{8}$

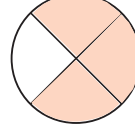
$3\frac{3}{8}$

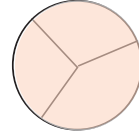
$\frac{4}{8}$

$2\frac{5}{8}$

**G. Aşağıdaki modelleri kesir olarak yazınız.****4x3=12 p.**







H. Aşağıdaki kesirleri çeşitleri ile oklar çıkararak eşleştiriniz.**2x5=10 p.**

basit kesir

bileşik kesir

tam sayılı kesir

$\frac{4}{9}$

$1\frac{3}{12}$

$\frac{26}{13}$

$4\frac{7}{18}$

$\frac{9}{9}$

I. Aşağıdaki soruların yanıtlarını seçenekler içinden bulup işaretleyiniz.**3x5=15 p.****1.** Yukarıdaki şeklin birim kesri hangi seçenekte verilmiştir?

A. $\frac{1}{3}$

B. $\frac{1}{4}$

C. $\frac{1}{7}$

D. $\frac{3}{7}$

2. Aşağıdakilerden hangisi doğru değildir?

A. 1L = 1000 mL

B. 4 L = 400 mL

C. 16 L = 16.000 mL

D. 3003 mL = 3 L 3 mL

3. Aşağıdakilerden hangisinin okunuşu doğrudur?

A. $\frac{1}{2}$ = Birde iki

B. $\frac{1}{4}$ = Birde dört

C. $\frac{9}{7}$ = Dokuzda yedi

D. $\frac{3}{7}$ = Yedide üç